

Hece Bilgisi

Sözcükleri hecelerine ayırarak kaç heceden oluştuklarını kutulara yazalım.

Sözcük

Sözcüğü Hecelerine Ayırın.

Hece Sayısı

dikdörtgen

.....

tramvay

.....

kerpeten

.....

odunluk

.....

internet

.....

daima

.....

sebzecilik

.....

elektrik

.....

sarmaşık

.....

tekerleme

.....

böğürtlen

.....

planlama

.....

Çanakkale

.....

kraliçe

.....

sivrisinek

.....

yağmurluk

.....

aileler

.....

KÜÇÜK ARI

Küçük bir ormanda Maya adında bir arı varmış. Arı Maya sadece güllere konarmış. Güllerden bal yapar, vız diye uçarmış. Bir gün iğnesi güle takılmış ve yardım edin diye bağırmış. Oradan geçen bir kuş, arı Mayayı gülden kurtarmış.

1	Hikâyemizin adı ne?
2	Hikayede hangi hayvanlar var?
3	Arı'nın adı neymiş?
4	Arı Maya hangi çiçekten bal yaparmış?
5	Arı Maya'yı kim kurtarmış

MASAL DEDE

Masal Dede, ak saçlıydı. Boyu oldukça uzundu. Zayıftı. Bu ismi çocuklar ona vermişti. Asıl adı Uğur'du. Uğur, çocuklara çok masal anlatırdı. Onun için çocuklar ona Masal Dede diyorlardı. Her akşam parkta masal anlatırdı.

1	Masal Dede'nin asıl adı nedir?
2	Masal Dede, nerede çocuklara masal anlatırmış?
3	Uğur'a niçin Masal Dede diyorlarmış?
4	Masal Dede nasıl birisiymiş
5	Kim Uğur'a Masal Dede diyormuş?
6	Uğur ne zaman çocuklara masal anlatıyormuş?

















DERYA YERE DÜŞTÜ

















Derya kantine giderken yere düştü. Arkadaşı Gamze ona yardım etti. Derya'yı yerde gören Ali de, ona yardım etti. Ali ile Gamze Derya'yı yerden kaldırdılar. Bu durumdan, üçü de mutlu oldular.

1	Kim düştü?
2	Derya 'ya ilk olarak kim yardım etti?
3	Derya nereye gidiyordu?
4	Sen de arkadaşlarına böyle yardım ediyormusun?

100'E KADAR NESNE SAYILARINI BELİRLEME VE YAZMA

Aşağıdaki yıldızları sayalım. Sonucu noktalı yerlere yazalım.

								Tahmini Sayı:
								Gerçek Sayı:

								Tahmini Sayı:
								Gerçek Sayı:

								Tahmini Sayı:
								Gerçek Sayı:

Aşağıdaki çiçekleri sayınız. Saydığınız sayıları balıklarla eşleştiriniz.































































18























16











































26

Aşağıdaki varlıkları sayalım. Sonucu noktalı yerlere yazalım.

										Tahmini Sayı:
										Gerçek Sayı:

										Tahmini Sayı:
										Gerçek Sayı:

										Tahmini Sayı:
										Gerçek Sayı:

Aşağıdaki çiçekleri sayınız. Uygun sayının bulunduğu kedilerle eşleştiriniz.



18



16



34

