

HAYAT BİLGİSİ DERSİ SORULARI

1. Burnumuzu kullanarak aşağıdakilerden hangisini algılayabiliriz?
A) kolonyanın kokusunu B) uçağın sesini C) çayın sıcaklığını
2. Matematik dersinde aşağıdakilerden hangisi **gerekmez**?
A) cetvel B) sulu boya C) kalem
3. Nurgül, yarın ayın 30'u diyor. Dün ayın kaçtıydı?
A) 27 B) 28 C) 26
4. Aşağıda verilen bilgilerden hangisi **yanlıştır**?
A) Güneş doğudan doğar, batıdan batar.
B) Geceleri Güneş'i göremeyiz.
C) Güneş battığı zaman sabah olur.
5. Aşağıdakilerden hangisi **mavi** renkte görünür?
A) denizler B) ağaçlar C) otlar
6. "*Zeynep, sokağa çıkmadan önce üzerine paltosunu, atkısını ve beresini giydi.*" Buna göre Zeynep hangi mevsimi yaşıyordu?
A) yaz B) kış C) ilkbahar
7. Atatürk'ün özelliklerine **uymayan** seçenek hangisidir?
A) Dağınık ve düzensiz.
B) Vatanını ve milletini seven.
C) çalışkan ve planlı.
8. Hata yapan arkadaşımıza tutumumuz nasıl olmalıdır?
A) sevinçli B) kızgın C) hoşgörülü
9. Annemizin kız kardeşine ne deriz?
A) yenge B) teyze C) hala
10. Hangisi kişisel bakım eşyalarımızdandır?
A) çanta B) diş fırçası C) defter
11. Bir yaşındaki çocuk tek başına hangisini **yapamaz**?
A) Acıkınca ağlar. B) Emekler. C) Banyo yapabilir.

MATEMATİK DERSİ SORULARI

1. Boş bırakılan kutulara hangi sayılar yazılmalıdır?

A) 61 – 40 B) 51 – 46 C) 55 – 40

2. "16 sayısı, 17 sayısından" boş bırakılan yere ne yazılmalıdır?

A) büyüktür B) küçüktür C) eşittir

3. Sevim 9 yaşında, Berk 6 yaşında, Selçuk 11 yaşındadır. Yaşı en küçük olan kimdir?

A) Berk B) Sevim C) Selçuk

4. Hangi seçenekteki ifade yanlıştır?

A) 20 sayısı, 2 onluk ve 2 birlikten oluşur.

B) 10 sayısı, 1 onluk ve 0 birlikten oluşur.

C) 18 sayısı, 1 onluk ve 8 birlikten oluşur.

5. Annem kek için 6, omlet için kekten 1 fazla yumurta kullandı. Annem toplam kaç yumurta kullanmıştır?

A) 10 B) 12 C) 13

6. Yandaki çıkarma işlemlerinden kaç tanesinin sonucu "6" dir ?

A) 2 B) 3 C) 1

7. - 6 = 4 işleminde hangi terim verilmemiştir?

A) çıkan B) eksilen C) fark

8.     Yandaki şekillerden kaç tanesi yarımı ifade eder?

A) 3 B) 2 C) 1

9. Haziran ayının 6'sı Cuma'dır. Buna göre haziran ayının 4'ü hangi gündü?

A) Çarşamba B) Perşembe C) Cumartesi

10. 29'dan bir önce ve bir sonra gelen sayılar hangisidir?

A) 30 – 32 B) 27 – 28 C) 28 – 30


11. 13 yaşındaki Fatih, 5 yıl önce kaç yaşındaydı?

A) 8 B) 10 C) 11

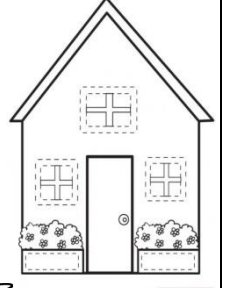
STANDART OLMAYAN UZUNLUK ÖLÇÜLERİ





Ev ile ağaç arasındaki uzaklıkadım , ayaktır.



Okul resmini boya

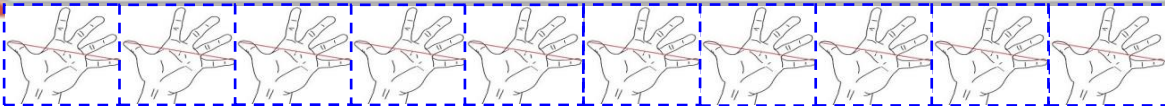
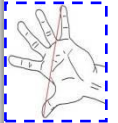
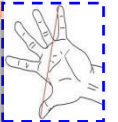


Okul ile ev arasındaki uzaklıkadımdır.

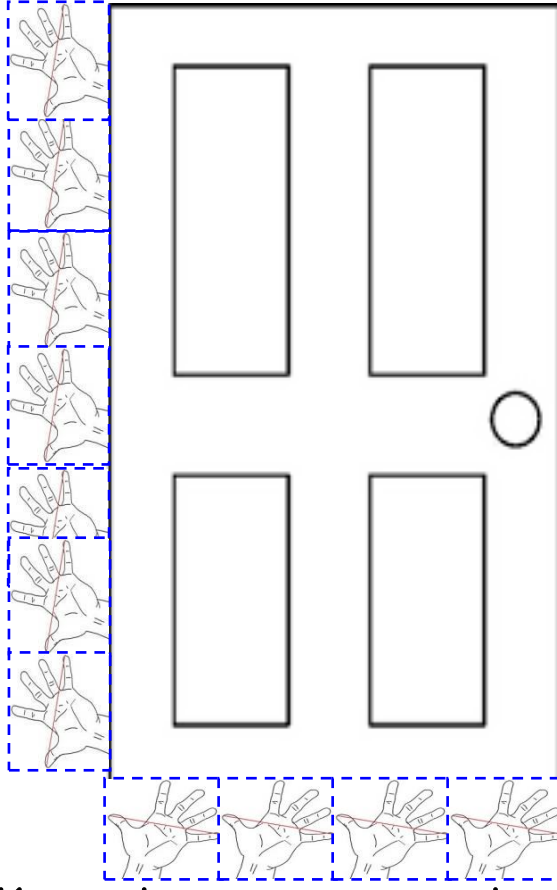


Ev ile park arasındaki uzaklıkayaktır.

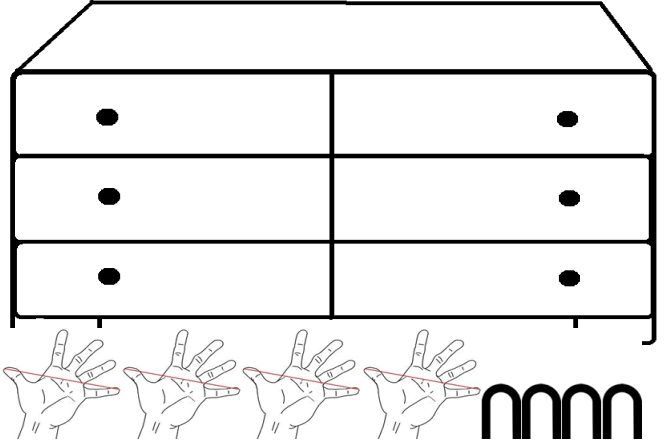
Ders : Matematik
Konu : Uzunluk Ölçüleri



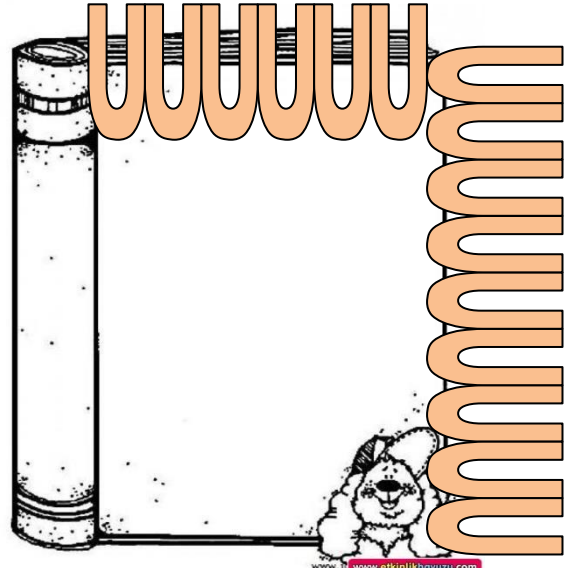
Yazı tahtasının eni , boyukarıştır.




Kapının boyu, eni karıştır.



Dolabın enikarış ,parmağıdır.



Kitabın eni , boyuparmağıdır.



Halının boyu, eni ayaktır