

TÜRKÇE TEST

Bir gün kurt, yakaladığı avını yerken boğazına bir kemik batmış. Ne kadar uğraşmışsa da kemiği boğazından çıkaramamış. Gitmedik doktor kalmamış ama nafîle, hiç kimse kurdun boğazındaki kemiği çıkaramıyormuş. Hayvanlardan birisi şöyle demiş; “ Bu kemiği çıkarsa çıkarsa, ancak leylek çıkarabilir. Çünkü onun çok uzun bir gagası var.

1. Okuduğunuz hikayenin başlığı ne olabilir?

- A)Yavru ceylan B)Kurt ile Leylek
C)Gökkuşuğu

2. Kurdun boğazına ne batmış?

- A) Kalem B) Diken C) Kemik

3. Kurt boğazına batan cismi çıkartmak için hangi hayvana gitmiş?

- A) Aslan B) Tilki C) Leylek

4. Bu hikaye aşağıdaki cümlelerden hangisiyle devam edebilir?

- A) Leylek yuvasında yokmuş.
B) Gagasını boğazına sokarak kemiği çıkarmış.
C) Kemiği çıkartmak için kurttan para istemiş.

5. Aşağıdaki cümlede kaç tane sözcük vardır?

“ Anneciğim artık yorulдум!”

- A) 1 B) 3 C) 4

6. “Ormanda hepimize yetecek kadar yiyecek var () Neden kavga edelim ki ()” cümlesinde işaretli yere sırası ile hangi noktalama işaretleri gelmelidir?

- A) (.) ve (?) B) (?) ve (!) C) (,) ve (,)

7. Aşağıdakilerden hangisi bir cümledir?

- A) Anneciğim artık B) Evimize
C) Oh be! Dünya varmış.

8. “Akılsız-çeker-derdini-ayaklar-başın” kelimeleriyle yapılabilecek anlamlı cümle hangisidir?

- A) Akılsız derdin çeker ayaklar başın.
B) Akılsız başın derdini ayaklar çeker.
C) Ayaklar derdini çeker başın.

9. “Müjde arkadaşlar () “ Cümlesinin sonuna aşağıdaki noktalama işaretlerinden hangisi gelmelidir?

- A) Soru işareti B) Virgül C) Ünlem (!)

10)Aşağıdakilerin hangisi yanlış yazılmıştır?

- A) Anne B) Tiren C) Kitap

11. Aşağıda verilen eşleştirmelerden hangisi farklıdır?

- a)Kırmızı-al b)Siyah –kara c)Uzun – kısa

12. “ ZAMBAK” kelimesinin harfleriyle aşağıdakilerden hangisi olusturulamaz?

- A) Kazma B)Kaza C)Makas

13. Aşağıdaki kelimelerden hangisi hecelerine doğru ayrılmıştır?

- A) To-mur-cuk B) A-tat-ürk C) Ok-ul

14. Aşağıdakilerden hangisinin sonuna soru işareti(?) konmalıdır?

- A)Babam eve geldi mi
B) Söylediklerimi unutma
C) Bu pantolonu sevdim

15. Aşağıdakilerin hangisinde özel isim yoktur?

- a) Akşama sinemaya gideceğiz.
b) Ablası Malatya Lisesi' nde okuyormuş.
c) Halam Ankara' ya taşındı.

16. “Can yaptığı hatayı anlayınca arkadaşındandilemiş.”

Cümlesinde boş bırakılan yere aşağıdakilerden hangisi gelebilir?

- A) Kalem B) Özür C) Başarı

17) “Portakallar” sözcüğünü satır sonuna sığdıramazsak nasıl böleriz?

- A)Port-akallar B)Portak-allar
C)Porta-kallar

18) Hangi seçenekteki adları her zaman büyük harfle yazmalıyız?

- A)Eşya adları B) Mevsimlerin adları
C)Şehir adları

19) “Yattım-erkenden-akşam-bu”

sözcükleriyle oluşturulacak kurallı cümle aşağıdakilerden hangisidir?

- A) Bu akşam erkenden yattım.
B) Erkenden yattım bu akşam
C) Yattım erkenden bu akşam.

20) “Atatürk,çıktığı.....gezilerinde

..... da uğrardı.” Cümlesinde boş bırakılan yerlere sırasıyla hangi sözcükler yazılmalı

- A)Otobüs-okullara B)Yurt-okullara
C)Vatan-öğrencilere

21) Aşağıdaki tümcelerin hangisinde bir sözcük karşıt anlamıyla birlikte kullanılmıştır?

- A. Bir elin nesi var, iki elin sesi var.
B. Güler misin ağlar mısın?
C. Damlaya damlaya göl olur.

22) Annem()ablam() babam ve ben tatile gideceğiz.

Yukarıdaki cümlede(tümcede) parantezle gösterilen yerlere, hangi noktalama işareti konmalıdır?

- A) Soru işareti B) Virgül C) Ünlem

23) Aşağıdakilerden hangisi, sözlükte daha sonda yer alır?

- A) Üzüm B) Üzüntü C) Üzengi

24) “Yavaş” sözcüğünün karşıt(zıt) anlamlısı aşağıdakilerden hangisidir?

- A) Ağır B) Hızlı C) Acele

25) “Faydalı” sözcüğünün eş anlamlısı aşağıdakilerden hangisidir?

- A) Yararlı b) Büyük C) İsteyerek

26) “ soba, metre, kemer “ sözcüklerini sözlük sırasına göre dizersek, hangisi en sonda gelir?

- A) soba B) metre C) kemer

27) “ gitti, kardeşiyle, parka, Ayşegül, birlikte sözcükleriyle kurallı bir tümce kurduğumuzda hangi sözcük sonda yer alır?

- A) parka B) birlikte C) gitti

28) Aşağıdaki cümlelerden hangisinin sonuna soru işareti konur?

- A) Tatil çabuk bitti B) Tatil sona erdi mi
C) Eyvah tatil bitti

29) “Gamze boyama kalemlerini okula getirmeyi unutmuş” Cümlesi kaç heceden oluşmuştur?

- a) 19 b) 20 c) 21

30) “*cemil adanadan tirene binmiş ve istanbula gitmiş.*”

Yukarıdaki cümlede kaç tane yazım yanlışı vardır?

- a) 6 b) 7 c) 8

31) “*Sınıfımızı, temiz, her, tutmalıyız, zaman*” sözcükleriyle düzgün bir tümce kurduğumuzda sondan ikinci sözcük hangisi olur?

- A. temiz B. her C. Tutmalıyız

32- Karışık olarak verilen sözcüklerden anlamlı ve kurallı cümleler oluşturunuz.
yeni – yapılacak – ev – mahallemize

.....
elbiseyle – eski – çıkmadı – sokağa

.....
arıları – gördün mü – çalışkan

.....
kurumuş – güller – parktaki – sarı

33- Aşağıdaki tümcelerde bazı sözcüklerin yazımında yanlışlar yapılmıştır. Bu sözcükleri bularak altını çiziniz. Doğrusunu yazınız.

Selma Kıvrıçğ'ı çok seviyor.

Ali bizimle gelecekmi?

Yarın Erzurum'lu bir arkadaşım gelecek.

Bizim evimiz Barbaros caddesi üzerindedir.

34- Aşağıdaki sözcüklerle eş anlamlılarını eşleştiriniz.

<i>Öğüt</i>	<i>özlem</i>
<i>Fakir</i>	<i>ev</i>
<i>Zahmet</i>	<i>düş</i>
<i>Hasret</i>	<i>nasihat</i>
<i>Konut</i>	<i>fukara</i>
<i>Uyarı</i>	<i>sıkıntı</i>
<i>rüya</i>	<i>ikaz</i>

35- Aşağıdaki sözcüklerle karşıt anlamlarını eşleştiriniz.

<i>Cesur</i>	<i>ön</i>
<i>Arka</i>	<i>ödül</i>
<i>Yumuşak</i>	<i>cömert</i>
<i>Ceza</i>	<i>korkak</i>
<i>Yüksek</i>	<i>alçak</i>
<i>Cimri</i>	<i>sert</i>

36- Aşağıdaki cümlelerin sonuna uygun noktalama işaretleri koyunuz.

Burak yarın okula erken gidecek()

Oh, hava açtı ()


Boş zamanlarını nasıl değerlendiriyorsun ()

Bize gelecek misiniz()

Eyvah, elektrikler kesildi()

UZUNLUK ÖLÇÜLERİ

Aşağıdaki hayvanlarla yiyecekleri arasındaki mesafeyi ölçerek altında verilen yere yazınız.




.....





.....




.....



.....



.....




.....

✚ Aşağıda her çocuk farklı bir uzunluk belirtmiştir. Şeritlerde belirtilen kadar bölümü boyayınız.




13 cm




15 cm




17 cm




9 cm




14 cm



7 cm



18 cm



TAHMİN EDERİM, ÖLÇERİM ETKİNLİK SAYFASI

1. Aşağıdaki kalemlerin uzunluğunu önce tahmin ediniz, daha sonra da ölçerek kontrol ediniz.



Tahminim	Ölçüm	Fark
..... santimetre santimetre santimetre



Tahminim	Ölçüm	Fark
..... santimetre santimetre santimetre



Tahminim	Ölçüm	Fark
..... santimetre santimetre santimetre



Tahminim	Ölçüm	Fark
..... santimetre santimetre santimetre



Tahminim	Ölçüm	Fark
..... santimetre santimetre santimetre



Tahminim	Ölçüm	Fark
..... santimetre santimetre santimetre



Tahminim	Ölçüm	Fark
..... santimetre santimetre santimetre




Tahminim	Ölçüm	Fark
..... santimetre santimetre santimetre



Tahminim	Ölçüm	Fark
..... santimetre santimetre santimetre

TAHMİN EDERİM, ÖLÇERİM ETKİNLİK SAYFASI

1. Aşağıdaki şekillerin uzunluklarının kaç santimetre (cm) olduklarını önce tahmin ederek, sonra ölçerek yazın.

 Tahminim santimetre Ölçme sonucum santimetre

 Tahminim santimetre Ölçme sonucum Santimetre


 Tahminim santimetre Ölçme sonucum santimetre

 Tahminim santimetre Ölçme sonucum santimetre

 Tahminim santimetre Ölçme sonucum santimetre

 Tahminim santimetre Ölçme sonucum santimetre

 Tahminim santimetre Ölçme sonucum santimetre

 Tahminim santimetre Ölçme sonucum santimetre

2. Aşağıda verilen uzunluğu önce elle tahmin ederek, sonra ölçerek çiziniz.

6 cm → Tahmin ederek çizimim -
→ Ölçerek çizimim -

2 cm → Tahmin ederek çizimim -
→ Ölçerek çizimim -

8 cm → Tahmin ederek çizimim -
→ Ölçerek çizimim -

4 cm → Tahmin ederek çizimim -
→ Ölçerek çizimim -

5 cm → Tahmin ederek çizimim -
→ Ölçerek çizimim -

3 cm → Tahmin ederek çizimim -
→ Ölçerek çizimim -