

SÖZLÜK SIRASINA GÖRE SIRALAMA

1) Aşağıda her sırada verilen kelimeleri, alfabe(sözlük) sırasına göre numara veriniz.

3 kayık

1 ceviz

4 yastık

2 fayton

beşik

zil

uyku

dergi

şeker

valiz

emek

çekiç

bebek

balon

bilezik

bulut

takım

tören

turnuva

terlik

merdiven

merdane

merak

mermer

2) Aşağıda her grupta verilen sözcükleri, sözlük sırasına koyunuz.

Ozan
Osman
Oya
Okan

1.Okan
2.Osman
3.Oya
4.Ozan

Kalem
Silgi
Defter
Makas

1.
2.
3.
4.

Sarı
Sıra
Soru
Sera

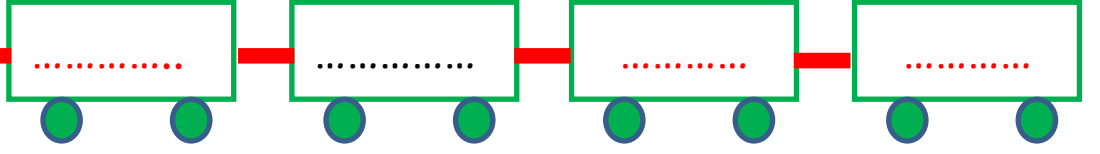

1.
2.
3.
4.

Öğrenci
Terlik
Kaygan
Çizgi

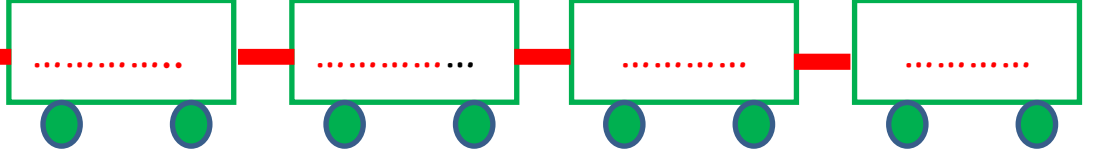

1.
2.
3.
4.

Aşağıdaki kelimeleri sözlük sırasına göre vagonlara yerleştirelim.

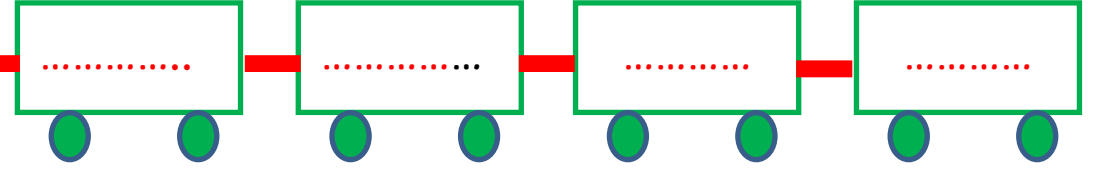

- meydan - haber - kelebek - anahtar



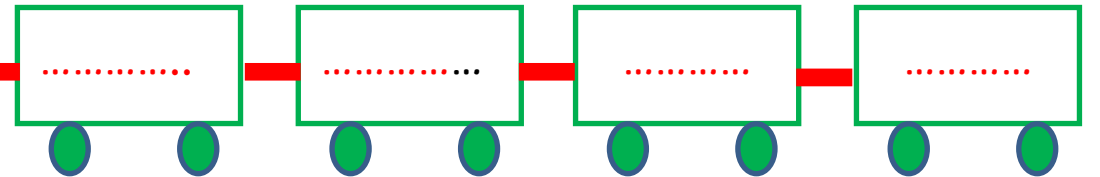

- şeker - gazete - öz - buruk



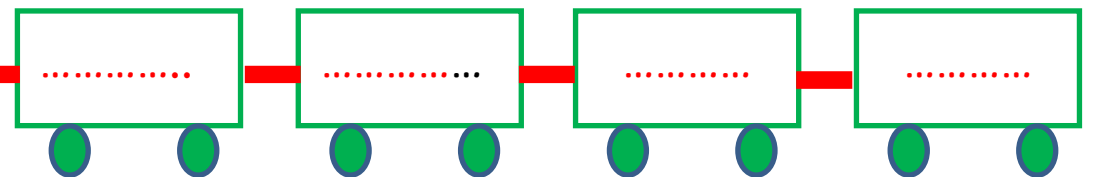

- standart - cam - fidan - zafer



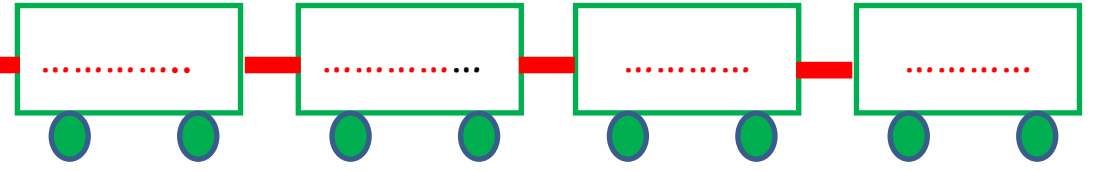

- olay - çanak - umut - dernek



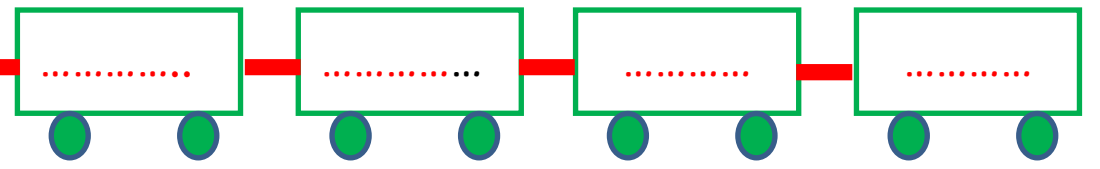

- ekran - vali - ılık - ümit



- türbe - işlek - yurt - paten



- jeton - rakam - lüle - nida

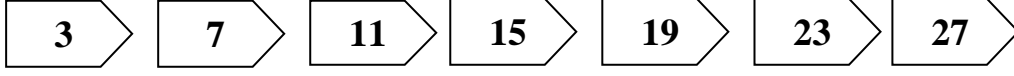


Belirli bir kurala göre dizilmiş şekil veya sayı dizisine **ÖRÜNTÜ** denir.

Sayı örüntüleri belirli bir kurala göre ilerler.


Sayılar arasındaki farklar bulunduğunda sayı örüntüsünün hangi kurala göre ilerlediği ortaya çıkar.

Aşağıdaki sayıları inceleyerek bu sayıların hangi kurala göre sıralandığını




Yukarıdaki sayı dizisini dikkatlice incelediğimizde sayıların dörder artarak ilerlediğini görürüz.

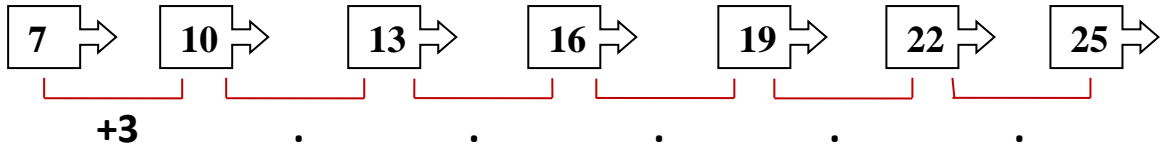
Aşağıdaki sayı örüntüsünün hangi kurala göre ilerlediğini bulalım.



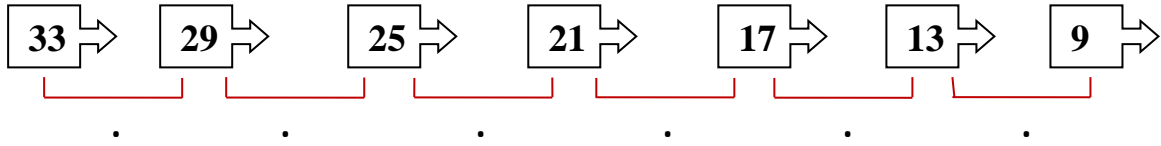
Bu örüntüde sayılar arasındaki farkları sayıların altlarına yazalım




Sayılar arasındaki farkları bularak örüntülerin kurallarını



Örüntünün kuralı:



Örüntünün kuralı:



Örüntünün kuralı:

Aşağıdaki sayı örüntülerinde boş bırakılan yerleri yandaki tabloda yer alan sayılarla tamamlayınız.

5	9	13		21	
3	5	7		11	
9	11	10		11	13
12	15	18			27
	29	26	23	20	17
3	6	5	8	7	
10	18	26	34		50
7	14	20	25		32
4	9	12	17	20	

25
29
17
9
12
21
25
32
10
13
42
24