

YANLIŞLARI DÜZELTELİM YAZALIM

- Aşağıdaki cümleleri dikkatlice oku. Her cümlede bir sözcük yanlış yazılmıştır. Bu sözcüğün altını çiz. Sözcüğü düzelterek cümleyi yeniden yaz.

Çarşamba günü pikniğe gideceğiz.



Herkez kitaplarını okusun.



Sipor yapmayı çok seviyorum.



İlaçları ezzaneden aldın mı?



Kardeşim agaça çıktı



Dün çok yamur yadı.



Annem dolaba yağ ve pinir koydu.



Matematik dersinde pıroblem çözdük.



Baçede oyun oynadık.



Yarın sinemaya gidecez.



SAYALIM BELİRLEYELİM

Cümlelerin sözcük, hece ve harflerini sayalım, karşlarına yazalım.
SÖZCÜKLER OLUŞTURALIM

CÜMLE	Sözcük	Hece	Harf
Uğur ders çalışıyor,	3	7	17
Yarın nereye gideceğiz?			
Şiiri ezberledin mi?			
Biraz sonra güneş doğacak.			
Evimizin önünden tren geçiyor.			
Güner güzel yazı yazıyor.			
Kardeşim mışıl mışıl uyuyor.			
Birbirimize sevgi ve saygı duyalım.			
Anneannem bana kazak örmüş.			
Arkadaşlar çiçekleri kopartmayalım.			
Ece çok düzenli bir öğrencidir.			

Karışık olarak verilen hecelerden sözcükler oluşturalım. Oluşturduğumuz sözcükleri cümle içinde kullanalım.

bek – ke – le →

dur – ma – don →


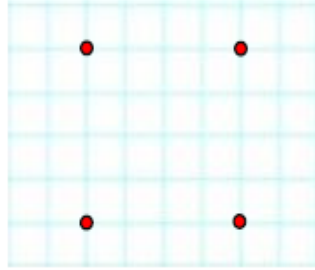
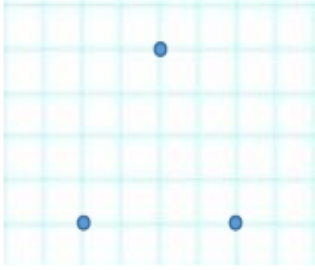
te – ze – ga →

GEOMETRİK CİSİMLER

1. Aşağıdaki çizgileri birleştirip şekillerin köşelerini işaretleyelim.



2. Aynı renk noktaların birleştirip oluşan şekillerin kenar ve köşe sayılarını altlarına yazalım.



Kenar Sayısı: ___

Kenar Sayısı: ___


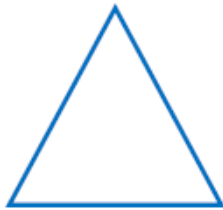
Kenar Sayısı: ___

Köşe Sayısı: ___

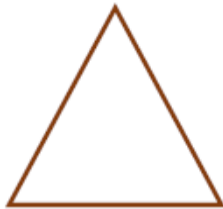
Köşe Sayısı: ___

Köşe Sayısı: ___

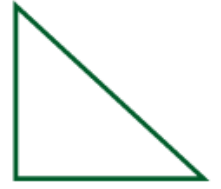

3. Üç kenarı ve üç köşesi olan şekilleri işaretleyelim.



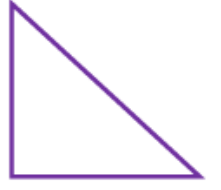

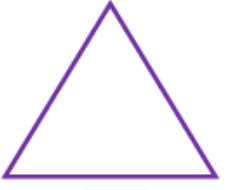
4. Dört köşesi, dört eşit uzunlukta kenarı olan şekli işaretleyelim.



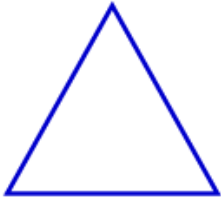
5. Dört köşesi, iki uzun ve iki kısa kenarı olan şekli işaretleyelim.



6. Köşesi olmayan şekli işaretleyelim.



7. Aşağıdaki şekillerle isimleri numaralandırarak eşleştirelim.





1 Kare

2 Üçgen

3 Çember

4 Dikdörtgen



8. Geometrik şekilleri kullanarak aşağıdaki boşluğa bir ev çizelim.