

## HAYAT BİLGİSİ DEĞERLENDİRME SORULARI

1-Kurtuluş Savaşı'nda Türk milletine kim liderlik yapmıştır?

A-İsmet İnönü

B-Kazım Karabekir Paşa

C-Mustafa Kemal Atatürk

2-Aşağıdaki ifadelerden hangisi doğru bir ifade değildir?

A-Ödünç aldığım kitabı zamanında teslim ederim B-Ödünç aldığım eşyayı geri verirken teşekkür etmem

C-Ödünç aldığım eşya zarar gördüğünde bedelini derim

3-Evde yangın çıkarsa aramamız gereken numara hangisidir?

A-118

B-112

C-184

4-Aşağıdakilerden hangisi deprem öncesi yapılması gerekenlerden biridir?

A-Gerçek olmayan deprem haberlerine inanmak

B-Depreme dayanıksız evler yapmak

C-Evdeki eşyaları sabitlemek

5-Aşağıdaki denizlerden hangisi yurdumuzun çevresinde bulunmaz?

A-Kızıldeniz

B-Karadeniz

C-Ege Denizi

6-“Ülkemizin haritasında ..... renkte alanlar denizleri ve gölleri, ..... renkteki alanlar ise dağları göstermektedir.”

Yukarıdaki açıklamaya göre noktalı yerlere hangisi yazılmalıdır?

A-sarı-yeşil

B-mavi-kahverengi

C-sarı-mavi

7-Seçimlerde oy kullanmaya giden insanlar hangi haklarını yerine getirmektedirler?

A-Seyahat hakkı

B-Seçme ve seçilme hakkı

C-Öğrenim hakkı

8-Atık maddelerin geri dönüşüm yoluyla değerlendirilmesinin en olumlu sonucu hangisidir?

A-Çevrenin zarar görmesi önlenir, çevre korunur

B-Atık toplayan kişiler para kazanır

C-Çocuklar boş zamanlarını değerlendirir

9- Aşağıdakilerden hangisi üçüncü sınıfa giden bir öğrencinin yapabileceği işlerden değildir?

A-Kahvaltı yapmak

B-Bilgisayar tamir etmek

C-Kitaplarını kitaplığa yerleştirmek

10- I-Yere düştüğümüzde bir yerimiz acır- Sevinmek

II-Evde yalnız kalırız – Korkmak

III-Lunaparkta eğleniriz- Üzülme

Yukarıdaki olaylara göre yaşanan duygulardan hangilerinin yer değiştirmesi gerekir?

A- I – II

B- I - III

C- II – III

11-Aile içindeki olaylardan hangisi bizi mutlu eder?

A-Sağlıklı bir kardeşimizin doğması B-Babamızın işlerinin bozulması C-Dedenizin kalp krizi geçirmesi

12-Çocukları çok seven onları oynatmayı çok seven birisinin hangi mesleği seçmesi daha uygun olur?

A-avukatlık

B-veterinerlik

C-öğretmenlik

13-Hava sıcaklığını hangi alet ile ölçeriz?

A-metre

B-termometre

C-mikroskop

14-Atatürk Kurtuluş Savaşı'nı ne zaman ve nerede başlatmıştır?

A-Afyonkarahisar– 27 Ağustos 1922

B-Samsun– 19 Mayıs 1919

C-Ankara – 23 Nisan 1920

15-Atatürk'ün barıştan yana bir lider olduğunu hangi sözlerinden anlayabiliriz?

A-Ne mutlu Türk'üm diyene

B-Yurtta barış, dünyada barış

C-Öğretmenler yeni nesil sizlerin eseri olacaktır

16-Bayrağımızla ilgili bilgilerden hangisi yanlıştır?

A-Bayrağımızda üç renk vardır

B-Bayrağımızda ay hilal şeklindedir

C-Bayrağımız bağımsızlığımızın sembolüdür

17-Aşağıdakilerden hangisi cumhuriyetimizi güçlendirmek için yapılması gerekenlerden değildir?

A-Yer altı kaynaklarımızı verimli ve akıllıca kullanmak

B-Milletimizin eğitim seviyesini düşürmek

C-Sağlık alanında yenilikler yapmak ve daha sağlıklı bir nesil oluşturmak

18-Aşağıdaki ulaşım araçlarının hangisinde daha çok yolcu ve yük taşınabilir?

A-tren

B-otomobil

C-helikopter

19-Aşağıdaki icatlardan hangisi diğerlerinden daha sonra yapılmıştır?

A-pusula

B-cep telefonu

C-ampul

20-Uzaktaki insanlarla sesli ve görüntülü olarak iletişim kurmak için aşağıdaki hangi araçtan faidalanamayız?

A-Buzdolabı

B- Cep telefonu

C- Bilgisayar

21-Günümüzde iletişim ve haberleşme alanında en fazla kullandığımız teknolojik araçlar hangisidir?

A-Gazeteler ve dergiler

B-Bilgisayar ve internet

C-Fotoğraf makinesi ve kamera

22-Aşağıdaki yapıların hangisinde daha fazla insan yaşayabilir?

A-Apartman

B-ev

C-gökdelen

23-Aşağıdaki ifadelerden hangisi doğru bir ifadedir?

A-İnsanları oynadıkları oyunlar zaman içinde değışirler

B-Bilgisayar oyunlarının hepsi çocuklar için faydalıdır

C-Dedelerimizin zamanındaki en güzel oyunlar bilgisayar oyunlarıydı

24-Bilim, sanat ve kültür eserlerinin korunduğu ve sergilendiği yere ne ad verilir?

A-cami

B-müze

C-stadyum

25-Canlılar hayatlarını sürdürebilmek için hangilerine ihtiyaç duyarlar?

A-Besin-su-hava

B-Benzin-hava-ateş

C- ev- su - elektrik

26-Bitkilere aşırı miktarda su vermenin zararı ne olabilir?

A-Bitkinin kökünün çürümesi

B-Bitkinin yapraklarının hızla büyümesi

C-Bitkinin dallarının uzaması

27-Aşağıdaki hayvanlardan hangisinin hem etinden hem sütünden faydalanırız?

A-tavuk

B-keçi

C-balık

28-Hangi besin zinciri sıralaması doğrudur?

A- ot –tavuk –koyun

B- tilki-inek-insan

C- ot-ceylan-aslan

29-Aşağıdaki seçenekteki hayvanların tamamı et ile beslenir?

A-at - keçi – aslan

B- tilki – aslan – kurt

C- penguen – yılan - keçi

30-Dağlardan ve tepelerden karın kopup hızla aşağıya yuvarlanması olayına ne denir?

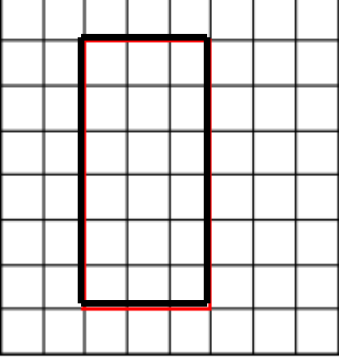
A-çığ

B-tsunami

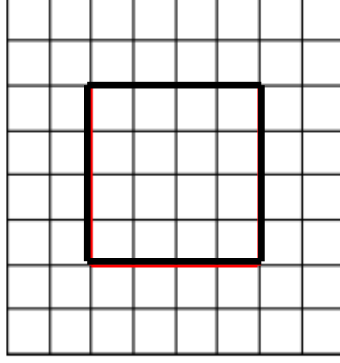
C-hortum

## ÇEVRE UZUNLUĞUNU ÖLÇELİM

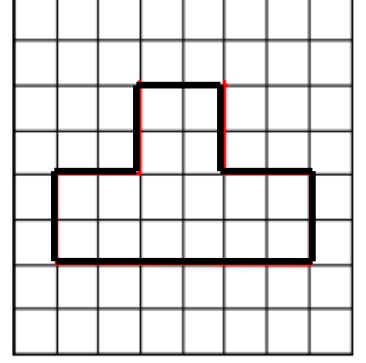
Aşağıdaki şekillerin çevre uzunluklarını karelerden yararlanarak bulunuz.



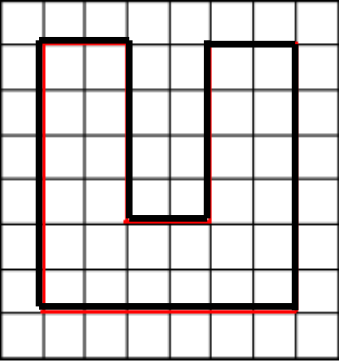
..... birim



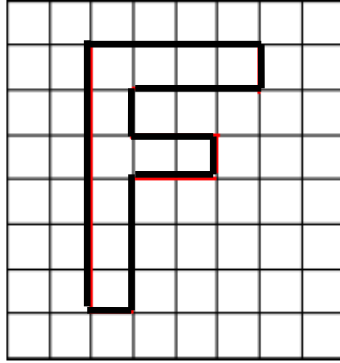
..... birim



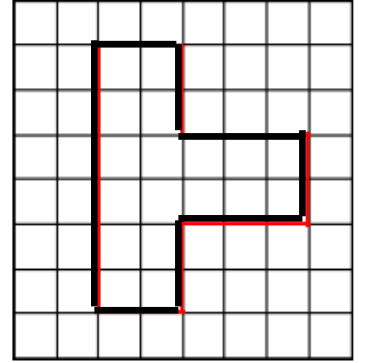
..... birim



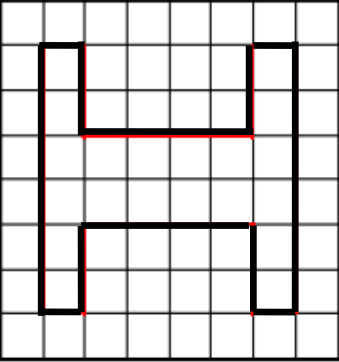
..... birim



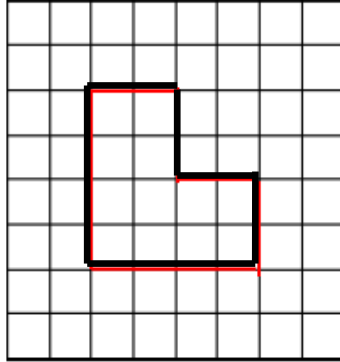
..... birim



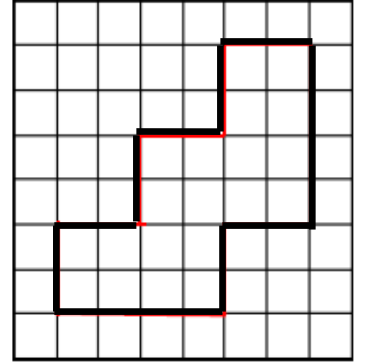
..... birim



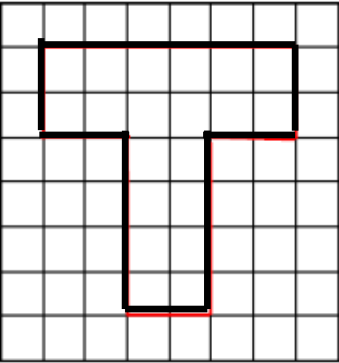
..... birim



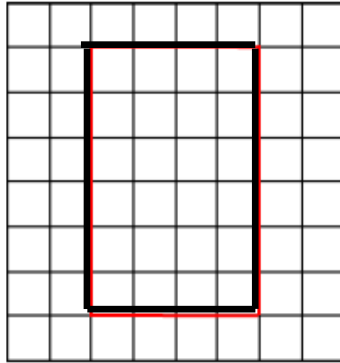
..... birim



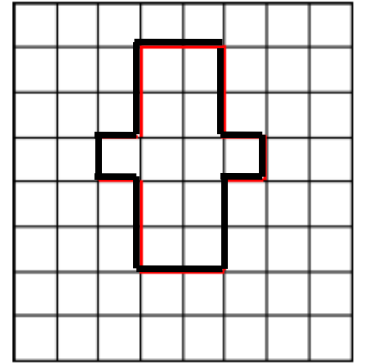
..... birim



..... birim




..... birim




..... birim

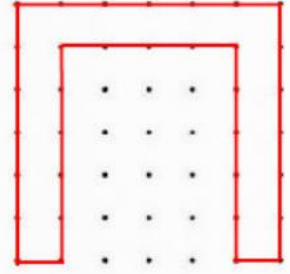
Noktalı kağıtta verilen şekillerin çevre uzunluklarının kaç birim kare olduğunu yazalım.  
(İki nokta arası 1 birim)



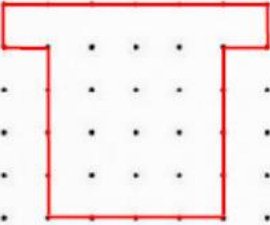
..... birim



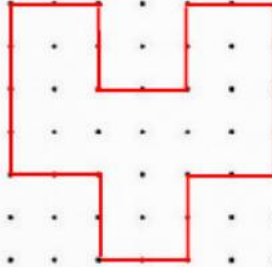
..... birim




..... birim



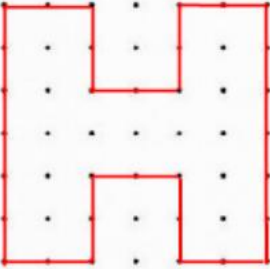
..... birim



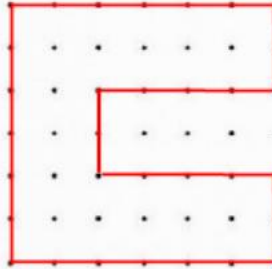
..... birim



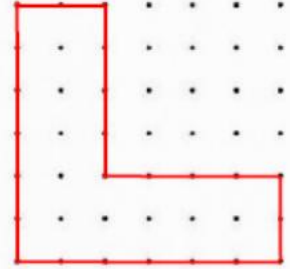
..... birim



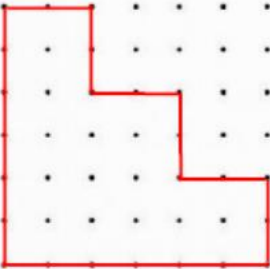
..... birim



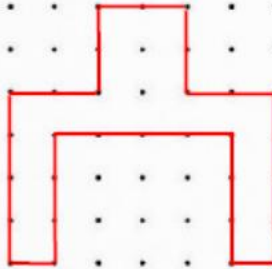
..... birim



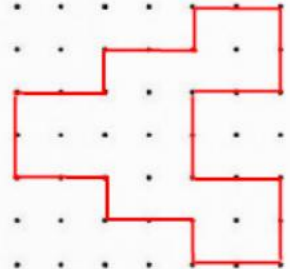
..... birim



..... birim



..... birim



..... birim