

“ Mİ ” SORU EKİ

Asağıdaki cümleleri yeniden yazarak “mi” ekini doğru olarak yazınız.

Aşı yapanlar size geldimi

Gözlükleri takmazsa görebilirmi

Emre arkadaşları ile kavga yapıyormu

Baban defterini aldımı

Sen hiç balina gördünmü

Bu kağıdı ağabeyine verirmisin

Anneciğim bana su kalemden alırmısın

Kardeşini kötülüklerden korurmusun

Halının üzerini süpürürmüsün

Perdeleri takarmısınız

Müzedede dinazor görürmüsünüz?

Sağlıklı mı sağlıklı bir çocuktur.

Bana bakkaldan 3 tane kek alırmısın

Pencereyi açarmısınız

Bilmediğiniz bir yere girermisiniz

Geceleri karanlıktan korkuyormusun

Teyzem size geldimi

Annem bana kazak aldımı

Evde gazete okumuyormusun

Oyuncağımı almış mıydın

Mavi gömleğimi ütüler misin

Haberleri her zaman dinler misin


-mi ekinin yazımı

Cümleye soru anlamı katan "mi," soru eki kendinden önceki kelimelerden ayrı yazılır. Aşağıdaki cümleleri inceleyelim."mi," soru eki doğru yazılmışsa "D," yanlış yazılmışsa "Y," yazalım.

- Bugün okula gittin mi?
- Alışveriş yapacak paran var mı?
- Emel kitabını geri verdimi?
- Bahçedemi top oynadınız?
- Kalem kirtasiyedenmi aldın?
- Sana verdiğim kitabı okudunmu?
- Bahattin'e haber verdin mi?
- Şu araba sizin mi?
- Sen mi benmi kazandım?
- Derslerin bitince mi geleceksin?
- Komşunuzun evinemi hırsız girdi?
- Dondurmamı istersin çikolata mı?
- Leylekler kış gelincemi göç eder?
- Yağmur mu başladı?
- Onun konuşma hakkı yokmu?
- Ali'nin kalemini sen mi aldın?
- Bu resmi Orhan'ımı yaptı?


Aşağıda karışık olarak verilmiş olan kelimelerle soru cümleleri oluşturalım.
(-mi'nin yazımına dikkat edelim)

bardağı
mi kirdi
Mehmet



.....

arkadaşın güldü
sana mı




.....

çiçekleri
vazoya mu koydun



.....

mi bu mi
silgi Ayşe'nin senin



.....

PARALARIMIZ

Aşağıdaki eşitliklerde boş bırakılan yerlere uygun ifadeler yazınız.

$1 \text{ lira} = \dots\dots\dots \text{ kr.}$

$2 \text{ lira} = \dots\dots\dots \text{ kr.}$

$5 \text{ lira} = \dots\dots\dots \text{ kr.}$

$7 \text{ lira} = \dots\dots\dots \text{ kr.}$

$9 \text{ lira} = \dots\dots\dots \text{ kr.}$

$525 \text{ kuruş} = \dots\dots\dots \text{ lira } \dots\dots\dots \text{ kuruş}$

$750 \text{ kuruş} = \dots\dots\dots \text{ lira } \dots\dots\dots \text{ kuruş}$

$630 \text{ kuruş} = \dots\dots\dots \text{ lira } \dots\dots\dots \text{ kuruş}$

$350 \text{ kuruş} = \dots\dots\dots \text{ lira } \dots\dots\dots \text{ kuruş}$

$480 \text{ kuruş} = \dots\dots\dots \text{ lira } \dots\dots\dots \text{ kuruş}$

$1 \text{ lira } 30 \text{ Kr} = \dots\dots\dots \text{ kr.}$

$3 \text{ lira } 40 \text{ Kr} = \dots\dots\dots \text{ kr.}$

$5 \text{ lira } 5 \text{ Kr} = \dots\dots\dots \text{ kr.}$

$6 \text{ lira } 10 \text{ Kr} = \dots\dots\dots \text{ kr.}$

$8 \text{ lira } 80 \text{ Kr} = \dots\dots\dots \text{ kr.}$

$4 \text{ tane } 5 \text{ kr.} + 3 \text{ tane } 25 \text{ kr.} = \dots\dots\dots \text{ kr.}$

$6 \text{ tane } 25 \text{ kr.} + 2 \text{ tane } 50 \text{ kr.} = \dots\dots\dots \text{ kr.}$

$5 \text{ tane } 10 \text{ kr.} + 6 \text{ tane } 25 \text{ kr.} = \dots\dots\dots \text{ TL}$

$4 \text{ tane } 25 \text{ kr.} + 4 \text{ tane } 50 \text{ kr.} = \dots\dots\dots \text{ TL}$

$5 \text{ tane } 10 \text{ kr.} + 3 \text{ tane } 50 \text{ kr.} = \dots\dots\dots \text{ TL}$

Aşağıdaki ürünlerin fiyatlarını lira ve kuruş olarak yazalım.



..... lira kuruş



..... lira kuruş



..... lira kuruş



..... lira kuruş



..... lira kuruş



..... lira kuruş





..... lira kuruş



..... lira kuruş

Aşağıdaki oyuncak fiyatlarına göre soruları yanıtlayınız.



10 TL'ye hangi oyuncakları alabiliriz?

.....



15 TL'ye hangi oyuncakları alabiliriz?

.....



20 TL'ye hangi oyuncakları alabiliriz?

.....



30 TL'ye hangi oyuncakları alabiliriz?

.....



40 TL'ye hangi oyuncakları alabiliriz?

.....



50 TL'ye hangi oyuncakları alabiliriz?

.....

Aşağıdaki para miktarlarını bularak tablonun altına yazınız.

 	 	 
.....