

## TEKİL İSİM – ÇOĞUL İSİM

**Tekil İsim:** Bir tek varlığı ifade eden kelimelere **TEKİL İSİM** denir.

**Örnek:** Kuş , perde , terlik , saat , kalem ...

**Çoğul İsim:** Birden çok varlığı ifade eden kelimelere **ÇOĞUL İSİM** denir. Tekil isimlerin sonuna “-ler -lar” eki getirilerek Çoğul İsim yapılır.

**Örnek:** Kitaplar , İnekler , Papatyalar , Onlar ....

**A- Aşağıdaki tabloda tekil adları çoğul , çoğul adları tekil yapalım.**

TEKİL	ÇOĞUL
elma	elmalar
kaşık	
boya	
davul	
para	
resim	
kazak	
bilye	
ağaç	
şeker	
limon	
şehir	
öğrenci	
defter	
şarkı	
oyun	
gül	

ÇOĞUL	TEKİL
gözlükler	gözlük
makaslar	
düğmeler	
dağlar	
bulutlar	
leylekler	
bayraklar	
kitaplar	
evler	
halılar	
balıklar	
sorular	
çiçekler	
kediler	
meyveler	
arabalar	
aylar	

Aşağıdaki kutularda yazılı olan sözcükleri uygun eve yerleştirelim.

köpekler

ceket

kanepa

eller

pijama

aslanlar

göller

bilyeler

silgi

mantar

perdeler

lastik

karpuzlar



patenler

bisiklet

hediyeler

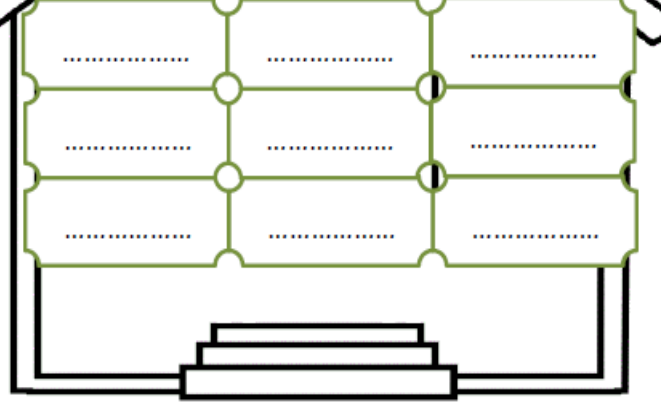
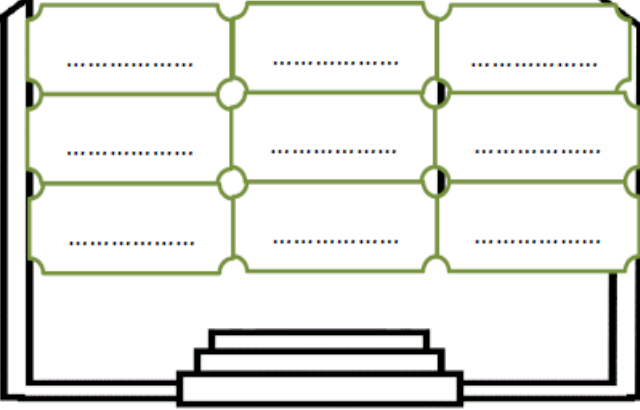
bebek

tavşan



TEKİL EVİ

ÇOĞUL EVİ



Aşağıdaki sözcükleri Tekil - Çoğul durumuna göre işaretleyelim.

İsim	Tekil	Çoğul
keçi		
develer		
pire		
dünya		
yıldızlar		
koltuk		
sıralar		
kale		
dergiler		

İsim	Tekil	Çoğul
cücüler		
dere		
yapraklar		
sandal		
bayrak		
rüyalar		
ayaklar		
gömlük		
küpelere		

## Toplama ve Çıkarma İşlemi Problemleri - 1

1 - Bir ağılda 36 koyun, 23 kuzu vardır. Kuzuların sayısından 5 eksik keçi olduğuna göre ağıldaki hayvanların sayısı kaçtır ?

Çözüm :



6- Sinema salonu 94 koltukludur. Film için 78 bilet satıldığına göre kaç koltuk boş kalmıştır?

Çözüm :



2- Bir trende 38 yolcu vardı. Birinci istasyonda 25 yolcu, ikinci istasyonda ise 14 yolcu bindi. Trende toplam kaç yolcu olmuştur?

Çözüm :



7- Evimizin bahçesinde 24 elma ağacı, 27 armut ağacı, 19 tane de kiraz ağacı olduğuna göre bahçemizde toplam kaç ağaç vardır?

Çözüm :



3- Bakkalın 77 tane ekmeği vardır. Bakkal ekmeklerin 55 tanesini satmıştır. 13 tanesini ise fakirlere dağıtmıştır. Bakkalın geriye kaç ekmeği kalmıştır?

Çözüm :



8- Kadir'in 4 birlik + 7 onluk kalemi vardır. Bu kalemlerin 27 tanesini arkadaşına veren Kadir'in kaç kalemi kalmıştır?

Çözüm :



4- Ressam yaptığı 83 resmin 35 tanesini satmıştır. Ressamın satmadığı kaç resim kalmıştır?

Çözüm :



9- Bakkal Amca 52 topun 14'ünü satmıştır. 7 top ise yanlışlıkla patlamıştır. Bakkal Amcanın geriye kaç topu kalmıştır?

Çözüm :



5- Bir sandıkta 36 tane limon, diğer sandıkta bundan 58 fazla limon vardır. İki sandıkta toplam kaç tane limon vardır?

Çözüm :



$$10 - \begin{array}{|c|} \hline 46 \\ \hline \end{array} + \begin{array}{|c|} \hline 37 \\ \hline \end{array} = ?$$

Çözüm :

11- Bir mağazada 62 tane bilgisayar vardır. Birinci gün 2 düzine, ikinci gün 1 deste bilgisayar satıldığına göre geriye toplam kaç bilgisayar kalmıştır?

Çözüm :



16- Otoparka sabah 47 araç ve öğleden sonra 39 araç park etmiş. Bu otoparka bir günde kaç tane araç park etmiştir?

Çözüm :



12- Kümeste 26 horoz ve 4 birlik + 3 onluk tavuk vardır. Kümeste toplam kaç tane hayvan vardır?

Çözüm :



17- 44 kg peynirin 17 kg ile börek yapılmıştır. Geriye kaç kg peynir kalmıştır?

Çözüm :



13- Hastanede 91 yatak vardır. Bu yatakların 54 tanesinde hasta yattığına göre kaç yatak boş durumdadır?

Çözüm :



18- Pazarcı 43 kg elma, 18 kg portakal ve 25 kg mandalina satmıştır. Pazarcı toplam kaç kg meyve satmıştır?

Çözüm :



14- Kümümüzde 38 tane tavuk, 14 tane kaz ve 23 tane de horoz vardır. Kümümüzde toplam kaç hayvan vardır?

Çözüm :



19- Ömer 85 sayfalık kitap almıştır. Kitabın 39 sayfasını okulda, 27 sayfasını evde okumuştur. Ömer'in geriye okumadığı kaç sayfası kalmıştır?

Çözüm :



15- Depoda 71 torba kömür vardır. Önce 18 torba satılmıştır. Daha sonra ise 25 torba satılmıştır. Depoda kaç torba kömür kalmıştır?

Çözüm :



20- İki düzine topun 8 fazlası kaçtır?

Çözüm :

