


## TÜRKÇE TEST SORULARI



Edison günlerce uğraşıp bir ampul yapar. Yanında çalışan çocuktan ampulü üst kata götürmesini ister. Fakat çocuk ampulü yere düşürüp kırar. Edison günlerce uğraşıp yeni bir ampul yapar. Yine aynı çocuğa verir. Arkadaşları Edison'a itiraz eder. Çocuğun sakar olduğunu yine kıracağını söylerler. Edison:  
— Eğer ona ikinci bir şans vermeseydim hayatı boyunca kendini beceriksiz bir insan sanacaktı.

(1.,2.,3. ve 4. soruları yukarıdaki paragrafa göre cevaplayınız.)

1) Edison'un günlerce uğraşıp yaptığı nedir?

- A) Radyo B) Ampul C)Televizyon

2) Çocuk ampulü kırınca Edison ne yapıyor?

- A) Çocuğa dikkatli ol diyor.  
B) Yeni bir ampul yapıyor.  
C) Ampulü arkadaşlarına veriyor.

3) Edison'un ikinci kere ampulü çocuğa vermesine kimler itiraz ediyor?

- A) Çocuğun dedesi  
B) Çocuğun kendisi  
C) Edison'un arkadaşları

4) Edison neden çocuğa ikinci bir şans vermiştir?

- A) Çocuğun kendine güvenmesi için  
B) Çocuğu sevdiği için  
C) Çocuğun sakar olup olmadığı anlamak için

5) Aşağıdaki deyimlerin hangisi "birinin sevgi ve ilgisini kazanmak" anlamındadır?

- A) Gözden geçirmek  
B) Göze girmek  
C) Göz dikmek

6) "Pırasa ..... ıspanak çok sağlıklıdır." Cümlesinde boş bırakılan yere hangisi gelemez?

- A) ve B) için C) ile

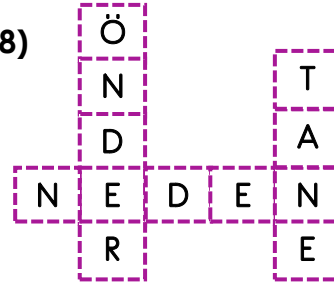
7)

- a – para biriktiriyorum  
b – almak için  
c – beğendiğim saati  
ç – bir aydır

Yukarıdaki kelimelerden anlamlı ve kurallı bir cümle oluşturursam sıralama nasıl olur?

- A) c – ç – b – a  
B) b – c – ç – a  
C) c – b – ç – a

8)



Yukarıdaki bulmacada hangisinin eş anlamlısı seçeneklerde yoktur?

- A) Lider B) Adet C) Sonuç

9) "yüz" kelimesi aşağıdakilerden hangisinde farklı bir anlamda kullanılmıştır?

- A) Denizde yüzmeyi çok severdi.  
B) Ördekler serinlemek için gölde yüzüyor.  
C) Dedem yüz yaşına kadar yaşamış.

10) Aşağıdakilerden hangisinde sebep-sonuç ilişkisi vardır?

- A) Bir işi konuşarak değil çalışarak başarmalısın.  
B) Bazı insanlar ağaçların değerini bilmez.  
C) Parası olmadığı için istediği topu alamadı.

11) "bilye, bilezik, bilmece" kelimelerini sözlük sırasına göre sıralarsam sıralama nasıl olur?

- A) bilezik – bilmece – bilye  
B) bilye – bilmece – bilezik  
C) bilmece – bilezik – bilye

12) "göz " Kelimesine aşağıdakilerden hangisi gelirse kelimenin anlamı değişmez?

- A) –ler B) –lük C) –cü

13) "Geçen gün ablam evi temizledi." Cümlesinde aşağıdaki sorulardan hangisinin cevabı yoktur?

- A) Kim? B) Neyi? C) Nerede?

14) "Okulu" sözcüğü ismin hangi halindedir?

- A) yalın hal B) –e hali C) –i hali

15) Aşağıdaki kelimelerden hangisi yanlış yazılmıştır?

- A) Trafik B) Elektrik C) Çukolata

16)

- I. Sabah erkenden uyandı.  
II. Çünkü sabah erken kalkıp yolculuğa çıkacaktı.  
III. Akşam erkenden yatması gerekiyordu.  
IV. Kahvaltısını yapıp yola çıktı.

Yukarıdaki cümlelerin oluş sırasına göre sıralanışı aşağıdakilerden hangisidir?

- A) I–III–II–IV B) II–IV–III–I C) III–II–I–IV

17) Aşağıda verilen satır sonuna sığmayan kelimelerin yazılışlarından hangisi yanlıştır?

- A) 

yor-
ganlar

 B) 

sa-
zlıkta
- C) 

eşyala-
rin

18) Aşağıdakilerde hangisi cümle değildir?

- A) Niçin bayram yapıyoruz  
B) Sakla samanı gelir zamanı  
C) Kışın koyu renkli elbiseler

19) " Hafta sonu arkadaşım ile kitapçıya gideceğim." Cümlesinde hangi kelime türemiş isimdir?

- A) hafta B) arkadaşım ile C) kitapçıya

20) "Yeni yılı evde kutladık." Cümlesinde sıfat olan kelime aşağıdakilerden hangisidir?

- A) yeni B) yılı C) evde

21) Bulutlar karlı dağın üzerinden yavaşça süzülüyordu.

Bu cümlede, aşağıdaki sözcüklerden hangisi bir varlığı nitelemiştir?

- A) yavaşça B) üzerinden  
C) karlı D) bulutlar

22) Aşağıdakilerden hangisi hem cins isim hem de tekil isimdir?

- A) Ördek B) Ağaçlar C) Gaziantep

23) "Takım – kuş – düşünce" sözcükleri için aşağıdaki ifadelerden hangisi doğrudur?

- A) topluluk adı – cins ad- soyut ad  
B) özel ad – somut ad – topluluk ad  
C) soyut ad – çoğul ad- tekil ad

24) Kırmızı ışıkta geçen otobüs Veli'ye çarptı. Vatan Caddesi'ndeki olayın ardından hemen ambulans geldi. Veli'yi hastaneye kaldırdılar.

Yukarıdaki metinde hikaye unsurlarından hangisi yoktur?

- A) Zaman B) Yer C) Kişi

25) Aşağıdaki cümlelerin hangisinde hem "ne zaman" hem de "nasıl" sorularının cevabı vardır?

- A. On dakika sonra gülerек odadan çıktılar.  
B. Hafta sonu anneanneler bize gelecekler.  
C. Çocuklar okul bahçesinde koşuyorlardı.

## MATEMATİK DEĞERLENDİRME TESTİ



Yukarıda kaç **bütün nar** vardır?

- A. 6 B. 3 C. 4



Dört çocuk, **üç elmayı, çeyreklerine** ayırıp paylaşacaklar. Her çocuğa kaç **dilim elma** düşer?

- A. 3 B. 4 C. 2



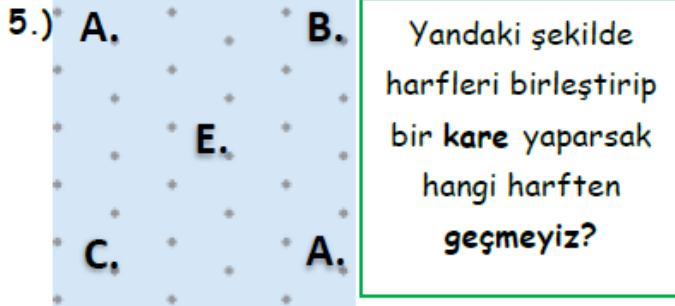
Yukarıdaki şekillerden kaç tanesi **yarımı** göstermektedir?

- A. 2 B. 3 C. 4

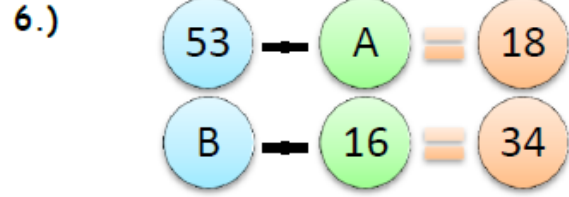


Yukarıdaki çocuklardan, kaç tanesinin söylediği **kilogram** ile alınır?

- A. 5 B. 4 C. 3

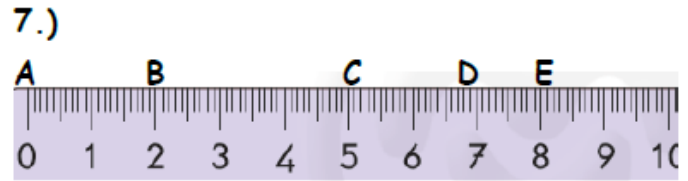


- A. E B. C C. B



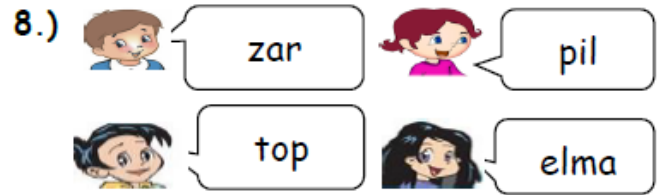
Yukarıdaki çıkarma işlemlerine göre; **B - A** işleminin sonucu kaç yapar?

- A. 15 B. 85 C. 25



Yukarıdaki cetvele göre hangi harflerin arasındaki uzaklık **eşit değildir**?

- A. B - C ile C - E arası B. A - C ile B - D arası  
C. A - B ile D - E arası



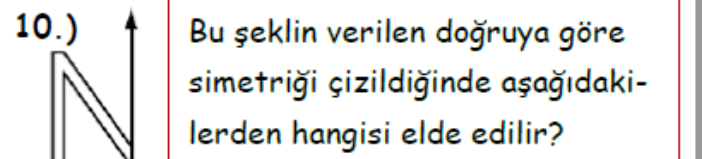
Yukarıdaki öğrencilerin hangilerinin söyledikleri aynı geometrik cisme örnektir?

- A. B. C.



Yukarıdaki örüntüde hangisi kuralı bozmuştur?

- A. B. C.



- A. B. C.

11.)

..... büyüktür 67'den

Boş yere gelebilecek en küçük sayı kaçtır?

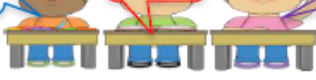
A. 66 B. 67 C. 68

12.)

36

.....


55



Yukarıdaki sayılar, küçükten büyüğe göre sıralanmıştır. Buna göre ortaya gelecek en büyük ve en küçük sayının toplamı kaç olur?

A. 91 B. 81 C. 93

13.)



Yukarıdaki örüntüye göre A + B kaç eder?

A. 77 B. 87 C. 86

14.)



Yukarıdaki örüntü 3. adım devam ederse hangisi gelir?

A. B. C.

15.)



Ali, okuldan akşam bu saatte çıkıyor. 2 saat sonra eve varıyor. Ali, saat kaçta eve varır?

A. 07 :00 B. 19 :00 C. 17:00

16)

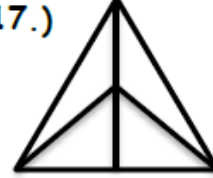


Paramın 25 TL'sini harcayınca 70 TL param kaldı.

Buna göre, Eda'nın ilk başta kaç TL parası vardır?

A. 95 B. 55 C. 45

17.)



Yandaki şekilde kaç tane üçgen vardır?

A. 5 B. 8 C. 7

18.)



Aşağıdaki harflerden hangisinin daha fazla simetri çizgisi vardır?

A. K B. O C. H

19.)

Köşeleri yoktur



Ayrıtları yoktur.

Yüzleri yoktur

Ailede hangisinin söylediği "koni, küre ve silindirin" ortak özelliği değildir?

A. anne B. baba C. çocuk

20.) 1.) 7 düzineden 4 fazladır.

2.) Onlar basamağı ile birler basamağının basamak değerinin farkı 3'tür.

3.) 7 onluk ve 4 birlikten oluşur.

4.) Onlar basamağında 7, birler basamağında 4 vardır.

"74" sayısı ile ilgili yukarıda verilenlerden kaç tanesi doğrudur?

A. 2 B. 3 C. 4