

EYLEM BİLDİREN KELİMELER

- Varlıkların yaptıkları iş ve hareketleri bildiren sözcüklere eylem denir.



Ali düşünüyor. Zafer balık tutuyor. Emel emekliyor. Nil, Nuran ile konuşuyor. Dişlerimi fırçaladım.

Aşağıdaki resimlere iyice bakın yapılan işi bildiren sözcükle doğru olarak eşleştirin.



bağırıyor



pişiriyor



oynuyor



duruyor



uçuyor

dalgalanıyor



koşuyor



örüyor

yüzüyor



gidiyor

sürüyor



zıplıyor

çakıyor



okuyor



Aşağıdaki sözcüklerden iş ve hareket bildirenlerin başlarındaki elmaları kırmızıya boyayınız.



sinirlendim



buz



eğlendik



döküldü



arkadaş



kokladı



gözlük



yazdı



küsmüş

Aşağıda verilen söz gruplarını verilen iş, hareket, oluş bildiren sözcüklerle tamamlayarak cümleler oluşturunuz.

sildim

çalıştı

toplayalım

yağdı

kesildi

öptüm

etti

başarılıydı

oynanmaz

Bayramda dedemin elini

Yanlış yazdığım yerleri.....

Yere dökülen çekirdekleri lütfen.....

Semih bugün çok.....

Zeynep bütün derslerinde.....

İki gündür elektrik.....

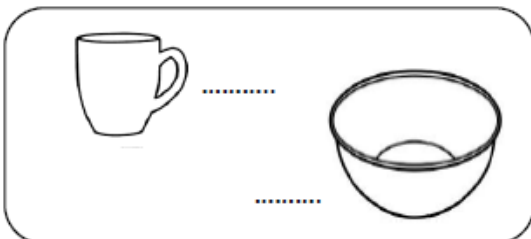
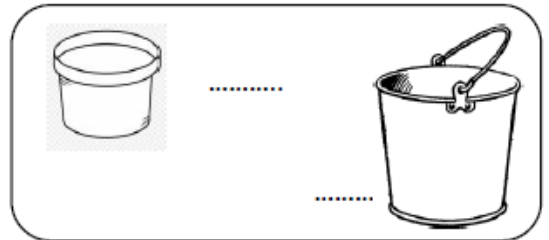

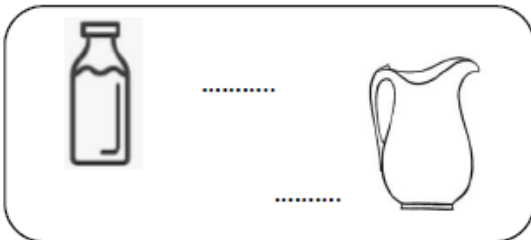

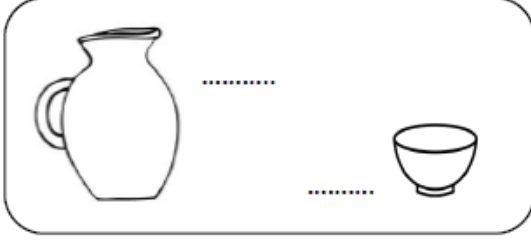
Kar.....

Uçak, hava alanından hareket

Koridorlarda oyun

SIVILARI ÖLÇME

1. Etkinlik: Aşağıdaki kapları karşılaştıralım. Alabilecekleri sıvı miktarlarına göre noktalı yerlere "az", "çok" yazalım.



SIVILARI ÖLÇME

1. Etkinlik : Noktalı yerleri aşağıdaki resimlerdeki eşyalara göre uygun şekilde dolduralım.




- a) En fazla suyu alır.
b) En az suyu alır.
c) Su bardağıdan az su alır.
d) Su bardağıdan fazla su alır
e) su bardağından az su alır.

f) su bardağından ve fincandan fazla su alır.

g) su bardağından ve kovadan az su alır.

2. Etkinlik : Aşağıdaki cümleler doğru ise çiçeğini maviye , yanlış ise kırmızıya boyayalım.



- En fazla suyu tencere alır.
En az suyu kepçe alır.
Kaşık kepçeden fazla su alır.
Kepçe tencereden daha fazla su alır.
Tencere kaşıktan fazla su alır.

Tencere kepçe ve kaşıktan daha fazla su alır.

Tencereyi kaşığa göre kepçe ile daha çabuk doldururum .

3. Etkinlik : Aşağıdaki soruları cevaplayınız.

	Yandaki tencere hangisiyle daha önce dolar? Boyayınız.    
	Yandaki kova hangisiyle daha önce dolar? Boyayınız.    
	Yandaki sürahi hangisiyle daha önce dolar? Boyayınız.    