



EŞ SESLİ (SESTEŞ) SÖZCÜKLER

ETKİNLİK - 1

Yazılışları ve okunuşları aynı anlamı farklı olan kelimelere eş sesli (sesteş) sözcükler denir.

Aşağıdaki cümlelerde verilen sesteş kelimelerin anlamlarını tahmin ederek. İlgili resmi işaretleyiniz.

S.No	CÜMLERLER	RESİMLER
1.	Babam bahçeyi <u>kaz</u> dı.	 <input type="checkbox"/>  <input checked="" type="checkbox"/>
2.	Arkadaşım Kadir derste çok <u>gül</u> dü.	 <input type="checkbox"/>  <input type="checkbox"/>
3.	Ahmet denizde <u>yüz</u> dü.	 <input type="checkbox"/>  <input type="checkbox"/>
4.	Arabayla <u>dik</u> bir yokuş çıktık.	 <input type="checkbox"/>  <input type="checkbox"/>
5.	Topu bana <u>at</u> .	 <input type="checkbox"/>  <input type="checkbox"/>
6.	<u>Çay</u> kenarında piknik yaptık.	 <input type="checkbox"/>  <input type="checkbox"/>
7.	<u>Yağ</u> yağmur <u>yağ</u> .	 <input type="checkbox"/>  <input type="checkbox"/>
8.	Arda doğum gününde pasta <u>yedi</u> .	 <input type="checkbox"/>  <input type="checkbox"/>
9.	Ayakkabımın <u>bağ</u> ı çözüldü.	 <input type="checkbox"/>  <input type="checkbox"/>

S.No	C Ü M L E L E R	RESİMLER	
10.	Konuştığımız dil Türkçe'dir.	 <input type="checkbox"/>	 <input type="checkbox"/>
11.	Şiddetli bir şekilde dolu yağdı.	 <input type="checkbox"/>	 <input type="checkbox"/>
12.	Bu yaz Antalya'ya gideceğiz.	 <input type="checkbox"/>	 <input type="checkbox"/>
13.	Annem sinirden saçlarını yoldu .	 <input type="checkbox"/>	 <input type="checkbox"/>
14.	Dedem alışverişte bin lira harcadı.	 <input type="checkbox"/>	 <input type="checkbox"/>
15.	Anneme hediye aldım .	 <input type="checkbox"/>	 <input type="checkbox"/>
16.	Çiftçi ineğin sütünü sağdı.	 <input type="checkbox"/>	 <input type="checkbox"/>
17.	Kurbanda saç kavurma yedik.	 <input type="checkbox"/>	 <input type="checkbox"/>
18.	Ahmet'i it kovaladı.	 <input type="checkbox"/>	 <input type="checkbox"/>
19.	Çiftçi tarlayı ekti .	 <input type="checkbox"/>	 <input type="checkbox"/>

BÖLME İŞLEMİ YAPALIM

1. Etkinlik : Verilen bilgilere göre bölme işlemlerini yapalım. Noktalı yerleri dolduralım.

Bölünen: 4
Bölen: 2 ÷ =
Bölüm :

Bölünen: 12
Bölen: 3 ÷ =
Bölüm :

Bölünen: 28
Bölen: 4 ÷ =
Bölüm :



Bölünen: 5
Bölen: 5 ÷ =
Bölüm :

Bölünen: 16
Bölen: 2 ÷ =
Bölüm :

Bölünen: 15
Bölen: 3 ÷ =
Bölüm :



Bölünen: 36
Bölen: 4 ÷ =
Bölüm :

Bölünen: 30
Bölen: 5 ÷ =
Bölüm :

Bölünen: 2
Bölen: 2 ÷ =
Bölüm :



Bölünen: 6
Bölen: 3 ÷ =
Bölüm :

Bölünen: 21
Bölen: 3 ÷ =
Bölüm :

Bölünen: 4
Bölen: 4 ÷ =
Bölüm :



Bölünen: 50
Bölen: 5 ÷ =
Bölüm :

Bölünen: 6
Bölen: 2 ÷ =
Bölüm :

Bölünen: 24
Bölen: 3 ÷ =
Bölüm :



Bölünen: 20
Bölen: 4 ÷ =
Bölüm :

Bölünen: 25
Bölen: 5 ÷ =
Bölüm :

Bölünen: 18
Bölen: 2 ÷ =
Bölüm :



Bölünen: 3
Bölen: 3 ÷ =
Bölüm :

Bölünen: 8
Bölen: 4 ÷ =
Bölüm :


Bölünen: 15
Bölen: 5 ÷ =
Bölüm :

Bölme İşlemi Problemleri

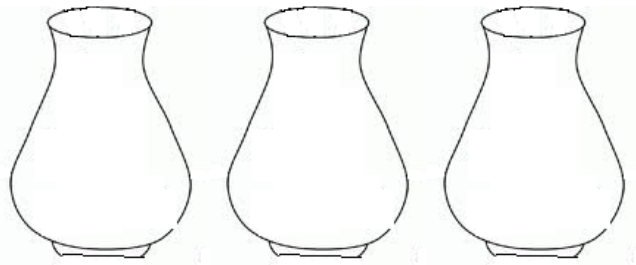

1. Aylin, arkadaşları Ahmet ve Yeşim ile 18 cevizi eşit olarak paylaşıyor.. Her birine kaç ceviz düşer? (Önce işlemi yapıp sonra şekil üzerinde gösteriniz.)




2. 20 oyuncak arabayı 5 çocuk eşit olarak paylaşırsa her çocuğun kaç arabası olur? (Önce işlemi yapıp sonra şekil üzerinde gösteriniz.)



3. 12 gül 3 vazoya eşit olarak yerleştirilecek. Her vazoya kaç gül düşer? (Önce işlemi yapıp sonra şekil üzerinde gösteriniz.)




4. Kolideki 23 yumurtanın 8 tanesi kırıldı. Kalan yumurtaları buzdolabında 3 rafa eşit olarak yerleştirmem gerekiyor. Her rafa kaç yumurta düşer?




5. Torbasında 13 bilye olan Hakan'a babası da 3 bilye verdi. Hakan bilyeleri kardeşiyle eşit paylaştı. Her birinin kaç bilyesi olmuştur? (Problemi şekil çizerek çözmeye çalışınız.)

6. 19 kitabın 5 tanesi ders kitabı, gerisi hikaye kitabıdır. Hikaye kitaplarını 7 rafa eşit olarak yerleştirirsek her rafta kaç kitap olur?



7. Ağaçtaki 28 elmayı 4 kişi eşit miktarda topladı. Her biri kaç elma toplamıştır?



8. Her gün 2 ekmek alıyoruz. 14 ekmeği kaç günde alırız?

