


TEKİL VE ÇOĞUL ADLAR

♣ Palyaço, gösterisini çoğul adların olduğu toplarla yapacak. Çoğul adların yazılı olduğu topları boyayarak palyaçoya yardım ediniz.



Aşağıdaki cümlelerde renkli yazılmış tekil adları çoğul yaparak cümleleri yeniden yazınız.

Baloncu **balonu** gökyüzüne bıraktı.

Kalemi yok, resim yapamıyor.

Kuzum meleyerek yanıma geldi.

Sevda, annesine **çiçek** almış.

Çocuk eve doğru koşmaya başladı.

Akşamdan **ödevimi** yapmıştım.

Bilyesi kaybolduğu için çok üzüldü.

Masadaki **mum** çok güzeldi.

SIVI ÖLÇÜLERİ

Soruları okuyalım. Doğru cevabın bulunduğu kutucuğu işaretleyelim.



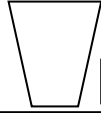
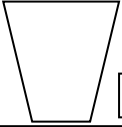
1. Hangi kap **daha çok** kolonya alır?



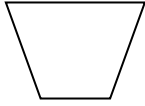
2. Hangi tencere **daha az** süt alır?



3. Hangi bardak **daha çok** su alır?



4. Bir havuzu hangisi ile doldurmamız **daha uzun** sürer?



8. Aşağıdaki cümleleri **daha az** veya **daha çok** kelimelerinden uygun olanıyla tamamlayınız.



5. Pamuk günde 2 tabak süt içiyor. Her tabak 2 bardak süt aldığına göre, Pamuk bir haftada kaç bardak süt içmiştir?

A) 12

B) 21

C) 28

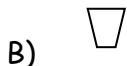
6. Hangi cümledeki ifade (söylenen) **yanlıştır**?

A) Çay bardağı, su bardağından daha az sıvı alır.

B) Eşit miktarda su dökülen bütün kaplardaki su seviyesi aynıdır.

C) 7 çay kaşığı çay, 7 çorba kaşığı çorban daha azdır.

7. Fatma teyzem bir sürahi limonata hazırladı. Bu limonata hangi bardakta **daha çok** kişiye ikram edilebilir.



Kova, sürahiden su alır.

Sürahi, kovadan su alır.

Sağdaki bardak, soldakinden Çay alır.

Soldaki bardak, sağdakinden çay alır.

Aferin sana!
Hepsini bitirdin.