

# SIVI ÖLÇÜSÜ BİRİMİ LİTRE

Efe 'nin annesinin yaptığı pastaya bir litre süt koyması gerekiyor.Tenceredeki süttten nasıl bir litre süt ayırabilir?



Sütü göz kararı döksün.



Su bardağı ile dört bardak kadar süt koysun.

Arkadaşlar fikirleriniz güzel ama bunlar bize gerçek ölçüm sonucunu vermezler.Bu ölçümlerin hepsinin sonucu farklı çıkar.İyi ki standart bir sıvı ölçme aracımız var.Bu standart sıvı ölçü birimini ülkemize getiren Atatürk 'e sonsuz teşekkürler.



Litre



Yarım litre



yarım litre

½ litre

½ litre

\* Standart sıvı ölçü birimi litredir.

\*Litre kısaca "L"sembölü ile yazılır.

\*Sıvı maddelerin miktarlarını (su, süt, benzin, sirke, yağ, kolonya, meyve suyu, sıvı yağ, benzin, ispirto, ayran gibi) litre ile ölçeriz.

\*Litrenin yarısı olan ölçü birimi yarım litredir.

\*Bir litrede iki tane yarım litre vardır.

Aşağıdaki litre ile ölçülen ürünleri işaretleyin.



( )



( )



( )



( )



( )



( )



( )

Aşağıdaki kapların bir litreden az ya da çok sıvı madde alabileceklerini altlarına yazın.



Aşağıdaki dönüşümleri yapınız.

\*1L =2 yarım litre

$$(1 \times 2 = 2)$$

2 L =.....yarım litre

$$(2 \times 2 = \dots)$$

4L =.....yarım litre

$$(\dots \times \dots = \dots)$$

7 L=.....yarım litre

$$(\dots \times \dots = \dots)$$

\*2 yarım litre=1 litre

$$(2 : 2 = 1)$$

6 yarım litre=.....L

$$(6 : 2 = \dots)$$



10 yarım litre=.....L

$$(10 : \dots = \dots)$$

16 yarım litre=.....L

$$(\dots : \dots = \dots)$$

Litre ile ölçülenleri işaretleyin.

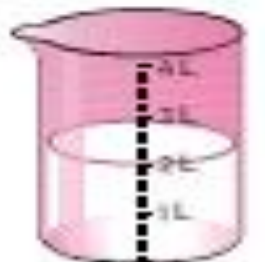
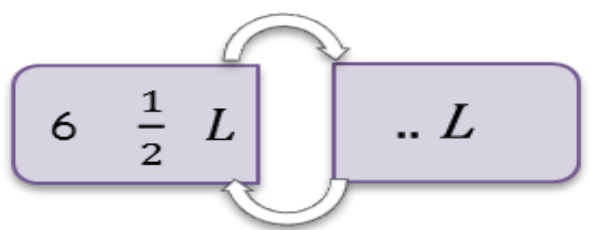
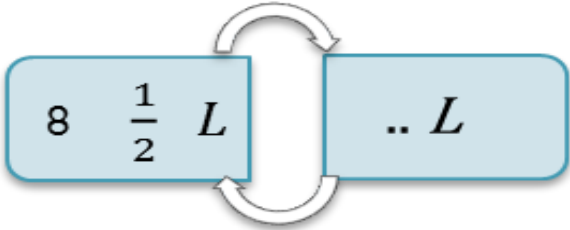
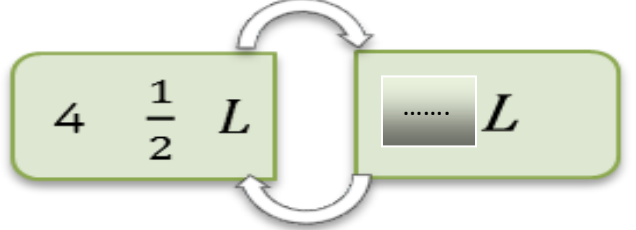
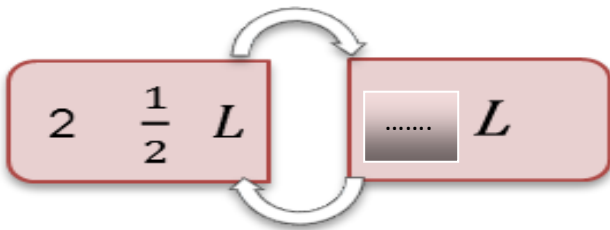


Sıvı ölçü birimi .....'dir.

Yarım litre, ..... L ile gösterilir.

Litre, kısaca ..... ile gösterilir.

2 yarım litre, ..... Litre yapar.



Aşağıdaki ürünlerden litre ile ölçülenleri işaretleyiniz.



Aşağıda verilen yarım litrelik su şişelerinin yanlarındaki kapları kaç seferde doldurabileceğini noktalı yerlere yazalım.



Aşağıdaki kaplardan 1 litreden fazla sıvı alabilecekleri işaretleyelim.



Aşağıdaki noktalı yerleri örnekteki gibi tamamlayınız.

1 litre = 2 yarım litre eder.

2 litre = ..... yarım litre eder.

4 litre = ..... yarım litre eder.

8 litre = ..... yarım litre eder.

10 litre = ..... yarım litre eder.

15 litre = ..... yarım litre eder.

19 litre = ..... yarım litre eder.

Aşağıdaki noktalı yerleri örnekteki gibi tamamlayınız.

6 yarım litre = 3 litre eder.

8 yarım litre = .... litre eder.

10 yarım litre = .... litre eder.

12 yarım litre = .... litre eder.

18 yarım litre = .... litre eder.

20 yarım litre = .... litre eder.

24 yarım litre = .... litre eder.

30 yarım litre = .... litre eder.