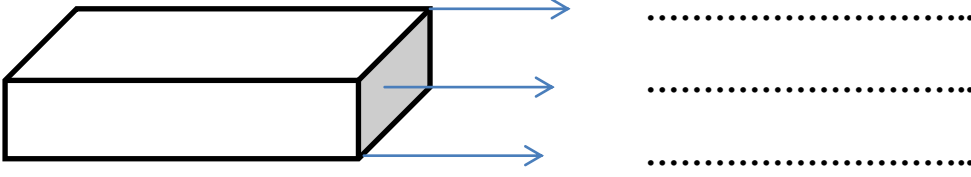
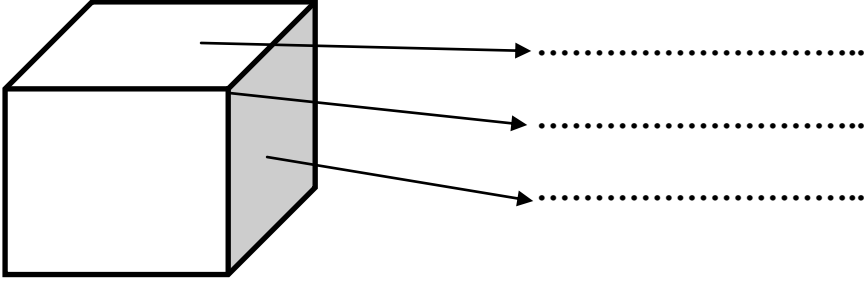


GEOMETRİK CİSİMLER

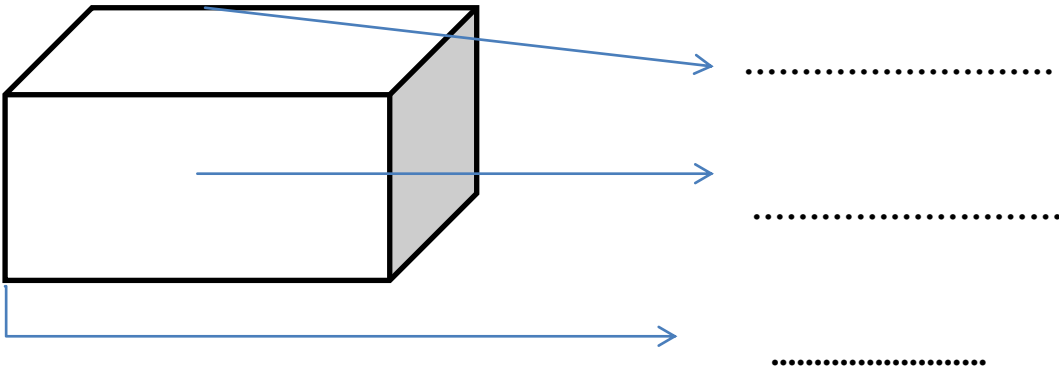
Aşağıdaki geometrik şekillerde boş bırakılan yerleri tamamlayınız.



Dikdörtgen prizmanın , yüzü, köşesi ve ayrıtı vardır.



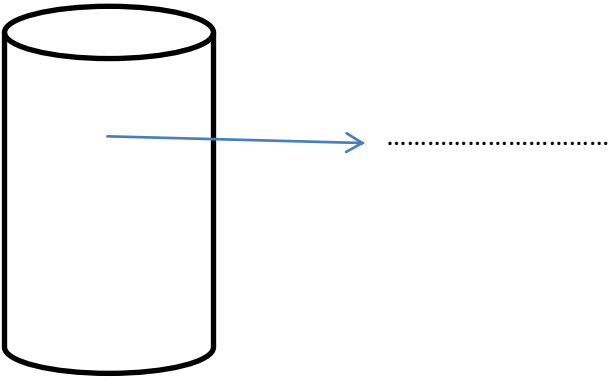
Küpünyüzü ,köşesi veayrıtı vardır.



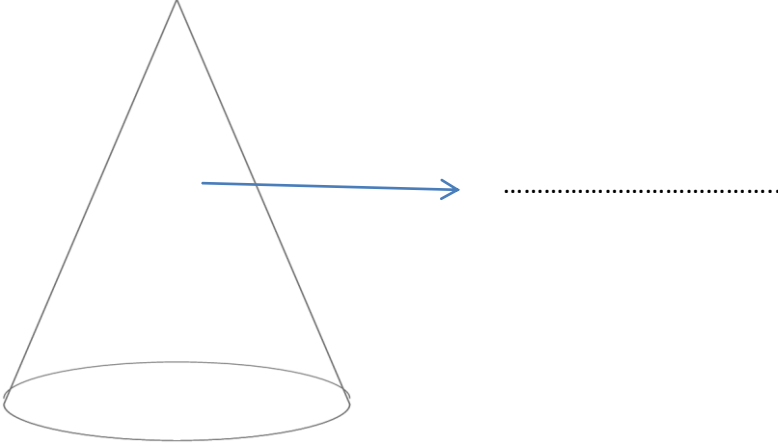
Kare prizmanın.....yüzü ,köşesi veayrıtı vardır.



Üçgen prizmanın.....yüzü ,köşesi veayrıtı vardır.




Silindirin yüzü vardır. Ancak köşesi ve ayrıtı yoktur.

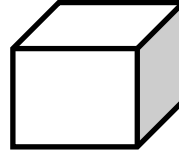


Koninin yüzü vardır .Ancak köşesi ve ayrıtı yoktur.


Aşağıdaki geometrik şekillerin adlarını altlarına yazınız.



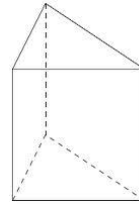
.....



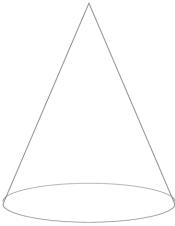
.....



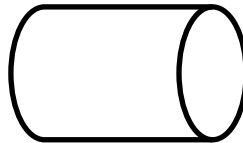
.....



.....



.....



.....

SATIR SONUNA SIĞMAYAN KELİMELERİ AYIRMA

🇹🇷 Satır sonunda , hecelerine ayırma etkinliği-1 - 🇹🇷

Baba → Ba-
ba

Vatan →

Sılgı →

Sevgi →

Çanta →

Bayrak →

Defter →

Ulus →

Boya →

Millet →

Kıtap →

Savaş →

Ataç →

Barış →

Kazak →

Satır sonunda kelimeleri hecelerine ayırma etkinliđi

