



YOLUMUZDAKİ ENGELLER

Eski zamanlarda bir kral,saraya gelen yolun üzerine kocaman bir kaya koydurmuş , kendisi de pencereye oturmuş.

Bakalım neler olacak? Ülkenin en zengin tüccarları , en güçlü kervancıları, saray görevlileri birer birer geldiler,sabahtan öğleye kadar .Hepsi kayanın etrafında dolaşıp saraya girdiler.Pek çoğu kralı yüksek sesle eleştirdi.Halkından bu kadar vergi alıyor, ama yolları temiz tutamıyor.

Sonunda bir köylü çıkageldi.Saraya meyve ve sebze getiriyordu.Sırtındaki kefeyi yere indirdi,iki eli ile kayaya sarıldı ve ıkına sıkına itmeye başladı.Sonunda kan ter içinde kaldı ama kayayı da yolun kenarına çekti.

Tam küfesini yeniden sırtına almak üzereydi ki,kayanın eski yerinde bir kesenin durduğunu gördü.Açtı... kese altın doluydu.Bir de kralın notu vardı içinde “Bu altınlar kayayı yoldan çeken kişiye aittir.” diyordu kral.



Soruları Yukarıdaki Metne Göre Yanıtlayınız

1. Kral yolun ortasına niçin bir kaya koymuş?

.....
.....

2.Zengin tüccarlar taşı görünce ne yapıyor?

.....

3.Taşı sonunda kim kaldırıyor?

.....
.....

4.Taşı kaldıran adam sonunda neyle karşılaşılıyor?

.....
.....

5.Bu metinde anlatılmak istenen nedir?

.....
.....
.....
.....

KISALTMALAR

Aşağıdaki kurum ve kuruluş adlarının kısa şeklini yazınız.

Türk Hava Yolları

Türk Dil Kurumu

Türkiye Büyük Millet Meclisi

Türkiye Cumhuriyeti

Milli Eğitim Bakanlığı

Türkiye Elektrik Kurumu

Türkiye Radyo ve Televizyon

Sosyal Sigortalar Kurumu

Posta Telgraf Telefon

Aşağıdaki sözcüklerin kısaltılmışlarını yazınız.

(vb., Doç., Dr., sok., ögr., mm, K, B,D, mah., cad., GD, KD, GB, KB, km, cm, prof., Nu., Av.,L, ml, Trkç.)

Kuzey Güney Doğu Batı

Kuzeybatı Kuzeydoğu Güneybatı Güneydoğu

Santimetre kilometre..... milimetre.....

Litre mililitre..... Cadde

Mahalle Sokak Numara

Profesör Doçent Doktor

Avukat Öğretmen Türkçe ve benzerleri.....

Aşağıdaki cümleleri okuyunuz.Kısaltmalar yanlış yazılmıştır.Yanlışları düzelterek Cümleleri yeniden yazınız.

THK ‘nun eleman alımı başlamış.

*THY’nin hostesleri karda mahsur kalmış.

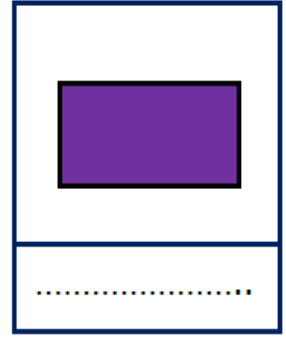

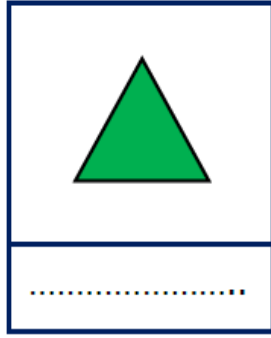
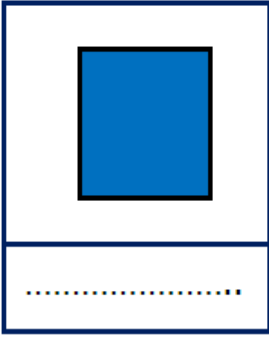
*Atatürk TC’nin kaçınıcı cumhurbaşkanıdır?

*Çekirdeğin 250 g’si bayatlamış .


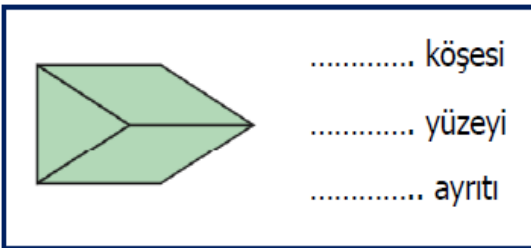

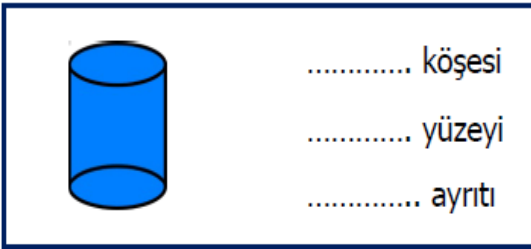
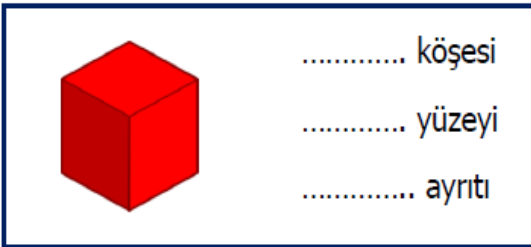
Dok. Emrah Çakı tatile gitmiş.

GEOMETRİK CİSİMLERİN YÜZLERİ VE YÜZEYLERİ

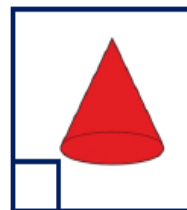
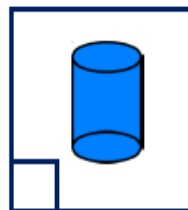
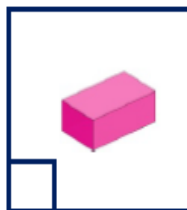
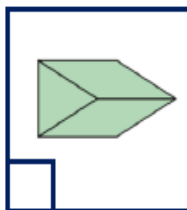

Aşağıdaki düzlemsel şekillerin adlarını yazınız.



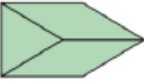













Aşağıdaki geometrik cisimlerin köşelerini, yüzeylerini ve ayrıtlarını yazınız.



Aşağıdaki geometrik cisimlerden hangilerinin köşe sayısı, kenar sayısı ve yüzey sayısı eşittir. İşaretleyelim.



Aşağıdaki tabloda açınımları verilen geometrik cisimlerin eksik olan yüzeylerini tamamlayınız.

Aşağıdaki soruları yanıtlayınız.

- Kenarı ve köşesi yoktur. Aynı büyüklükte iki tabanı vardır.
.....
- 5 yüzü, 6 köşesi ve 9 ayrıtı vardır.
.....
- Bütün yüzeyleri karesel bölgedir.
.....
- Karşılıklı yüzeyleri birbirine eşittir. Yüzeylerinin hepsi dikdörtgensel bölgedir.
.....
- 2 yüzü bir tepe noktası vardır.
.....
- Taban yüzeyleri eşittir ve karesel bölgedir. Yan yüzeyleri eşittir ve dikdörtgensel bölgedir.
.....