

ATATÜRK'ÜN OKUDUĞU OKULLAR

Atatürk'ün gittiği okulları kronolojik (tarih sırasına göre) olarak sıralayalım.




Selanik Mülkiye Rüştiyesi



İstanbul Harp Okulu



Mahalle Mektebi



Selanik Askeri Rüştiyesi



Şemsi Efendi İlkokulu



İstanbul Harp Akademisi



Manastır Askeri İdadisi

Atatürk'ün gittiği okulları sırayla yazalım.

Sıra	Okul Türü	Gittiği Okul
1	İlkokul
2	İlkokul
3	Ortaokul
4	Ortaokul
5	Lise
6	Üniversite
7	Üniversite

ATATÜRK'ÜN OKUDUĞU OKULLAR

Önceki ödev sayfasında yaptığımız sıralamadan faydalanarak Aşağıdaki boşlukları dolduralım.

Atatürk okul çağına gelince ilk önce mahallerinde bulunan
.....'ne gitti. Fakat babası buranın eğitimini beğenmedi ve O'nu daha iyi bir
ilkokul olan İlkokuluna kayıt ettirdi ve ilkokulu burada
bitirdi. Ortaokula 'nde (ortaokulu) başladı.
Ancak bu okulda bir öğretmenin yaptığı haksızlığa dayanamayıp bu okulu bırakıp
..... 'ne başladı. Bu okul asker yetiştiren bir okuldu.
Bu okulda Matematik öğretmeni ona adını verdi. Ortaokulu bitirince
..... 'ne (lisesine) başladı. Liseden
sonra üniversite hayatı başladı. İlk önce İstanbul 'na
gitti ve teğmen olarak mezun oldu. En son gittiği okul İstanbul.....
.....oldu. Bu okulu da bitirerek oldu ve Türk
Ordusunun komutanı olarak göreve başladı.

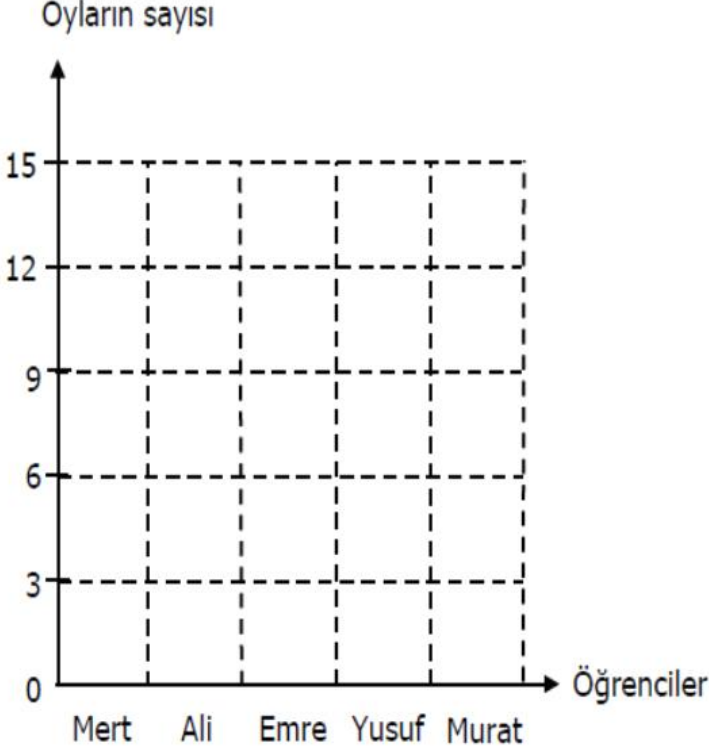
Doğru mu? Yanlış mı?

- (.....) Atatürk'ün gittiği ilkokul Şemsi Efendi İlkokuludur.
- (.....) Atatürk haksızlığa dayanamayan bir kişiliğe sahipti.
- (.....) Atatürk en son Harp Akademisine gitti.
- (.....) Atatürk babasının isteği üzerine Mahalle Mektebine gitti.
- (.....) Atatürk tüm okulları başarılı derecelerle tamamladı.
- (.....) Atatürk ortaokulu Selanik'te tamamladı
- (.....) Matematik öğretmeni O'na Atatürk soyadını verdi.
- (.....) Atatürk 2 ilkokula 2 ortaokula gitti.
- (.....) Atatürk Harp Akademisini bitirince kurmay yüzbaşı oldu.
- (.....) Atatürk'ün zamanında ortaokullara "Rüştiye" ; liselere "idadi" denilmekteydi.
- (.....) Şemsi Efendi İlkokulu, Mahalle Mektebinden daha iyi bir okuldu.
- (.....) Atatürk ortaokuldan itibaren hep askeri okullara gitti.

NESNE VE ŞEKİL GRAFİĞİ

Aşağıdaki tabloda 3/A sınıfında yapılan başkanlık seçiminde alınan oylar verilmiştir. Bu tabloya göre şekil grafiği oluşturalım.

Grafik: Alınan oylar



Not: Her şekil 3 öğrenciyi göstermektedir.

Grafik: Alınan oylar

Öğrenciler	Oy Sayısı
Mert	▲ ▲
Ali	▲ ▲ ▲
Emre	▲ ▲ ▲ ▲ ▲
Yusuf	▲ ▲ ▲ ▲
Murat	▲

Not: Her şekil 3 öğrenciyi göstermektedir.

Yukarıdaki tabloya göre çetele ve sıklık tablosu oluşturalım.

Sıklık Tablosu: Alınan oylar

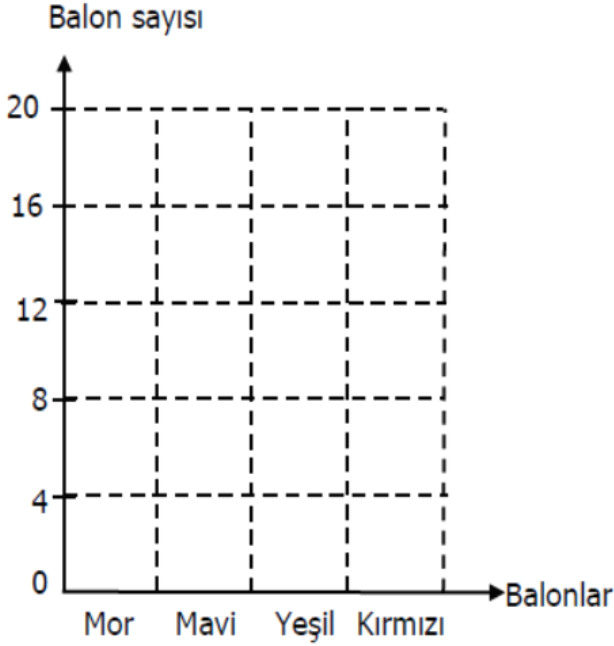
Öğrenciler	Oy Sayısı

Çetele Tablosu: Alınan oylar

Öğrenciler	Oy Sayısı

Aşağıdaki tabloda 3/B sınıfı öğrencilerinin Cumhuriyet Bayramı'nda sınıfı süslemek için aldığı balonlar verilmiştir. Buna göre nesne grafiği oluşturalım.

Grafik: 3/ B Sınıfındaki balonlar



Not: Her nesne 4 öğrenciyi göstermektedir.

Grafik: 3/ B Sınıfındaki balonlar

Meslekler	Öğrenci Sayısı
Mor	
Mavi	
Yeşil	
Kırmızı	

Not: Her nesne 4 öğrenciyi göstermektedir.

Yukarıdaki verilere göre çetele ve sıklık tablosu oluşturarak aşağıdaki soruları yanıtlayınız.

Çetele Tablosu: 3/B Sınıfındaki balonlar

Renkler	Balon Sayısı

Sıklık Tablosu: 3/B Sınıfındaki balonlar

Renkler	Balon Sayısı

En fazla alınan balon sayısı kaçtır? (.....)

Mor balonları sayısı, kırmızı balonlardan sayısından kaç fazladır? (.....)

Mavi balonlar ile yeşil balonların toplam sayısı kaçtır? (.....)

Yeşil ve kırmızı balonların toplamı hangi balonun sayısına eşittir? (.....)

Sınıfa en az alınan balon sayısı kaçtır? (.....)

3/B sınıfında kaç balon vardır? (.....)