

SIRALA ÖĞREN

1881 yılında
Selanik'te
doğdu.

İ

Şemsi Efendi
Mektebi'ne
gitti.

İ

Erzurum ve
Sivas'ta
toplantılar
yaptı.

Y

Harp
Akademi'sine
gitti.

N

29 Ekim
1923'te
cumhuriyeti
ilan etti.

İ

Mahalle
Mektebine
gitti.

Z

19 Mayıs
1919'da
Samsun'a çıktı
Kurtuluş

E

Çanakkale
Savaşı'na
katıldı.

D

10 Kasım 1938
yılında
aramızdan
ayrıldı.

Z

1

2

3

4

5

6

7

8

9

*Aşağıda özellikleri verilen devlet yönetim biçiminin adını kutucuğa yazınız.

- ❖ Halk belirli süreler için oy kullanarak milletvekili seçer.
- ❖ Bu milletvekilleri halkı temsil eder
- ❖ Halk bu yolla yönetimde söz sahibi olur.
- ❖ Böylece egemenlik milletin olur.

• • • • • • • • • •

Aşağıda verilen olayları tarihlerine uygun olarak yazınız.

- * Cumhuriyet ilan edilmiştir.
- * Kurtuluş Savaşı zaferle sonuçlanmıştır.
- * Ankara'da TBMM açılmıştır.
- * Atatürk Samsun 'a çıkarak kurtuluş Savaşı'nı başlatmıştır.

TARİH	OLAY
19 Mayıs 1919
23 Nisan 1923
30 Ağustos 1922
29 Ekim 1923

ATATÜRK'Ü TANIYOR MUSUN?



1881 – Şemsi Efendi – Samsun - Selanik –1938–İstanbul
1919 - Osmanlı Devleti - TBMM - Dolmabahçe Sarayı



Aşağıdaki boşlukları yukarıdaki uygun kelimelerle doldurunuz.

- 1- Atatürkyılında,’te doğdu.
- 2- Atatürk mahalle mektebinden sonra ilkokuluna gitti.
- 3- Kurtuluş Savaşını başlatmak içinyılında’a çıktı.
- 4- 23 Nisan 1920 tarihinde ’ni açtı.
- 5-Cumhuriyetten önce devletimizin adı idi.
- 6- Atatürk yılında’da öldü.

Atatürk’ün yaptığı yenilikler nelerdir?

.....

.....

.....

.....

Atatürk’ün kişisel özellikleri nelerdir?

.....

.....

.....

.....


Aşağıdaki bilgiler doğru ise kutuyu yeşile, yanlış ise kutuyu kırmızıya boyayınız.

- | | |
|---|---|
| <input type="checkbox"/> Atatürk üstün özelliklere sahip bir liderdi. | <input type="checkbox"/> Atatürk barışı seven bir insandı. |
| <input type="checkbox"/> Soyadı kanununu Cumhuriyetin ilanından önce yapıldı. | <input type="checkbox"/> Atatürk çocukları hiç sevmezdi. |
| <input type="checkbox"/> Atatürk’ün anıt mezarı İstanbul’dadır. | <input type="checkbox"/> Öğretmenleri Atatürk’ü çok severdi. |
| <input type="checkbox"/> Atatürk Türkiye Cumhuriyetinin ilk Cumhurbaşkanıdır. | <input type="checkbox"/> İstiklal Marş’ımızı Atatürk yazmıştır. |

NESNE VE ŞEKİL GRAFIĞI

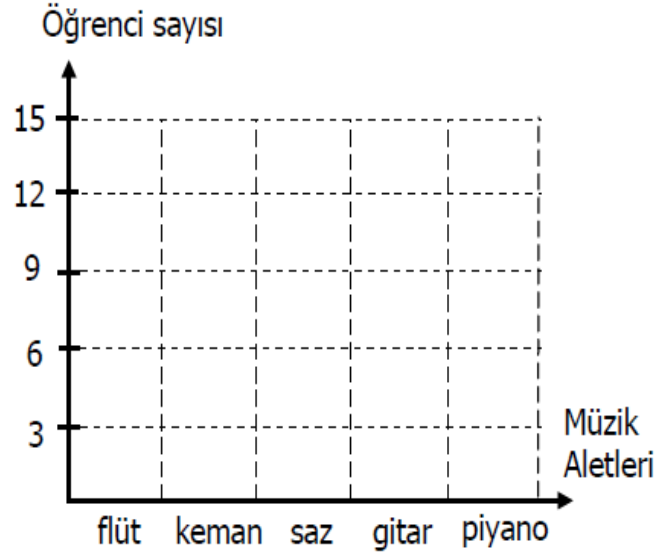
Aşağıda 3/A sınıfındaki öğrencilerin en sevdiği müzik aletleri nesne grafiği verilmiştir. Buna göre şekil grafiği oluşturalım.

Tablo: Müzik Aletleri

Müzik Aletleri	Müzik Aletleri Sayısı
Flüt	
Keman	
Saz	
Gitar	
Piyano	

Not: Her nesne 3 müzik aletini göstermektedir.

Grafik: Öğrencilerin En Sevdiği Müzik Aletleri



Not: Her şekil 3 müzik aletini göstermektedir.

Yukarıdaki nesne grafiğine göre çetele ve sıklık tablosu oluşturalım. Aşağıdaki soruları yanıtlayalım.

Tablo:

Müzik Aletleri	Müzik Aletleri Sayısı
Flüt	
Keman	
Saz	
Gitar	
Piyano	

• Gitarı seven öğrenci sayısı kaçtır?

.....

• Hangi müzik aletlerinin toplamı gitarın severlerin sayısına eşittir?

.....

Tablo:

Müzik Aletleri	Müzik Aletleri Sayısı
Flüt	
Keman	
Saz	
Gitar	
Piyano	

• Hangi müzik aletleri eşit sayıda sevilmektedir?

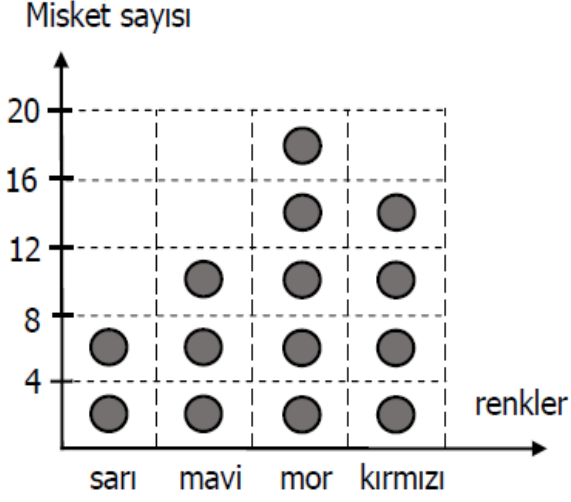
.....

• En çok sevilen müzik aleti ile en az sevilen müzik aletinin toplamı kaçtır?

.....

Aşağıda 3/A sınıfındaki öğrencilerin en sevdiği misket renkleri şekil grafiği verilmiştir. Buna göre nesne grafiği oluşturalım.

Grafik: En sevilen Misket Renkleri



Not: Her şekil 4 misketi göstermektedir.

Tablo: En sevilen Misket Renkleri

Misketler	Misket Sayısı
Sarı	
Mavi	
Mor	
Kırmızı	

Not: Her nesne 4 misketi göstermektedir.

Yukarıdaki şekil grafiğine göre çetele ve sıklık tablosu oluşturalım. Aşağıdaki soruları yanıtlayalım.

Tablo:

Misketler	Misket Sayısı
Sarı	
Mavi	
Mor	
Kırmızı	

- En çok sevilen misket rengi hangisidir?
.....
- Hangi misket renklerinin toplamı mor misket sayısına eşittir?
.....
- En az sevilen misket rengi ile en çok sevilen misket renklerinin farkı kaçtır?
.....

Tablo:

Misketler	Misket Sayısı
Sarı	
Mavi	
Mor	
Kırmızı	

- En az sevilen misket rengi hangisidir?
.....
- Kırmızı ve mavi misketlerin toplamı mor misketlerden kaç fazladır?
.....
- Şekil grafiğindeki misketlerin toplamı kaçtır?
.....