

Türkçe Genel Değerlendirme

1- Aşağıdaki tümcelerin hangisinde geçmişte gerçekleşen bir eylemden söz edilmektedir?

- A) Aylın ' in resim sergisine kiminle gittiniz?
- B) Bayramı kutlamak için birçok kişi gelecekti.
- C) Şirin, her zaman ve her yerde kitap okuyor.

2- Aşağıdaki sözcük gruplarından hangisi varlığın özelliğini bildiren sözcüklerden değildir?

- A) yeni - güzel - minik
- B) okul - tarla - masal
- C) taze - bayat - bodur

3- gül - yüz - fotoğraf - çay - Yanda verilen kelimelerden kaç tanesinin farklı anlamı vardır?

- A) 1
- B) 2
- C) 3

4- Aşağıdaki tümcelerin hangisinde altı çizili sözcük aldığı ek nedeniyle yeni bir anlam kazanmamıştır?

- A) Keloğlan'a annesi yolluk hazırlamıştı.
- B) Karagöz ve Hacivat, gölge oyunu ustalarıdır.
- C) Nasrettin Hoca' nın fıkraları dinleyicileri gülmekten kırdı.



5- Kendisini bir başkasına tanıtmak isteyen bir öğrenci, yandaki cümleleri nasıl sıralaması gerekir?

- 1- Ben 10 yaşındayım.
- 2- İlköğretim 3. sınıftayım.
- 3- Adım Başak.
- 4- En çok köşe kapmaca oyununu severim.

- A) 3-1-4-2
- B) 1-2-3-4
- C) 3-1-2-4

6-



Ödevlerimi
erken bitirdim.

I

Okulu çok
severim.

II

Pastayı
bitirdim.

III

Yukarıdaki balık kaç numaralı akvaryuma girerse oradaki cümle ile kendi cümlesi arasında neden sonuç ilişkisi kurulur?

- A) I
- B) II
- C) III

7- Aşağıdaki cümlelerin hangisinde virgül kaldırıldığında anlatım bozukluğu meydana gelir?

- A) Kalemimi, silgisini çantasına koydu.
- B) Baba, eşeğin yavrusu oldu.
- C) Aylın' i , Murat' ı ve Hakan' ı çağırabilirsin.

8- " Çok acıkmak" anlamına gelen deyim aşağıdakilerden hangisidir?

- A) Kulağını açmak
- B) Karnı zil çalmak
- C) Gözlerini dört açmak

9- Aşağıdakilerden hangisi çoğul şahıs yerine kullanılamaz?

- A) biz
- B) onlar
- C) ben

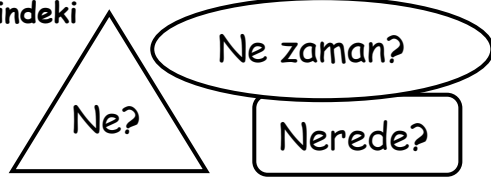
Okula giderken bir çocuk
Sevinçlidir.
O kadar ki !
Sevincinden
Tanıdık tanımadık bütün ağaçlara
Ve kuşlara selam verir.

10-Yandaki şiirin ana duygusu nedir?

- A) Çocuk sevgisi B) Doğa sevgisi C) Okul sevgisi

11- Aşağıdaki cümlelerin hangisinde şekillerin içindeki soruların tamamının yanıtı vardır?

- A)Halam yarın araba alacak.
B)Balıklar akvaryumda yaşayabilir.
C)Akşam çantamda defterim yoktu.



12- "Bizim size geleceğimiz ona söylemeyi unutma!" tümcesinde adın yerine kullanılan kelimeler aşağıdaki seçeneklerden hangisinde doğru verilmiştir?

- A) biz- siz - O B) biz- unutma - siz C) biz - O - söyle

13- Aşağıdaki kelimelerden hangisi adın " -i " durumundadır?

- A)suya B) kitabı C) bayramda

14- Aşağıdaki cümlelerin hangisinde " abartılı " bir anlam vardır?

- A)Vücudumuzun güneş ışığına ihtiyacı vardır.
B)Süt ve peynir kemiklerimizi güçlendirir.
C)Dengeli beslenirsem çita kadar hızlı koşarım.

15- Aşağıdaki kelimelerden hangisi çoğul eki almamıştır?

- A) odalar B) kiler C) balkonlar

16-Sessiz okuma yaptığımız zaman aşağıdakilerden hangisine dikkat etmeliyiz?

- A) Kafamızı oynatmalıyız. B) Gözümüzle takip etmemeliyiz. C) Dudaklarımızı kıpırdatmamalıyız.

17- Aşağıdaki cümlelerde özel adların yazılışlarıyla ilgili hataları bularak doğrusunu altlarına yazınız.

Aşağıya, millet caddesine indik.

Herkes Hamdi beye bakıyordu.

Kuşumuz kırçıl, konuşmayı öğrendi.

Ay, dünyanın uydusudur.

18- " Denedi ancak balonu patlamadı." Tümcesindeki altı çizili sözcüğün cümleye kattığı anlam hangi cümlede vardır?


- A) Beni görür görmez kaçmaya başladı.
B) Okula gittim ama kitabı bulamadım.
C) Otobüse ancak yetişebildi.

19-"öğretmen -muallim " sözcükleri arasındaki anlam ilişkisi aşağıdakilerden hangisinde yoktur?


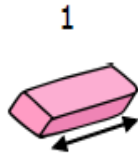
- A) öğrenci -talebe B) yaz -kış C) sonbahar -güz

STANDART OLMAYAN UZUNLUK ÖLÇÜLERİ



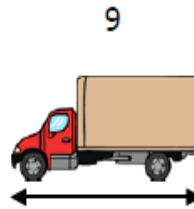
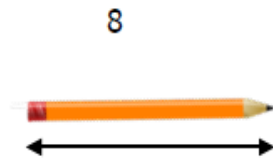

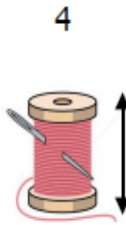
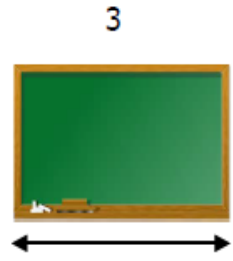
Aşağıdaki görsellerin uzunluklarını standart olmayan ölçme araçlarından hangileriyle ölçebileceğimizi kutulardaki noktalı yerlere örnekteki gibi yazınız.



İsmi: Parmak
Sayılar: .1,.....



İsmi:
Sayılar:




İsmi:
Sayılar:

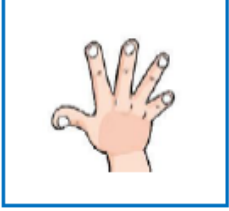


İsmi:
Sayılar:

Aşağıdaki standart olmayan ölçme araçlarının yaklaşık uzunlukları ile eşleştirelim.



15 cm



Yarım metre



Bir metre



4 cm



Aşağıda uzunluğu verilen resimlerde 1 metreden uzun olanları işaretleyiniz.



Ağacın yüksekliği



Sehpanın yüksekliği



Kaşığın boyu



Kapının yüksekliği



Cep telefonunun boyu



Apartmanın yüksekliği



Zürafanın boyu



Kovanın boyu

