


3/B Matematik Etkinlikleri-


Alan Hesaplamaları

1) Aşağıdaki şeklin alanı kaç birim karedir?




Alan=.....

2) Taralı şeklin alanı kaç birim karedir?




Alan=.....

3) Taralı şeklin alanı kaç birim karedir?



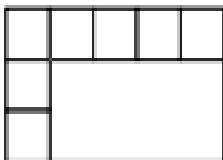
Alan=.....

4) Taralı şeklin alanı kaç birim karedir?



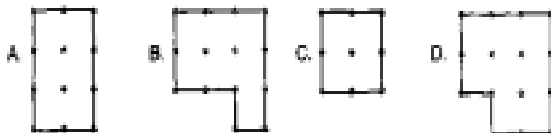
Alan=.....

5) Aşağıdaki şeklin alanı kaç birim karedir?

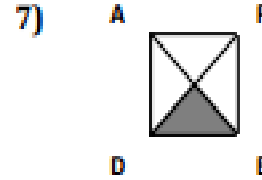


Alan=.....

6) Aşağıdaki şekillerin alanları kaç birim karedir?



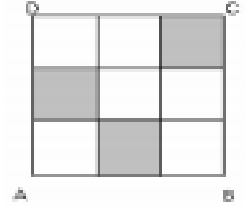
A=..... B=..... C=..... D=.....



Yandaki şekilde taralı bölümün alanı 5 birim kare ise tüm şeklin alanı kaç birim karedir?

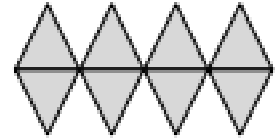
A) 15 B) 20 C) 25

8) Yandaki şekilde taralı bölümün alanı 3 birim kare ise tüm şeklin alanı kaç birim karedir?



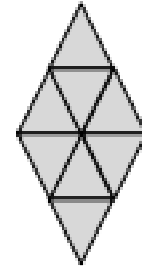
A) 6 B) 9 C) 12

9) Yandaki şekil kaç birim üçgenden oluşmuştur




A) 4 B) 6 C) 8

10) Yandaki şekil kaç birim üçgenden oluşmuştur




Alan=.....

11) Taralı şeklin alanı kaç birim karedir?



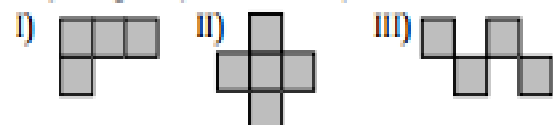
Alan=.....

12) Aşağıdaki şekil birim karelerin birleşmesiyle meydana gelmiştir. Şeklin ortasında oluşan dikdörtgenin alanı kaç birim karedir?



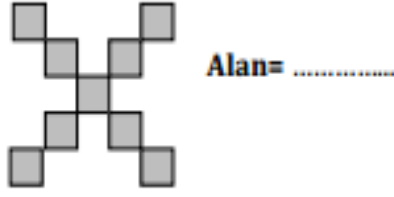
Alan=.....

13) Hangi iki şeklin alanı eşittir?



A) I ve II B) I ve III C) II ve III

14) Aşağıdaki şeklin alanı kaç birim karedir?

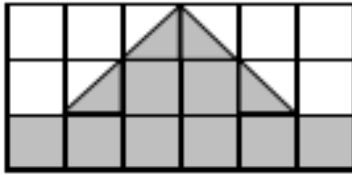


15) Taralı şeklin alanı kaç birim karedir?



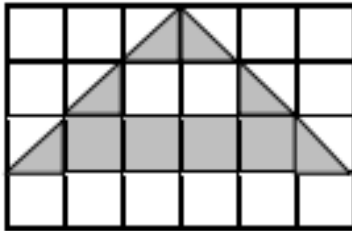
Alan=

16) Taralı şeklin alanı kaç birim karedir?



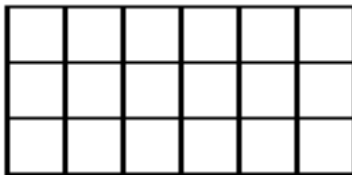
Alan=

17) Taralı şeklin alanı kaç birim karedir?

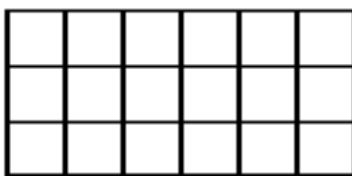


Alan=

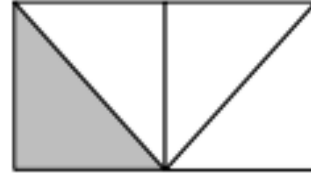
18) Aşağıdaki şekil üzerine, alanı 10 birim kare olacak şekilde bir şekil çizin.



19) Aşağıdaki şekil üzerine, alanı 13 birim kare olacak şekilde bir şekil çizin.




19)



Yukarıdaki şekil 4 üçgenden oluşmaktadır. 1 üçgenin alanı 5 birim kare ise tüm şeklin alanı kaç birim karedir?

20) Taralı şeklin alanı kaç birim karedir?




21) Aşağıdaki şeklin alanı kaç birim karedir?



Alan=

22)



Yukarıdaki şekilde taralı alan, dikdörtgenin alanının yarısı olması için ne yapılmalıdır?

- A) Taralı alan 1 kare silinmeli.
- B) Bir kare daha taranmalı.
- C) İki kare daha taranmalı.

23) Aşağıdaki şekilde taralı olmayan alan, taralı alanın kaç katıdır?



- A) 1
- B) 2
- C) 3

TÜRKÇE GENEL DEĞERLENDİRME TEST

1. Aşağıdakilerden hangisi bir *cümle değildir*?

- A) Düşmüş B) Hemen tırmanmış ağaca C) Çok eskiden bir ayı

2. “Eşeğe altın semer vursan yine eşektir.” sözüyle anlatılmak istenen aşağıdakilerden hangisidir?

- A) Eşek altının kıymetini anlamaz. B) Eşek yük taşımaktan bıkmaz.
C) Değersiz bir kişi, kılık kıyafetle değer kazanmaz.

3. “Yaz tatilinde yazlığa gittik.” Cümlesinde hangi kelime türemiş kelimedir?

- A) Yaz B) Tatil C) Yazlık

4. “Bu kentte şunları gördük.” Bu cümlede zamir olan kelime hangisidir?

- A) Bu B) Kentte C) Şunları

5. Çiğdem beyaz mendilini yere düşürdü. Hangi sözcük sıfattır?

- A- Mendil B Beyaz C Yer

6. “Yoksul-fakir” kelimeleri arasındakine benzer ilişki aşağıdakilerin hangisinde vardır?

- A) Tür-Çeşit B) Kurak-Sulak C) Sessiz-Yalnız

7. Aşağıdaki cümlelerin hangisi pişmanlığı anlatmaktadır?

- A) Keşke oraya hiç gitmeseydim. B) Bir elime geçerse yapacağımı bilirim. C) Keşke arkadaşını da çağırsa.

8. Ağacı kurt yer, insanı dert yer. Cümlesinde kaç tane eylem vardır?

- A 1 B 3 C 2

9. “Savurgan” sözcüğünün zıt anlamlısı aşağıdakilerden hangisidir?

- A. Tutumlu B. Cömert c. Çalışkan

10. Aşağıdaki tümcelerin hangisinde “yüz” sözcüğü sayı anlamında kullanılmıştır?

- A. Eli yüzü biraz şişmişti. B. Aldıkları için yüz lira ödemişti. C. Yüzerek kıyıya yaklaşmıştı.

11. “Hep birlikte parka” tümcesinin anlamlı bir tümce olması için noktalı yere aşağıdakilerden hangisi gelmelidir?

- A. gittim B. gitti C. gittik

12. “Tatlı” sözcüğü hangi tümcede “şirin, sevimli” anlamında kullanılmıştır?

- A. Bu kadar tatlı bir elma gördünüz mü? B. Tatlı rüyasından gürültü ile uyandırıldı.
C. Siz çok tatlı çocuklarsınız.

13. “Su” sözcüğüne aşağıdakilerden hangisini eklersek içinde su bulunan kap anlamını taşır?

- A. -cu B. -luk C. -suz

14. “Yol” sözcüğüne aşağıdakilerden hangisi eklenirse anlamı değişmez?

- A. -da B. -luk C. -cu

15. Aşağıdaki eklerden hangisi “göz” kelimesine yeni anlam katar?

- A. -lük B. -de C. -ler

16. Aşağıdakilerden hangisi “soy” sözcüğüne yeni bir anlam katmaz?

- A. -lu B. -gun C. -da

17. “volcu, bilgi, vatandaş” sözcüklerine benzer olan sözcük aşağıdakilerin hangisinde vardır?

- A. adam B. birkaç C. şekerci

18. Aşağıdaki sözcüklerden anlamca en geniş olanı hangisidir?

- A. ceket B. etek C. giysi

19. Aşağıdaki sözcüklerden hangisi ek alarak anlamını değiştirmemiştir?

- A. gecelik B. dirsek C. sazlık

20. Aşağıdaki sözcüklerden hangisi hecelerine yanlış ayrılmıştır?

A. He-kim-oğ-lu

B. çay-dan-lık

C. i-yi-lik

21. Aşağıdakilerden hangisi "Fenerbahçe" sözcüğünün hecelerinden birisi değildir?

A. -çe

B. -ne

C. -bah

22. Aşağıdaki kelimelerin kaç tanesinde yazım yanlışı vardır?

"bisiklet – türkiye – kirbit – Avrupa – gıram – yalnız "

A. 2

B. 3

C. 4

23. "Sekiz yaşındayım." diyen çocuğa aşağıdaki sorulardan hangisi sorulmuş olabilir?

A. Adın ne?

B. Nerede oturuyorsun?

C. Kaç yaşındasın?

24. Aşağıdaki sözcüklerden hangisinin tek başına bir anlamı yoktur?

A. okul

B. ile

C. çanta

25. *Dün gece erken* Tümcesinde boş bırakılan yere hangisi gelmelidir?

A) koştum B) kalktım C) yattım

26. *Bir duyguyu, bir düşünceyi, bir haberi ve bir dileği anlatan söz ve söz gruplarına* *denir. Söz dizisinde noktalı yere ne yazılmalıdır?*

A) sözcük B) tümce C) hece

27. öldürür – bina – deprem – öldürmez sözcüklerinden anlamlı bir cümle oluşturulduğunda baştan ikinci sözcük hangisi olur?

A) deprem B) bina C) öldürmez

28. *Ormanlarımız milli* *tümcesinde noktalı yere ne yazılmalıdır?*

A) servetimizdir B) değerlerimizdir C) kültürümüzdür

29. Aşağıdakilerden hangisi cümle değildir?

A) Gelmenize çok sevindim. B) Öğünmeliyiz. C) Ağaç yaş iken

30. *eken – biçer – fırtına – rüzgâr* sözcüklerinden oluşan atasözü aşağıdakilerden hangisidir?

A) Fırtına eken, biçer rüzgar. B) Rüzgâr eken, fırtına biçer. C) Rüzgâr, fırtına eken biçer.

31. *Selin, okuldan sonra eve gitti.* Tümcesinde hangi sözcük tümcede çıkarılırsa tümcenin anlamı değişmez?

A) okuldan B) gitti C) sonra

32. *Denizler, akşam bizde* *tümcesinde noktalı yere hangisi gelmelidir?*

A) gelecekler B) kalacaklar C) gidecekler

33. Aşağıdaki tümcelerin hangisinin sonuna *soru işareti konulmalıdır*?

A) Annem de gelecek mi

B) Soruları ben sorarım

C) Çevreyi temiz tutalım

34. *Bırak bu* *artık.* Tümcesinde noktalı yere hangisi gelmelidir?

A) inadı B) güzelliği C) kırgınlığı

35. Aşağıdaki cümlelerin hangisinde gerçek bir olaydan söz edilmektedir?

A) Çocuk oyuncak ayısıyla oynadı.

B) Oyuncak ayısı ona bir isteğini söyledi.

C) Çocuk, oyuncak ayısına yemek yedirdi.

36. "Kızdı" kelimesi aşağıdaki cümlelerin hangisinde diğerlerinden farklı bir anlamda kullanılmıştır?

A) Ayşe düzenli bir kızdı.

B) Annesi çocuğa kızdı.

C) Vazoyu kırınca çok kızdı.