

ANNE AYI YAVRUSUNA BALIK TUTMAYI NASIL ÖĞRETİR?

Anne ayı iyi bir avcıdır. Bu bilgisini yavrusuna da aktarmak ister....

Balık avlarken üç dört aylık yavru da annesinin yanındadır. Birlikte suya girerler...

Anne ayı balık yakalar, birlikte yerler.

Bu arada bir gelişme olur. Anne ayı, yakaladığı balığı ağzından düşürür; ancak balık ölüdür, yavru ayı, balığı hemen yakalar!

Bu oyun haftalarca sürer. Anne ayının ağzından düşürdüğü balık her defasında biraz daha canlıdır!... Yavru ayı yine de o balıkları yakalar!...

Suya düşen balıklar her defasında daha canlıdır ama yavru ayı da her gün daha usta bir avcı olmaktadır...

Sonunda yavru ayı kendi başına balık yakalayacak kadar ustalaşır. Anne ayı bunu anlar. Artık ona balık vermez.

Kendi artıklarından yemesini ve çevreden meyve toplamasını engeller... Yanına gelmek isterse ona vurur, taşlar...

Yavru ayı aç kalır.

Balık yakalar...

Soruları parçaya göre yanıtlayınız.

1.Parçada kaç tane hayvandan söz ediliyor?

.....

2.Yavru ayı kaç aylıkken annesinin yanında avlanmaya başlar?

.....

3.Anne ayı ne avlamaktadır?

.....

4.Anne ve yavrusu nerede balık avlıyorlar?

.....

5.Anne ayı yavrusuna balık tutmayı öğretmek için ne yapıyor?

.....

6.Anne ayı neden yavrusuna balık vermiyor?

.....

7.Anne ayının davranışını nasıl değerlendiriyorsun?

.....

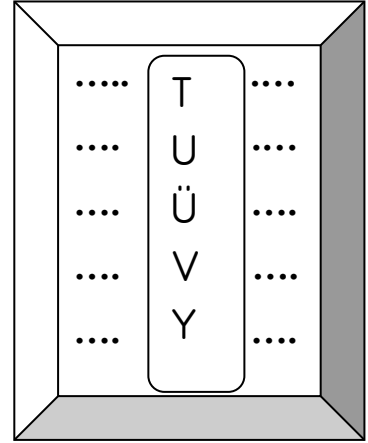
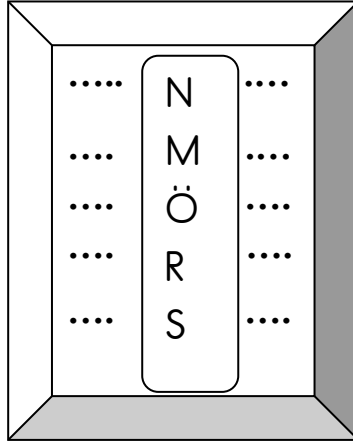
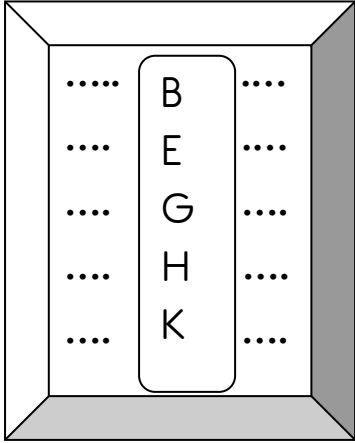
ETKİNLİK SAYFASI

Alfabemizde 29 harf vardır. Harfler belirli bir sıraya göre dizilmiştir.

A	B	C	Ç	D	E	F	G	Ğ	H	I	İ	J	K	L	M	N	O	Ö	P
1	2	3	4	5	6	7	8	9	10	11	12	13	14	15	16	17	18	19	20

R	S	Ş	T	U	Ü	V	Y	Z
21	22	23	24	25	26	27	28	29

Aşağıdaki harflerden bir önce ve bir sonra gelen harfleri yukarıdaki tablodan da yararlanarak doldurunuz.



1. Aşağıdaki tabloda eksik bırakılan harfleri doldurunuz.

a — [] — [] — ç — d — [] — [] — [] — ğ

h — [] — [] — j — [] — [] — m — [] — []

ö — [] — [] — [] — ş — t — [] — [] — []

[] — z

ETKİNLİK SAYFASI

1 - Aşağıdaki kelimeler kaç harften oluşmuştur?

Çiçek	..5..	Aş
Top	Çimen
Kooperatif	İstanbul
Dershane	Kalemlik
Babaanne	Tiyatro

2- Aşağıdaki kelimelerin sesli (ünlü) harflerini noktalı yerlere yazınız.

Kaplumbağa	...a- u- a - a -....	Ağaç
Koşu	Sevgi
Spor	Zarf
Denizci	Kelebek
İlkbahar	Kızılay
Edirne	İlköğretim

3 - Aşağıdaki kelimelerin sessiz (ünsüz) harflerini noktalı yerlere yazınız.

Kardeş	k - r - d - ş	Dersimiz
Çimenlik	Karınca
Yaprak	Sarmaşık
Yurdumuz	Türkiye
Sevinçli	Vatandaş

4 - Alfabemizdeki aşağıda söylenen harfleri yerlerine yazınız.

Alfabemizdeki ünlü harfler

.....

Alfabemizdeki ünsüz harfler

.....

.....

.....

ONLUK VE BİRLİK KAVRAMI

0, 1, 2, 3, 4, 5, 6, 7, 8, 9 sayıları bir rakamla yazıldığı için *bir basamaklı doğal sayılardır*.

10, 11, 12,, 99 sayıları iki rakamla yazıldığı için *iki basamaklı doğal sayılardır*.

İki basamaklı doğal sayıların en küçüğü; 10, en büyüğü ise 99'dur.

Aşağıdaki doğal sayıların onluk ve birliklerini yazalım.

$$47 = 4 \text{ onluk} + 7 \text{ birlik}$$

$$35 = \dots \text{ onluk} + \dots \text{ birlik}$$

$$20 = \dots \text{ onluk} + \dots \text{ birlik}$$

$$26 = \dots \text{ onluk} + \dots \text{ birlik}$$

$$10 = \dots \text{ onluk} + \dots \text{ birlik}$$

$$53 = \dots \text{ onluk} + \dots \text{ birlik}$$

$$31 = \dots \text{ onluk} + \dots \text{ birlik}$$

$$66 = \dots \text{ onluk} + \dots \text{ birlik}$$

$$72 = \dots \text{ onluk} + \dots \text{ birlik}$$

$$81 = \dots \text{ onluk} + \dots \text{ birlik}$$

$$99 = \dots \text{ onluk} + \dots \text{ birlik}$$

$$80 = \dots \text{ onluk} + \dots \text{ birlik}$$

$$7 = \dots \text{ onluk} + \dots \text{ birlik}$$

$$58 = \dots \text{ onluk} + \dots \text{ birlik}$$

$$63 = \dots \text{ onluk} + \dots \text{ birlik}$$

$$79 = \dots \text{ onluk} + \dots \text{ birlik}$$

$$48 = \dots \text{ onluk} + \dots \text{ birlik}$$

$$33 = \dots \text{ onluk} + \dots \text{ birlik}$$

$$2 = \dots \text{ onluk} + \dots \text{ birlik}$$

$$15 = \dots \text{ onluk} + \dots \text{ birlik}$$

$$67 = \dots \text{ onluk} + \dots \text{ birlik}$$

$$32 = 3 \text{ onluk} + 2 \text{ birlik}$$

$$\dots = 1 \text{ onluk} + 3 \text{ birlik}$$

$$\dots = 6 \text{ onluk} + 0 \text{ birlik}$$

$$\dots = 9 \text{ onluk} + 2 \text{ birlik}$$

$$\dots = 5 \text{ onluk} + 8 \text{ birlik}$$

$$\dots = 4 \text{ onluk} + 1 \text{ birlik}$$

$$\dots = 0 \text{ onluk} + 6 \text{ birlik}$$

$$\dots = 7 \text{ onluk} + 0 \text{ birlik}$$

$$\dots = 8 \text{ onluk} + 7 \text{ birlik}$$

$$\dots = 5 \text{ onluk} + 1 \text{ birlik}$$

$$\dots = 3 \text{ onluk} + 6 \text{ birlik}$$

$$\dots = 1 \text{ onluk} + 1 \text{ birlik}$$

$$\dots = 2 \text{ onluk} + 3 \text{ birlik}$$

$$\dots = 3 \text{ onluk} + 7 \text{ birlik}$$

$$\dots = 8 \text{ onluk} + 9 \text{ birlik}$$

$$\dots = 6 \text{ onluk} + 5 \text{ birlik}$$

$$\dots = 2 \text{ onluk} + 5 \text{ birlik}$$

$$\dots = 9 \text{ onluk} + 8 \text{ birlik}$$

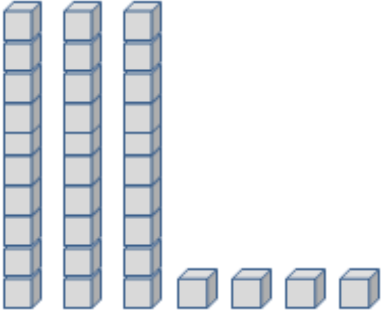
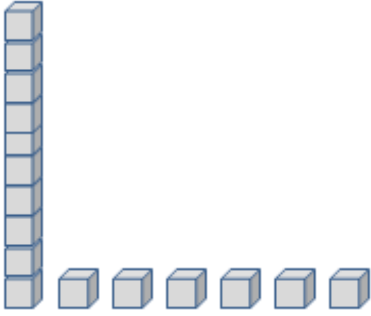
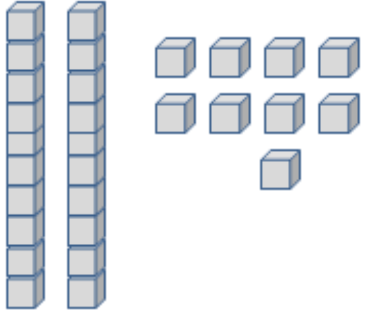
$$\dots = 7 \text{ onluk} + 7 \text{ birlik}$$

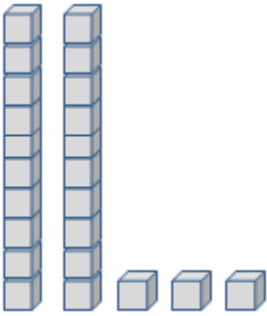
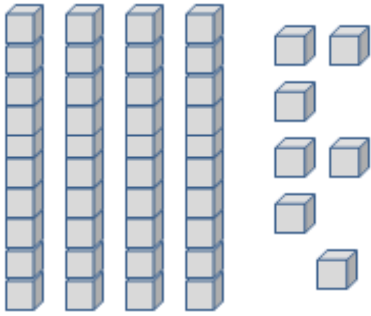
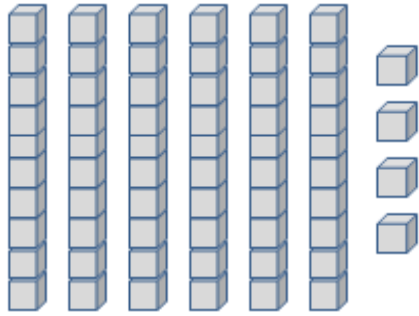
$$\dots = 4 \text{ onluk} + 0 \text{ birlik}$$

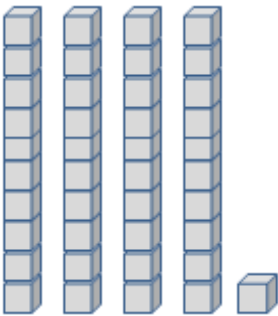
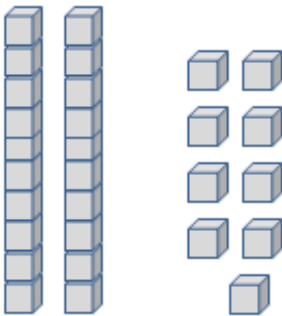
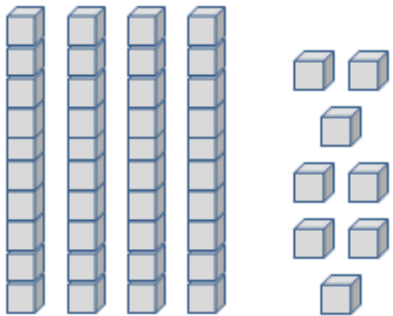
$$\dots = 0 \text{ onluk} + 1 \text{ birlik}$$

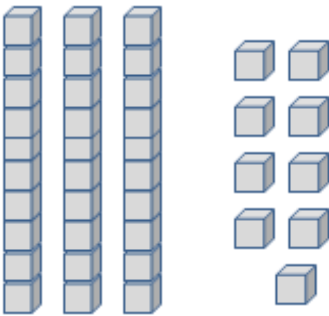
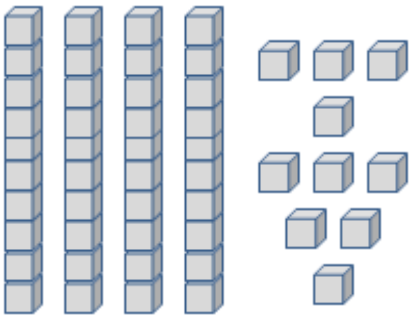
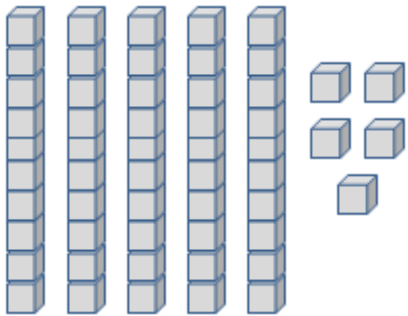
$$\dots = 0 \text{ onluk} + 9 \text{ birlik}$$

Aşağıdaki tablolardaki noktalı yerleri doldurunuz.

		
3 onluk 4 birlikonluk birlikonluk birlik
34

		
.... onluk birlikonluk birlikonluk birlik
.....

		
.... onluk birlikonluk birlikonluk birlik
.....

		
.... onluk birlikonluk birlikonluk birlik
.....