

ÇIKARMA İŞLEMLERİ

1. Aşağıdaki işlemleri sıra izleyerek yapınız.

$$\begin{array}{r} 975 \\ - 75 \\ \hline \dots\dots \end{array} \rightarrow \begin{array}{r} \dots\dots \\ - 75 \\ \hline \dots\dots \end{array} \rightarrow \begin{array}{r} \dots\dots \\ - 75 \\ \hline \dots\dots \end{array} \rightarrow \begin{array}{r} \dots\dots \\ - 75 \\ \hline 675 \end{array}$$

2. Aşağıdaki işlemleri yapınız.

$$\begin{array}{r} 501 \\ - 126 \\ \hline \dots\dots \end{array}$$

$$\begin{array}{r} 612 \\ - 145 \\ \hline \dots\dots \end{array}$$

$$\begin{array}{r} 713 \\ - 327 \\ \hline \dots\dots \end{array}$$

$$\begin{array}{r} 800 \\ - 569 \\ \hline \dots\dots \end{array}$$

C. Aşağıdaki işlemleri doğru sonuçlarıyla eşleştiriniz. Eşleştirmeyi okla yapınız.

$$\begin{array}{r} 478 \\ - 296 \\ \hline \dots\dots \end{array}$$

$$\begin{array}{r} 713 \\ - 367 \\ \hline \dots\dots \end{array}$$

$$\begin{array}{r} 704 \\ - 377 \\ \hline \dots\dots \end{array}$$

$$\begin{array}{r} 503 \\ - 186 \\ \hline \dots\dots \end{array}$$

$$\begin{array}{r} 600 \\ - 127 \\ \hline \dots\dots \end{array}$$

$$\begin{array}{r} 900 \\ - 387 \\ \hline \dots\dots \end{array}$$

$$\begin{array}{r} 800 \\ - 152 \\ \hline \dots\dots \end{array}$$

165

180

182

260

346

327

548

317

280

265

473

150

648

513

$$\begin{array}{r} 812 \\ - 264 \\ \hline \dots\dots \end{array}$$

$$\begin{array}{r} 332 \\ - 167 \\ \hline \dots\dots \end{array}$$

$$\begin{array}{r} 425 \\ - 165 \\ \hline \dots\dots \end{array}$$

$$\begin{array}{r} 283 \\ - 103 \\ \hline \dots\dots \end{array}$$

$$\begin{array}{r} 513 \\ - 363 \\ \hline \dots\dots \end{array}$$

$$\begin{array}{r} 620 \\ - 355 \\ \hline \dots\dots \end{array}$$

$$\begin{array}{r} 305 \\ - 25 \\ \hline \dots\dots \end{array}$$

3.SINIF ÇIKARMA İŞLEMLERİ

1.Aşağıdaki çıkarma işlemlerini yapınız.

$$\begin{array}{r} 244 \\ - 232 \\ \hline \end{array}$$

$$\begin{array}{r} 356 \\ - 151 \\ \hline \end{array}$$

$$\begin{array}{r} 547 \\ - 445 \\ \hline \end{array}$$

$$\begin{array}{r} 958 \\ - 625 \\ \hline \end{array}$$

$$\begin{array}{r} 563 \\ - 452 \\ \hline \end{array}$$

$$\begin{array}{r} 943 \\ - 823 \\ \hline \end{array}$$

$$\begin{array}{r} 864 \\ - 311 \\ \hline \end{array}$$

$$\begin{array}{r} 502 \\ - 345 \\ \hline \end{array}$$

$$\begin{array}{r} 840 \\ - 369 \\ \hline \end{array}$$

$$\begin{array}{r} 122 \\ - 112 \\ \hline \end{array}$$

$$\begin{array}{r} 371 \\ - 265 \\ \hline \end{array}$$

$$\begin{array}{r} 482 \\ - 354 \\ \hline \end{array}$$

$$\begin{array}{r} 559 \\ - 433 \\ \hline \end{array}$$

$$\begin{array}{r} 601 \\ - 407 \\ \hline \end{array}$$

$$\begin{array}{r} 993 \\ - 264 \\ \hline \end{array}$$

$$\begin{array}{r} 158 \\ - 113 \\ \hline \end{array}$$

$$\begin{array}{r} 652 \\ - 214 \\ \hline \end{array}$$

$$\begin{array}{r} 433 \\ - 218 \\ \hline \end{array}$$

$$\begin{array}{r} 339 \\ - 234 \\ \hline \end{array}$$

$$\begin{array}{r} 510 \\ - 137 \\ \hline \end{array}$$

$$\begin{array}{r} 381 \\ - 187 \\ \hline \end{array}$$

2.Verilen ilk işlemten başlayarak bulduğunuz farkları ok ile gösterilen eksilen kısmına yaz ve en sonunda yıldızın değerini bul.

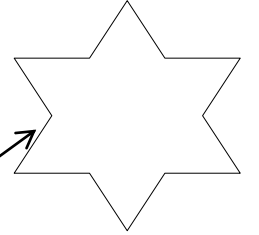
$$\begin{array}{r} 977 \\ - 143 \\ \hline \square \end{array}$$

$$\begin{array}{r} \square \\ - 111 \\ \hline \square \end{array}$$

$$\begin{array}{r} \square \\ - 102 \\ \hline \square \end{array}$$

$$\begin{array}{r} \square \\ - 33 \\ \hline \square \end{array}$$

$$\begin{array}{r} \square \\ - 227 \\ \hline \square \end{array}$$



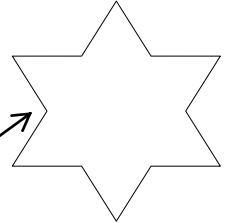
$$\begin{array}{r} 902 \\ - 155 \\ \hline \square \end{array}$$

$$\begin{array}{r} \square \\ - 122 \\ \hline \square \end{array}$$

$$\begin{array}{r} \square \\ - 90 \\ \hline \square \end{array}$$

$$\begin{array}{r} \square \\ - 177 \\ \hline \square \end{array}$$

$$\begin{array}{r} \square \\ - 266 \\ \hline \square \end{array}$$



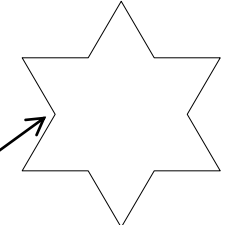
$$\begin{array}{r} 862 \\ - 28 \\ \hline \square \end{array}$$

$$\begin{array}{r} \square \\ - 143 \\ \hline \square \end{array}$$

$$\begin{array}{r} \square \\ - 161 \\ \hline \square \end{array}$$

$$\begin{array}{r} \square \\ - 44 \\ \hline \square \end{array}$$

$$\begin{array}{r} \square \\ - 330 \\ \hline \square \end{array}$$



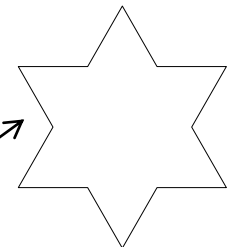
$$\begin{array}{r} 841 \\ - 80 \\ \hline \square \end{array}$$

$$\begin{array}{r} \square \\ - 186 \\ \hline \square \end{array}$$

$$\begin{array}{r} \square \\ - 179 \\ \hline \square \end{array}$$

$$\begin{array}{r} \square \\ - 90 \\ \hline \square \end{array}$$

$$\begin{array}{r} \square \\ - 53 \\ \hline \square \end{array}$$



TEKİL , ÇOĞUL ve TOPLULUK ADLARI

Aşağıdaki adlardan (isimlerden) tekil olanları maviye çoğul olanları kırmızıya boyayınız .

kalem	silgiler	dolaplar	bilgisayar
toplar	cetveller	kiler	saat
bardaklar	gözlük	telefonlar	kova
halı	eşekler	inekler	kupa

Aşağıdaki tekil isimleri çoğul yapınız .

ağaç	silgi	ev
masa	bardak	tel
gemi	muz	cetvel
kitap	kağıt	çekiç
çivi	kaşık	armut
elma	erik	çilek
kablo	çorap	eldiven
ütü	balon	araba
fındık	ceviz	fıstık

Çoğul eki almadığı halde birden çok varlığı , bir topluluğu karşılayan adlara **topluluk adı** denir .

Aşağıdaki adlardan tekil olanları sarıya , çoğul olanları kırmızıya , topluluk adı olanları yeşile boyayınız .

koyun	erikler	sürü	masalar	buket	askerler
ev	site	makaslar	düzine	muzlar	sınıf
taşlar	orman	biber	tebeşir	deste	kağıtlar
çatal	kaşık	tabaklar	takım	caddeler	biberler
demet	inekler	ordu	tavuk	ayakkabı	silgiler
armutlar	meclis	kirazlar	ulus	ekip	yüzük

Aşağıdaki isimlerin yanındaki kutulara uygun olan kavramları yazınız .

gözlükler	çoğul	Düzine	
Güneş		Kitaplar	
Bardaklar		Pırasalar	
Ordu		Kiler	
Masalar		Sınıf	
Buket		Erik	
Güller		Demet	
Penguen		Televizyon	
Kiler		Grup	
Meclis		Balık	
Ulus		Jüri	
Elma		Saat	