

TÜRKÇE DERSİ SORULARI

1. Hangi kelime hecelerine doğru ayrılmıştır?
A) kal – em B) mak – i – ne C) te – be – şir
2. Hangi kelimenin hece sayısı **en fazladır**?
A) gazete B) otomobil C) portakal
3. Aşağıdaki kelimelerden hangisinin yazımı **yanlıştır**?
A) öğretmen B) öğrenci C) tren
4. Aşağıdaki kelime dizilerinden hangisi cümle **değildir**?
A) Maça gidecek miyiz B) Seni annen telefona C) Kamyonun lastikleri inmiş
5. "*Kimler ödevini bitirdi* ." cümlesinin sonuna hangi noktalama işaretini koyarız?
A) ünlem işareti B) nokta C) soru işareti
6. "*doğru* ." kelimesinin **zıt anlamlısı** hangi cümlede kullanılmıştır?
A) Ali, doğru sorular sorar. B) Ödevini yanlış yapmışsın. C) Şiiri çok güzel okudun.
7. Hangi noktalama işareti cümlenin sonunda **bulunmaz**?
A) ünlem işareti B) nokta C) virgöl
8. "*Babam dün gece*" cümlesini aşağıdaki kelimelerden hangisi **tamamlamaz**?
A) geldi B) gelmiş C) gelecek
9. "*yıl*." kelimesinin eş anlamlısı hangisidir?
A) hafta B) sene C) mevsim
10. Hangi cümledeki ifade **yanlıştır**?
A) Cümle yazmaya büyük harfle başlanır. B) Şiirleri okurken çok bağırmalıyız.
C) Özel isimlerin ilk harfi büyük yazılır.
11. Hangi kelimenin **ilk ve son harfi aynıdır**?
A) küçük B) büyük C) uzun

MATEMATİK DERSİ SORULARI

12. "*19*." sayısının okunuşu hangisidir?
A) dokuz B) on C) on dokuz
13. "*9 , ... , 11* ." ifadesinde boş bırakılan yere hangi sayı gelmelidir?
A) 12 B) 10 C) 8
14. Hangi toplama işleminin sonucu **17 değildir**?
A) $10 + 7 =$ B) $9 + 8 =$ C) $12 + 6 =$

15.



Meyveleri sıraya koyduk. Armut kaçınıcı sıradadır?

- A) 1. B) 3. C) 5.

16.



A)



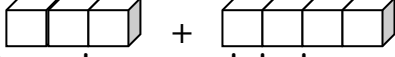
B)



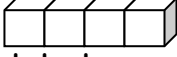
C)



17.



+



Birim küp modeli ile açıklanan işlem aşağıdakilerden hangisidir?

- A) 2 + 3 B) 4 + 2 C) 3 + 4

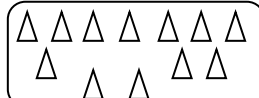
18.

Hangi gruptaki nesne sayısı diğerlerinden fazladır?

A)



B)



C)



19.



Arılar, kelebeklerden ne kadar fazladır?

- A) 10 B) 6 C) 2

HAYAT BİLGİSİ DERSİ SORULARI

21.

Hangisi fiziksel bir özelliktir?

- A) göz rengi B) çalışkanlık C) dürüstlük

22.

Hangisi sınıfımızda bulunmaz?

- A) sıra B) yazı tahtası C) yemek masası

23.

Hangisi kişisel eşyalarımızdan değildir?

- A) koltuk B) diş fırçası C) okul çantası

24.

Teoman, eve girince gaz kokusu duyuyor. Mutfağa gidip ocağı kapatıyor ve evi havalandırıyor. Teoman, gaz kokusunu hangi organıyla duymuştur?

- A) göz B) dil C) burun

25.

Dün günlerden pazardı. Şimdi hangi gündeyiz?

- A) cumartesi B) pazartesi C) Cuma

26.

Hangisi ailemizdeki kişilerden biri değildir?

- A) annemiz B) kardeşimiz C) komşumuz

ÖRÜNTÜLER

Örüntüleri devam ettirecek şekli boyayınız.

1



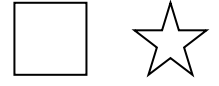
.....



2



.....



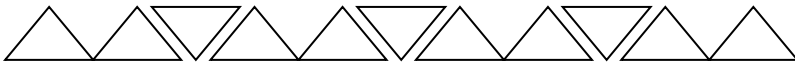
3



.....



4



.....



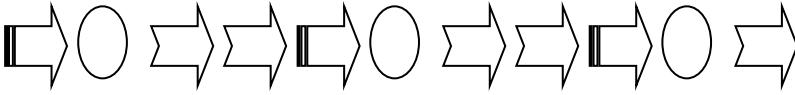
5



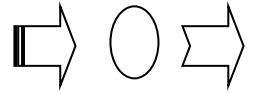
.....



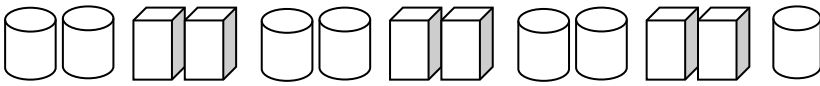
6



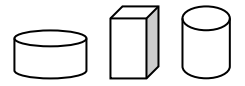
.....



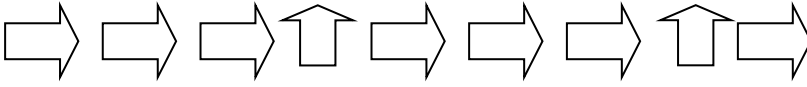
7



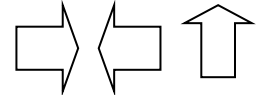
.....



8



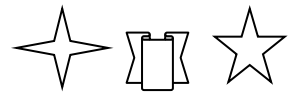
.....



9



.....



10



.....



Aşağıdaki süslemeyi örnekte görüldüğü gibi devam ettirerek tamamlayınız.
(Sevdiğiniz iki renk seçebilirsiniz)

