

SORU CÜMLESİ OLUŞTURALIM

Aşağıdaki cümlelere kutularda yazılı kelimeleri kullanarak örnekteki gibi soru cümleleri haline getiriniz.

Kim?

→ Atakan, tek başına okula gitti.

Kim tek başına okula gitti?

Ne?

→ Annem kırtasiyeden kitap aldı.

.....

Nerede?

→ Ela, köyde yaşıyor.

.....

Ne zaman?

→ Yaz tatilinde Van'a gezmeye gideceğiz.

.....

Niçin?

→ Kar yağdığı için okullar tatil oldu.

.....

Nasıl?

→ Ablam, kahverengi çanta aldı.

.....

Kim?

→ Zeynep, sinemaya gelmek istemedi.

.....

Ne?

→ Bahçeden domates ve biber topladık.

.....

Ne zaman?

→ Babam her sabah spor yapar.

.....

Aşağıdaki cümlelere "mı, mi, mu, mü" soru eklerinden uygun olanı yazalım.

Canan, okula geldi

Halil, kitap okuyor

Sular akıyor

Ders çalışıyorsun?

Yarın düğüne gelecek

Bahçedeki çiçeklere su verir

Bayramda şiir okudun

Akşamleyin dışarıya çıkacak

Cengiz'i gördün

Uçurtman ağacın dalına takıldı?

Aşağıdaki tekil adları çoğul, çoğul adları tekil yapınız.

Tekil Ad	Çoğul Ad
bardak	
kitap	
okul	
gömlek	
uçak	

Çoğul Ad	Tekil Ad
çocuklar	
kuşlar	
pastalar	
kapılar	
bulutlar	

Aşağıdaki eksik cümleleri, cümle başında ve sonunda bulunan uygun kelimelerle tamamlayınız.

kaybetti

Annemin verdiği hediye

pişirdi

ayakkabı

Anneannem bana bir ördü.

kazak

uçarak

Yolcular otobüse bindi.

sırayla

yağmur

Gece, sabaha kadar yağdı.

taş

çatıda

Yeni aldığım bisikleti unuttum.

parkta

TARTMA

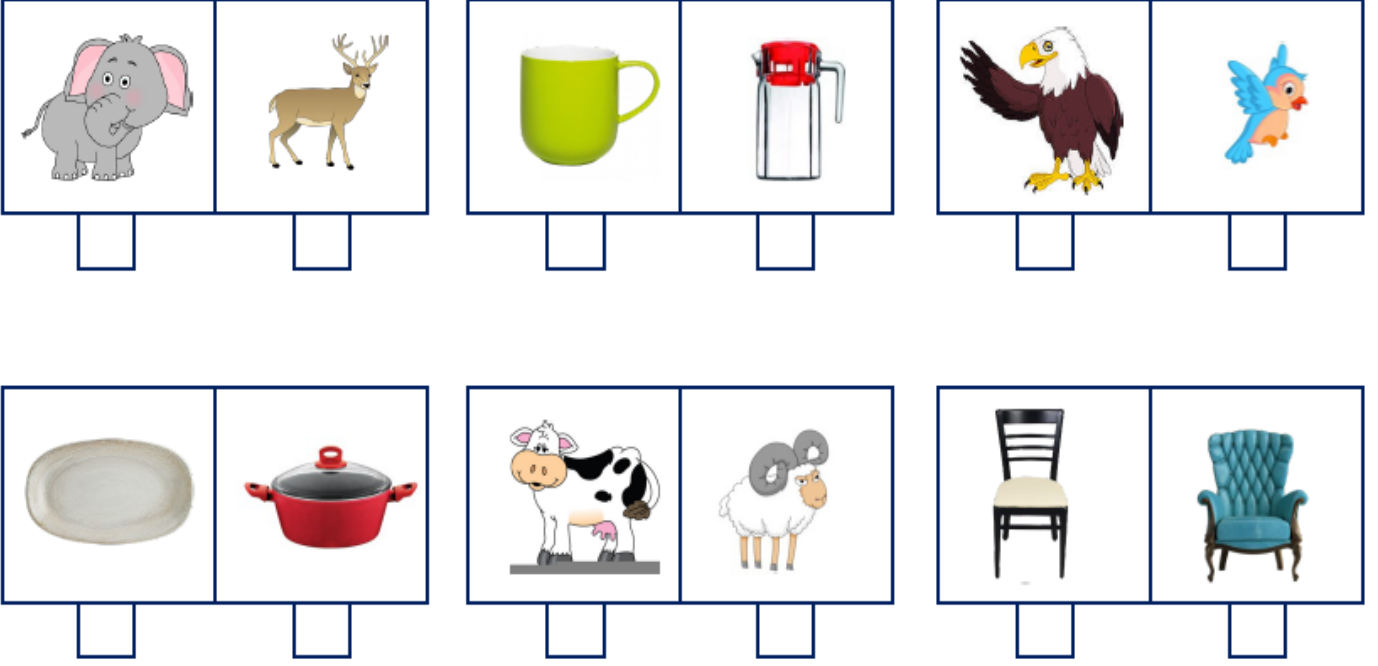
Aşağıdaki ürünlerden tartılarak satın aldıklarımızı işaretleyelim.



Nesneleri tartmada kullandığımız araçları işaretleyiniz.



Aşağıdaki varlıklardan kütlesi ağır olanları işaretleyiniz.



Tartılan ürünlerin kütlelerini karşılaştırarak altlarına yazalım.



Soğan

16 kg



Patates

14 kg



Un

11 kg



Pirinç

13 kg

..... , ten daha ağırdır.

..... , dan daha ağırdır.



Karpuz

7 kg



Kabak

9 kg



Şeftali

23 kg



Soğan

19 kg

..... , tan daha hafiftir.

..... , den daha hafiftir.

Terazilerdeki meyveleri tartımlarına göre, doğru ifadeleri başına "D", yanlış ifadelerin başına "Y" yazalım.



- () Elmaların kütlesi 1 kilogramdan azdır.
- () Elmaların kütlesi 1 kilogramdan fazladır.
- () Elmaların kütlesi 1 kilogramdır.



- () Portakallar kütlesi 1 kilogramdır.
- () Portakallar kütlesi 1 kilogramdan fazladır.
- () Portakallar kütlesi 1 kilogramdan azdır.

Aşağıdaki soruları tabloya göre cevaplayınız.

 6 kg	 4 kg	 5 kg	 15 kg
---	---	--	--

Kütlesi en az olan hayvan hangisidir?


Kütlesi en fazla olan hayvan hangisidir?

Tavşan, ördek ve kedinin kütlesi, kuzunun kütlesine eşit midir?

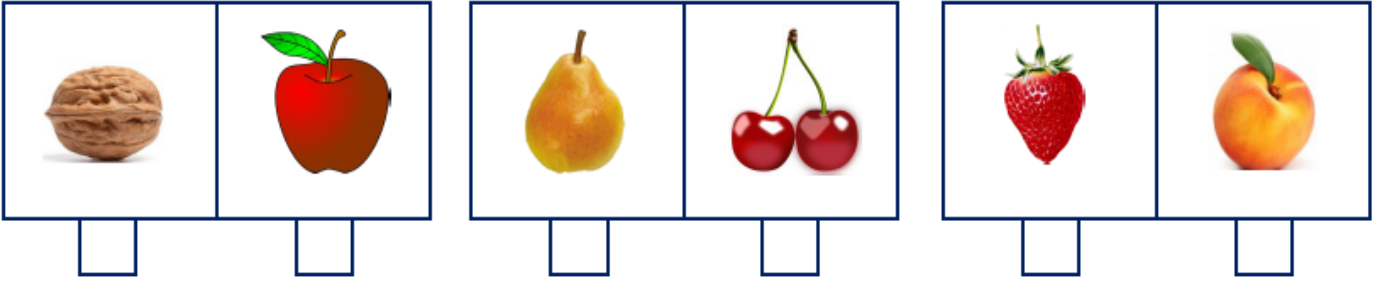
Tavşanın kütlesi, kuzunun kütlesinden ne kadar hafiftir?

Ördek ve kedinin kütlesi, tavşanın kütlesinden ne kadar fazladır?

Aşağıdaki varlıklardan kütlesi hafif olanları işaretleyiniz.



Aşağıdaki varlıklardan kütlesi ağır olanları işaretleyiniz.



Aşağıdaki soruları cevaplayınız.



Ali

36 kilogram



Eylül

30 kilogram



Mustafa

88 kilogram



Funda

28 kilogram



Yaşar

30 kilogram

Yaşar'ın kütlesi, Ali'nin kütlesinden azdır.

Eylül'ün kütlesi, Funda'nın kütlesinden fazladır.

Eylül ve Funda'nın kütlelerinin toplamı 'dir.

Eylül, Funda ve Yaşar'ın kütlelerinin toplamı, Mustafa'nın kütlesinetir.

Ali ve Yaşar'ın kütlelerinin toplamı, Mustafa'nın kütlesinden azdır.

Erkeklerin kütlelerinin toplamı, kızların kütlelerinin toplamından fazladır.

Kütlesi en fazla olan kişi

Kütlesi en az olan kişi

Eylül ve Yaşar'ın kütleleri birbirine

