

## TÜRKÇE GENEL DEĞERLENDİRME TEST

1-“İnsanı - yapmak - dinlendirir - resim” yandaki kelimelerle kurallı ve anlamlı bir cümle oluşturulsa baştan üçüncü kelime hangisidir?

- A) Yapmak B) resim C) insanı

2-“Siz buraya mı taşındınız ?” cümlesinden hangi kelime çıkarılırsa cümlenin anlamı değişmez?

- A) Siz B) buraya C) taşındınız

3-Aşağıdaki cümlelerin hangisinde abartılı bir ifade vardır?

- A) Kardeşimle iyi anlaşıyoruz.  
B) Tiyatro oyununu izlerken gülmekten öldük  
C)Matematik sınavından önce çok heyecanlandım.

4-Aşağıdakilerden hangisi istek cümlesidir?

- A) Birazdan babam gelecek B) Pazara seninle gitsem C) Ayşe güzel kitap okuyor

5-“Kardeşime bir kitap hediye ettim.” Cümlesi ile ilgili aşağıdaki sorulardan hangisini soramayız?

- A) Kime? B) Ne ? C) Niçin?

6-Aşağıdaki cümlelerin hangisinde karşılaştırma yapılmıştır?

- A) Kardeşim her gün spor yapıyor.  
B) B) Senin elbisenin ayısından ben de alacağım.  
C)Sağlıklı yaşamak için dengeli beslenmeliyiz.

7-“Emre bu sabah okula geç kaldı.” Cümlesinin başına hangi kelime grubu getirilirse cümlenin sebebi belirtilmiş olur?

- A) Hava soğuktan ama B) Kapının zili çalmış ki C) Evden zamanında çıkamadığı için

8-Aşağıdaki cümlelerin hangisinde pişmanlık bildiren bir ifade vardır?

- A) Ödevimi yapmadığım için öğretmenim çok kızdı. B) Dayımların gelmesine çok sevindim.  
C)Derslerime daha çok çalışsaydım, daha başarılı olabilirdim.

9-Aşağıdaki kelime dizilerinden hangisiyle cümle oluşturulabilir?

- A) Gideriz-ne-oraya-kadar-zamanda B) sandalyeye-kullandığı-kadar C) çocuklar-ilk-bahçe-sonra

- I.Kışlık elbisesini dolaptan çıkardı.  
II. Yolcular otobüsten aşağıya indiler  
III.Manavdan mandalina ve muz aldım.

10-  
Yandaki cümlelerin hangisi daha çok kelimedenden oluşmuştur?

- A) I B) II C) III

11-Aşağıdakilerden hangisi soru cümlesidir?

- A)Neden kızdığını anlayamadım B)Aldığım çantayı beğenmedin mi  
C)Çalışkan mı çalışkan bir öğrenciydi

12-“Otobüsü kaçırdığım için.....geldim.” cümlesini anlamlı tamamlayan kelime aşağıdakilerden hangisidir?

- A) Evden B) erkenden C) geç

13- “gül” kelimesi hangi cümlede farklı anlamda kullanılmıştır?

- A) Ayşe’ye bir demet gül aldım. B)Ali bugün çok güldü. C) Bahçede güller açtı.

14-“darılma – kuvvetli – gücenme – güçlü - dilek” kelimelerini eş anlamlılar olarak eşleştirirsek, hangi kelime tek kalır?

- A) Gücenme B) dilek C) darılma

15-“Arkadaşım doğum günümde bana hediye olarak çanta almış.” Cümlesindeki altı çizili sözcüğün eş anlamlısı olan kelime hangi cümlede vardır?

- A) Yüksek not alınca annem beni ödüllendirdi.  
B) B) En değerli arkadaş kitaptır.  
C) Aldığım armağan beni çok sevindirdi.

16-“*Ocaktaki yemek dökülmüş.*” Cümlesindeki “ocak” kelimesi aşağıdakilerden hangisinde bu cümledeki anlamıyla kullanılmıştır?

- A. Ocak ayında İzmir’e gelecek B) Ali Ocak’ta doğdu. C) Ocakta çay var.

17-“*Gemi ile İzmir’den İstanbul’a altı saatte gittik.*” Cümlesinde hangi kelimenin tek başına anlamı yoktur?




- A) ile B) saatte C) altı

19-“Hayvanat bahçesine bir gezi düzenledik” yandaki cümle kaç heceden oluşmaktadır?

- A) 11 B) 12 C) 14

20-Aşağıdaki kelimelerden hangisi hecelerine doğru ayrılmıştır?

- A) Ku-lakl-ı B) tuv-a-let C) öz-le-dim

21- kaydırac →  kalorifer →  yukarıdaki → 

Verilen sözcüklerin hece sayılarıyla şekiller arasında bir bağlantı vardır. Aynı ilişki aşağıdaki hangi sözcük-şekil eşleştirmesinde bulunmaktadır?

- A) merdiven →  B) ayva →  C) şekerli → 

22- Aşağıdaki kelimelerden hangisi, ince sesli harflerden oluşmuştur?

- A) Doktor B) Sobacı C) Şekerlik

23- Aşağıdaki cümlelerden hangisinin sonuna yanlış noktalama işareti konmuştur?

- A) Büyüklerimize karşı saygılı olmalıyız. B) Akşamları geç mi yatıyorsun!  
C) Tüh, yine cüzdanımı düşürmüştüm!

24- I. Akşama kadar aç gezdim. II. Kapıyı aç, ben geldim.

Numaralı cümlelerde yer alan altı çizili sözcükler arasındaki anlam ilişkisine ne ad verilir?

- A) Eş anlamlılık B) Zıt anlamlılık C) Eş seslilik

25- Aşağıdaki cümlelerde, altı çizili kelimelerin hangisinden sonra kesme işareti konmaz?

- A) Atatürk Selanik’te doğdu. B) Cumhuriyet 1923’te ilan edildi. C) Sel duvar’ı yıktı.

26- Aşağıdaki cümlelerden hangisinin sonuna nokta konmalıdır?

- A) Futboldan çok hoşlanıyorum B) Kaç kilo elma alacaksınız C) Of, az daha çarpışıyorduk

27- “Otobüslerde dolmuşlarda adım atacak yer yoktu.” Cümlesinde, hangi kelimedenden sonra virgül konmalıdır?

- A) Yer B) Adım C) Otobüslerde

28- Aşağıdaki cümlelerin hangisinde eş anlamlı kelimeler birlikte kullanılmıştır?

- A) Büyük küçük herkes çok eğlendi.  
B) Anılarımı hatıra defterime yazdım.  
C) Çok bağırdı ama sesini duyuramadı.

29- "Babam, dalgın dalgın evin içinde dolaşüyor." cümlesinde iş bildiren sözcük hangisidir?

- A) dalgın B) dolaşıyor C) içinde

30- Hangi seçenekteki kelimelerle anlamlı bir cümle yapılamaz?

- A) önünde-ev-in-durdu-otobüs B) kitap-yeni-aldığım-çok C) günleri - özledik – güneşli

## BÖLME PROBLEMLERİ

1) Ahmet Bey, 78 kilogram elmayı 3 kilogramlık poşetlere koyduğunda kaç tane poşet kullanmış olur?

- A) 26                      B) 27                      C) 28

2) 130 sayfalık kitabın 66 sayfasını okuyan Özlem, kalan sayfaları 4 günde eşit sayıda sayfa okuyarak bitirmeyi planlıyor. Buna göre Özlem günlük kaç sayfa kitap okumalıdır?

- A) 15                      B) 16                      C) 17

3) Okulumuza 7 kutu tebeşir aldık. Her kutuda 15 tebeşir vardı. Bu tebeşirleri 5 sınıfa eşit olarak paylaştırdık. Bir sınıfa kaç tebeşir verdik?

- A) 23                      B) 22                      C) 21

4) 3/A sınıfındaki öğrenciler 15 sıraya üçerli oturduklarında ayakta kimse kalmıyor. Bu sıralara ikişerli oturduklarında kaç kişi ayakta kalır?

- A) 15                      B) 14                      C) 13

5) Babası Buğra'ya 140 TL haftalık harçlık veriyor. Buğra her gün eşit miktarda para harcıyor. Buna göre Buğra bir günde kaç TL harcar?

- A) 20                      B) 25                      C) 30

6) İkiz kardeşlerin iki yıl önceki yaşları toplamı 36 idi. Kardeşlerden birinin şimdiki yaşı kaçtır?

- A) 20                      B) 22                      C) 24

7) Veli amca, kümeden dün 42, bugün 30 yumurta alıyor. Bunları dört koliye eşit şekilde yerleştiriyor. Her kolideki yumurta sayısı kaçtır?

- A) 16                      B) 17                      C) 18

8) Ceren ve Ela kardeşlerin her birisinin 39 TL'si vardır. Diğer kardeşleri Semih'in ise hiç parası yoktur. Ceren ve Ela anlaşarak tüm paralarını üç kardeşe eşit şekilde paylaşmaya karar verirler. Buna göre Semih'in kaç lirası olur?

- A) 26                      B) 27                      C) 28

9) 45 portakaldan 5 bardak portakal suyu elde ediliyor. 3 bardak portakal suyu için kaç portakal gereklidir?

- A) 24                      B) 27                      C) 30

10) Bir köylü pazara götürdüğü 54 kilogram narı, 6 sepete eşit olarak koydu. Sepetlerin tanesini 36 TL'ye sattı. Köylü bir kilogram narı kaç TL'ye satmıştır?

- A) 6                      B) 5                      C) 4

11) Ninem, 5 düzine kalemi 3 torununa eşit olarak paylaştırdı. Her birimize kaç kalem verdi?

- A) 18                      B) 19                      C) 20

12) Zeynep Hanım, 145 TL'ye aldığı montun 49 TL'sini peşin ödüyor. Geri kalanını 4 eşit taksitte ödeyecektir. Buna göre her bir taksit kaç TL'dir?

- A) 24                      B) 26                      C) 28

13) Osman, 97 cevizi kendisi ile birlikte dört arkadaşına eşit olarak paylaşıyor. Kalanları da kendisi aldığına göre Osman'ın kaç cevizi olur?

- A) 20                      B) 21                      C) 22

14) Canan, günde 6 sayfa okuyarak 2 haftada kitabını bitirdiğine göre, günde dört sayfa okuyarak kitabını kaç günde bitirir?

- A) 19                      B) 20                      C) 21

15) Babam 40 TL'lik gömlekten 3 tane aldı. Babam parasıyla gömlek yerine pantolon alsaydı, iki tane pantolon alabilecekti. Buna göre bir pantolonun fiyatı kaç TL'dir?

- A) 60                      B) 55                      C) 50

16) Bir çiftlik ineklerin ayak sayıları toplamı 48, tavukların ayak sayıları toplamı 32'dir. Buna göre çiftlikte kaç tane inek ve tavuk vardır?

- A) 26                      B) 28                      C) 24