

CÜMLEDE “DE” NİN YAZIMI

Aşağıdaki tabloda yer alan tümcelerde bulunan “de” lerin bitişik mi yoksa ayrı mı olduklarını örnekteki gibi işaretleyiniz.

| CÜMLE | Bitişik Yazılır | Ayrı Yazılır |
|--|-----------------|--------------|
| Bahçe de çok sayıda ağaç var. | X | |
| Annem de babam da bu duruma üzüldü. | | |
| Benim de duygularım var. | | |
| Dolapta sebze de meyve de var. | | |
| Aile içinde benimde sorumluluklarım var. | | |
| Oda her şeyin farkında gibi. | | |
| Ev de televizyon izliyorum. | | |
| Çok okuyalımda başarılı olalım. | | |
| Bunu sen de yapabilirsin. | | |
| Yağmur yağıyor, şemsiyenide al. | | |
| Senin de hatalarını görseler keşke. | | |
| İyi söylüyorsunda buna kim inanır? | | |
| Parka gidelim de oyun oynayalım. | | |
| Ben de yeni kitapları da var. | | |
| Oradanda bize katılanlar oldu. | | |
| Çantamın evde kalmış olmasına üzüldüm. | | |
| Orman da ağaçlar kurumaya başlamış. | | |

TARTMA

Ağırlıkları ölçmek için **kilogram** kullanırız. 1 kilogram kısaca **1 kg** şeklinde gösterilir

Ağırlığı 1 kg'dan küçük olan nesnelere ise **gram** ile ölçeriz.
1 kg = 1000 g



1 kg



1 g



BASKÜL



EŞİT KOLLU
TERAZİ



KEFELİ



KANTAR



ELEKTRONİK
TERAZİ

Aşağıda verilen varlıkların yanlarına hangi ağırlık birimi ile tartılabileceklerini yazın. (kg, g)

.....kg... elma

..... patates

.....kalem

..... toplu iğne

..... şeker

.....karpuz

..... televizyon

..... silgi





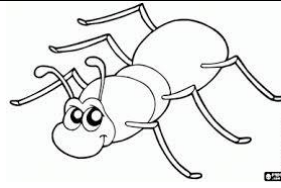
..... toka

..... defter

..... futbol topu

..... açacak

Aşağıdaki hayvanlardan sadece gram ile ölçülebilenleri işaretleyiniz.



Aşağıdaki cümlelerdeki boşlukları uygun cümlelerle tamamlayınız.

| | | | |
|--------|----------|--------|------|
| baskül | kilogram | terazi | gram |
|--------|----------|--------|------|

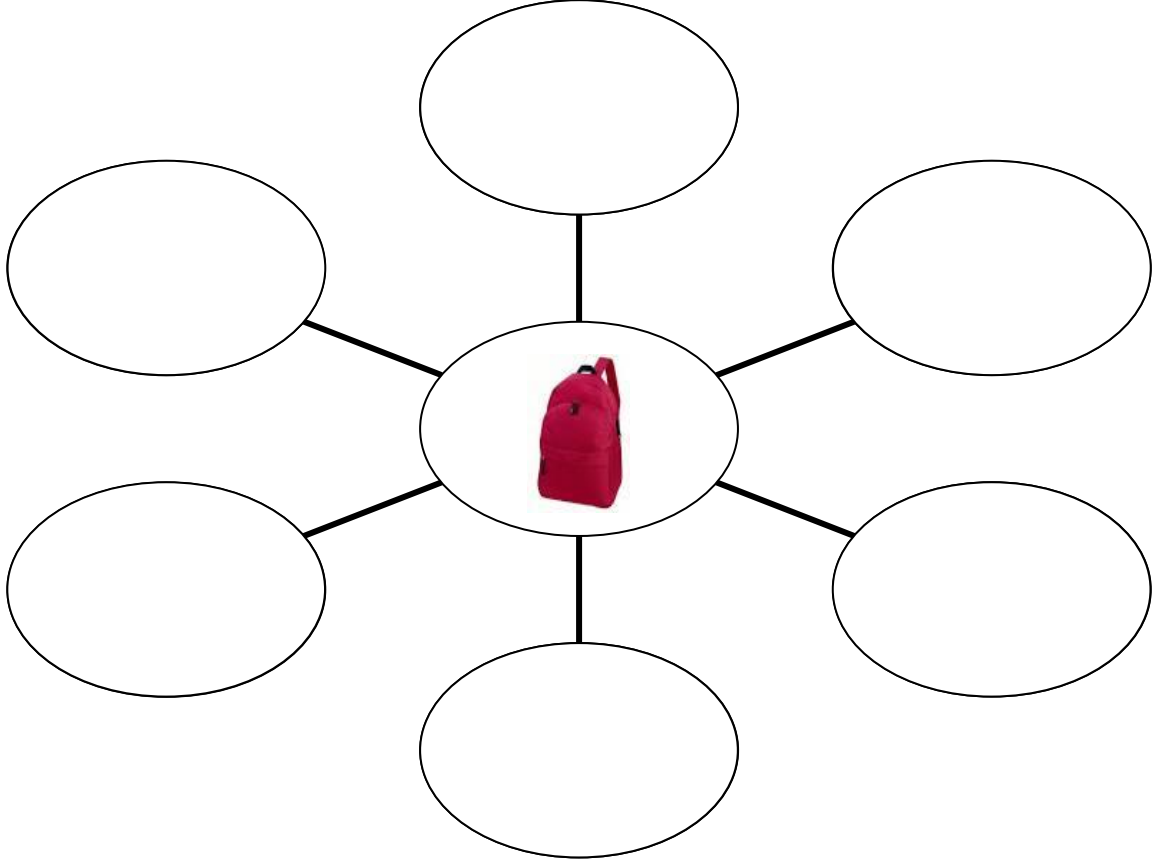
1-Kalemimin ağırlığınıolarak söyledim.

2-Kendi ağırlığımıile ölçerim.

3-Manav elmayı ile tarttı.

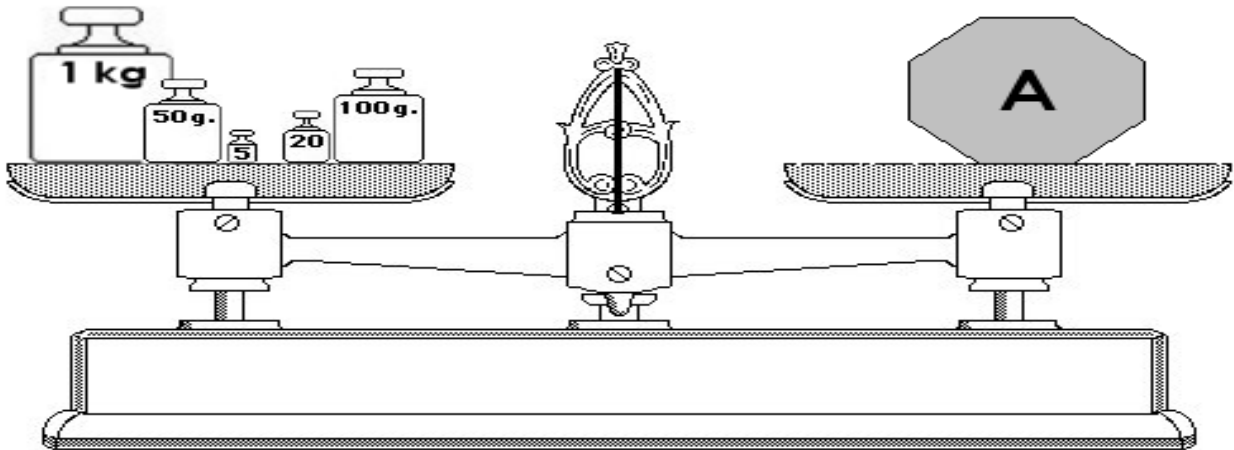
4-Ağırlık ölçüsü birimidır.

Aşağıdaki okul çantasında bulunabilecek eşyaların hangileri gram ile ölçülebilir. Adlarını boş dairelere yazınız.



Evinizde bulunan eşyalardan kg ile ölçülebilecek olanların isimlerini aşağıya listeleyiniz.

- 1-..... 4-..... 7-..... 10-.....
2-..... 5-..... 8-..... 11-.....
3-..... 6-..... 9-..... 12-.....



A = kg g