




TÜRKÇE DERSİ SORULARI


1. "roman." sözcüğünün harflerini kullanarak hangi sözcük yazılamaz?
A) mor B) orman C) moral
2. Aşağıdaki cümlelerin hangisinde yanlış yazılmış bir sözcük vardır?
A) Dün akşam samsun'a gittik. B) Bu hafta hava nasıl olacak?
C) Kerem dur, yoksa ezileceksin!
3. 😊 tutalım ♥ sınıfımızı ☀ temiz
Numaralanmış sözcüklerle anlamlı ve kurallı bir cümle oluşturduğumuzda doğru sıralama nasıl olur?
A) ☀ ♥ 😊 B) ♥ ☀ 😊 C) ♥ 😊 ☀
4. Aşağıdaki kelime dizilerinden hangisi cümle değildir?
A) Yarın gölde olta B) Kimi bekliyorsun C) Bu film güzel değildi
5. Dört heceden oluşan kelimeyi işaretleyiniz?
A) korkuluk B) Keloğlan C) ailemiz
6. "tembel." kelimesinin zıt anlamlısı hangi cümlede kullanılmıştır?
A) Serdar, yazılarını yavaş yazıyormuş. B) Bu kamyon çok hızlıymış.
C) Nurcan, sınıfın çalışkan öğrencilerindedir.
7. Hangi kelimenin ilk harfi her zaman büyük yazılır?
A) Ferhat B) Kuzu C) Okul
8. "anneciğim." kelimesindeki ünlü (sesli) harfler hangileridir?
A) n - n - c - ğ - m B) a - e - n C) a - e - i - i
9. "kafa." kelimesinin eş anlamlısı hangisidir?
A) surat B) baş C) vücut


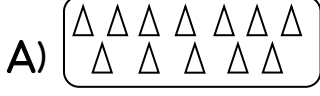
MATEMATİK DERSİ SORULARI

12. "1 onluk ve 7 birlik." ten oluşan sayı hangisidir?
A) sekiz B) on bir C) on yedi
13. Beşer beşer ileri doğru sayarken 60'tan önce hangi sayıyı söyleriz?
A) 58 B) 56 C) 55
14. En ağır olan hayvanı işaretleyiniz?
A)  B)  C) 
15. Merve şimdi 14 yaşındadır. Merve, 3 yıl önce kaç yaşındaydı?
A) 17 B) 11 C) 10
16. "8 + 2 + 6 = 10." ifadesinin doğru olması için hangi sayı silinmelidir?
A) 8 B) 2 C) 6

17. Bugün Salı. 3 gün sonra teyzeme gideceğiz. Hangi gün teyzeme gideceğiz?

- A) Cuma B) Perşembe C) Çarşamba

18.  Yandaki nesnelerin sayısı aşağıdaki gruplardan hangisine eşittir?



19. Aşağıdaki işlemlerden hangisinin sonucu 12'ye eşit değildir?

- A) $10 + 2 =$ B) $7 + 4 =$ C) $13 - 1 =$

20. 3 elmayı ortadan kesiyoruz. Kaç tane yarım elma olur?

- A) 5 B) 6 C) 7

21. 4 tavuğun toplam kaç bacağı vardır?

- A) 16 B) 18 C) 8

HAYAT BİLGİSİ DERSİ SORULARI

22. Leyla, birinci sınıfa giden bir öğrencidir. Leyla, aşağıdakilerden hangisini tek başına yapamaz?

A) Yemeğini kendisi yiyebilir. B) Leyla, yemek pişirebilir. C) Leyla, önlüğünü kendi giyebilir.

23. İstemeyerek, bilmeden yaptığımız yanlışlığa ne denir?

- A) hata B) hoşgörü C) tartışma

24. İstiklal Marşı'nı kim yazmıştır?

- A) Atatürk B) Mehmet Akif Ersoy C) İsmet İnönü

25. Aşağıdaki tanımlarda belirtilen kişilerden hangisinin arkadaşınız olmasını istemezsiniz?

- A) Çiçekleri ve hayvanları seven, koruyan bir kişi.
B) Oyunlarda kavga çıkaran, sorun yaratan bir kişi.
C) Çevresini temiz tutan, yerlere çöp atmayan bir kişi.

26. Dengeli ve sağlıklı beslenmek için neler yapmalıyız?

- A) Düzenli beslenmeliyiz. B) Cips, kola gibi yiyecekler yemeliyiz.
C) Sevmediğimiz yiyecekleri yememeli.

27. Atatürk'e, Kemal adını kim vermiştir?

- A) babası B) matematik öğretmeni C) dayısı

28. Aşağıdakilerden hangisi doğrudur?

- A) Milli bayramlar, milli duygularımızın gelişmesini sağlar.
B) Milli bayramlar, insanları üzer. C) Milli bayramlar, insanları yorar.

29. Spor yapmak bize ne kazandırır?

- A) Terleyip hastalanmamıza neden olur. B) Sağlıklı olmamızı sağlar.
C) Zamanımızı boşa harcamamızı sağlar.

ÖRÜNTÜLER


1. Boşluklara gelmesi gereken şekilleri çiziniz.




2. Boş bırakılan yerde hangi şekil olmalıdır? Çiziniz.



3. Boş bırakılan yerde hangi şekil olmalıdır? Ok işareti ile yerleştiriniz.



3. Boş bırakılan yerde hangi şekil olmalıdır? Ok işareti ile yerleştiriniz.



4. Boş bırakılan yerde hangi şekil olmalıdır? Ok işareti ile yerleştiriniz.



5. Boş bırakılan yerlere uygun harfleri çiziniz.



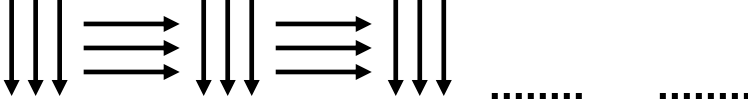
6. Boş bırakılan yerlere uygun şekilleri çiziniz.



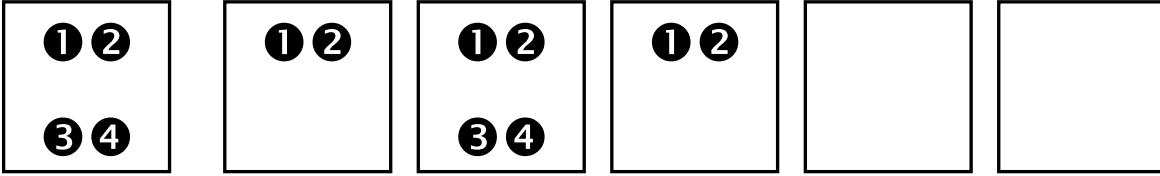
7. Boş bırakılan yere hangi şekil gelmelidir? İşaretleyiniz.



8. Boş bırakılan yerleri tamamlayınız.




9. Boş bırakılan kutuları tamamlayınız.



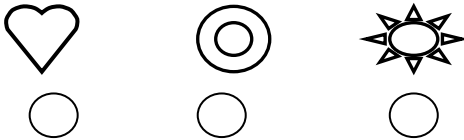
10. Boşluklara gelmesi gereken şekilleri çiziniz.



11. Boşluklara gelmesi gereken şekilleri çiziniz.



12. Boş bırakılan yere hangi şekil gelmelidir?



13. Boş bırakılan yere hangi şekil gelmelidir?

