

## ZİHİNDEN ÇIKARMA İŞLEMLERİ

Aşağıdaki çıkarma işlemlerini zihinden yapınız.

$62 - 20 = \dots\dots$

$100 - 10 = \dots\dots$

$74 - 50 = \dots\dots$

$65 - 30 = \dots\dots$

$400 - 40 = \dots\dots$

$600 - 50 = \dots\dots$

$56 - 20 = \dots\dots$

$83 - 60 = \dots\dots$

$500 - 70 = \dots\dots$

$100 - 30 = \dots\dots$

$48 - 20 = \dots\dots$

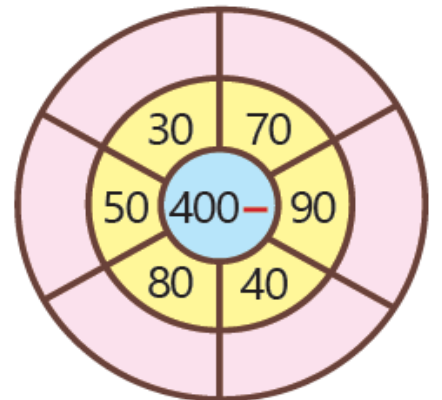
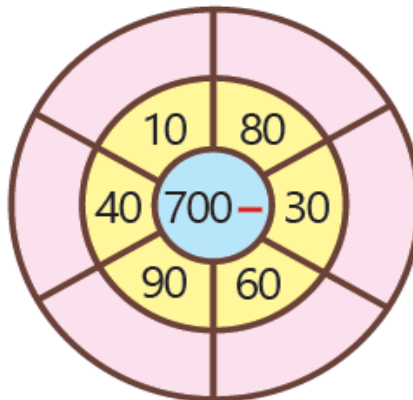
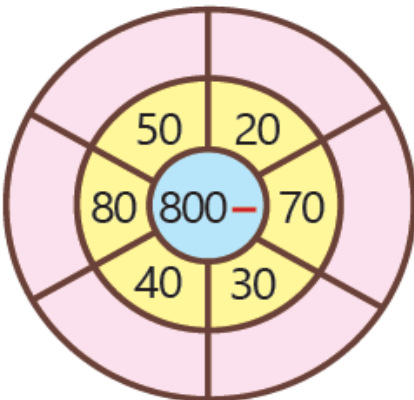
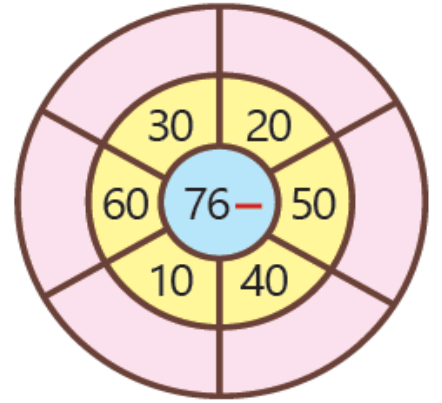
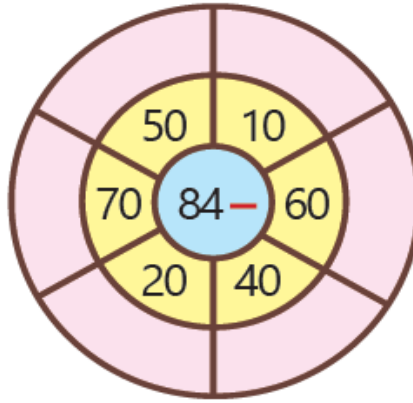
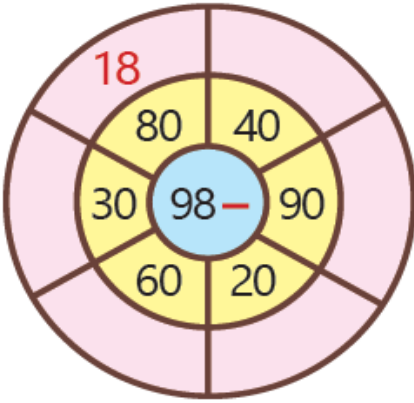
$600 - 80 = \dots\dots$

$300 - 40 =$

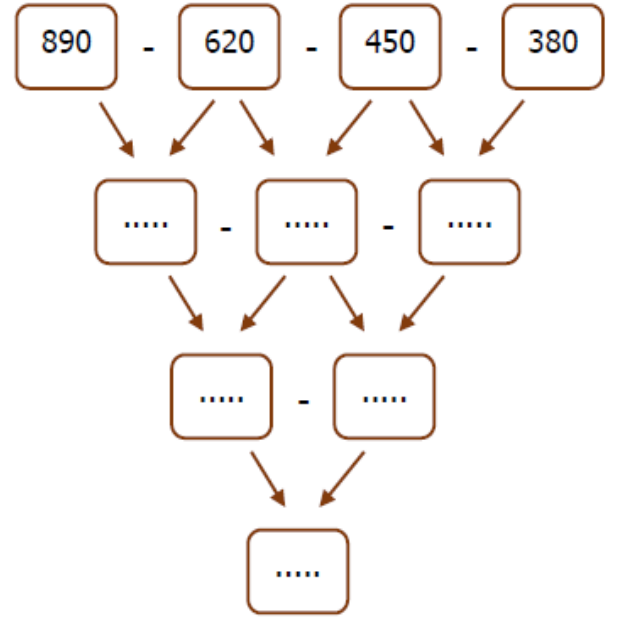
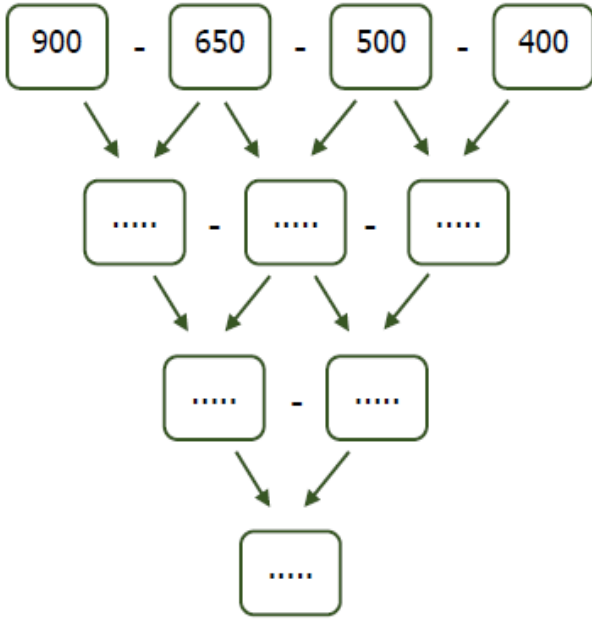
$98 - 50 = \dots\dots$

$23 - 10 = \dots\dots$

Aşağıdaki işlem çarklarında verilen çıkarma işlemlerini zihinden yapınız. İşlem sonuçlarını örnekteki gibi pembe alana yazınız.



Aşağıdaki çıkarma işlemlerini zihinden yapalım.



Aşağıdaki çıkarma işlemlerini zihinden yaparak tabloyu doldurunuz.

-

45	38	
34	25	

-

38	27	
26	19	

-

44	30	
35	23	

-

50	25	
30	15	

-

48	32	
41	26	

-

33	24	
28	12	

-

49	36	
38	24	

-

40	33	
26	18	

-

42	34	
27	24	

## DUYU ORGANLARIMIZ DEĞERLENDİRME

A-Aşağıdaki cümlelerde boş bırakılan yerleri verilen sözcüklerden uygun olanı ile tamamlayınız.

Derimiz	Gözlerimiz	Kulaklarımız	Beş	Burnumuz	Dilimiz
---------	------------	--------------	-----	----------	---------

1. Denizin mavi renkte olduğunu ..... ile görürüz.
2. Çevremizdeki sesleri ..... sayesinde duyarız.
3. İçtiğimiz meyve suyunun tadını ..... ile anlarız.
4. İç organlarımızı, vücudumuzu saran ..... korur.
5. Vücudumuzda ..... tane duyu organımız vardır.

B – Aşağıda verilen cümlelerin başına doğru ise “D”, yanlış ise “Y” harfi yazınız.

1. ( ..... ) Çevremizdeki varlıkların sesini gözlerimiz kapalı olsa da duyarız.
2. ( ..... ) Burnumuzla sadece güzel kokuları alırız.
3. ( ..... ) Masanın yüzeyinin pürüzlülüğünü elimizle dokunarak anlayabiliriz.
4. ( ..... ) Duyu organlarımız aynı anda çalışabilir.
5. ( ..... ) Gözümüzün sağlığı bozulduğunda iyi işitemeyiz.
6. ( ..... ) Tat alma duyumuzun sağlıklı olması için dişlerimiz fırçalamalıyız.
7. ( ..... ) Sık sık banyo yapmak derimiz için zararlıdır.
8. ( ..... ) Aşırı gürültülü ortamlarda bulunmak kulak sağlığımız için zararlıdır.
9. ( ..... ) Burun, nefes ve koku almamızı sağlayan bir organdır.
10. ( ..... ) Ne olduğunu bilmediğimiz maddeleri koklamak tehlikeli olabilir.
11. ( ..... ) İşitmemizi sağlayan duyu organımız kulaklarımızdır.
12. ( ..... ) Aşırı sıcak ya da aşırı soğuk besinleri tüketmek dilimizi korur.

### Açıklamalar ile organları eşleştiriniz.

- |                                                                 |          |
|-----------------------------------------------------------------|----------|
| ( ... ) Yiyeceklerin tadını almamızı sağlar.                    | a- Burun |
| ( ... ) Varlıkların ve nesnelerin kokusunu algılamamızı sağlar. | b- Göz   |
| ( ... ) Tüm vücudu kaplar.                                      | c- Kulak |
| ( ... ) Varlıkları görmemizi sağlar.                            | d- Deri  |
| ( ... ) İşitme duyu organımızdır.                               | e- Dil   |

D)Cümlelerde yararlanılan duyu organlarını “X” ile işaretleyin.

CÜMLELER	DUYU ORGANLARIMIZ				
	Göz	Burun	Dil	Kulak	Deri
Mis gibi börek kokusu aldım.					
İçerden müzik sesi geliyor.					
Yemek çok lezzetli olmuş.					
Anneme sımsıkı sarıldım.					
Bahçede kedi gördüm.					

Aşağıdaki soruların doğru cevaplarını işaretleyiniz.

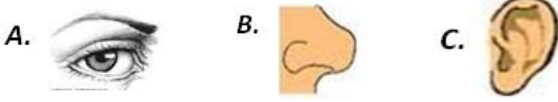
1. Aşağıdakilerden hangisi duyu organımızdan biri değildir?



2. Yediğimiz bir yemeğin tuzlu olup olmadığını hangi duyu organımızla anlarız?

- A. Deri B. Göz C. Dil

3. Başımızda bulunur. İki tanedir. Çevremizdeki sesleri duymamızı sağlar. Yukarıda özellikleri verilen duyu organımız aşağıdakilerden hangisidir?



4. Aşağıdakilerden hangisi yanlıştır?

- A. Çorba içtiğimizde çorbanın tuzsuz olduğunu midemiz sayesinde anlarız.  
B. Çevremizdeki çiçeklerin renklerini gözlerimizle ayırt ederiz.  
C. Derste öğretmenimizin anlattıklarını kulaklarımız sayesinde duyarız.

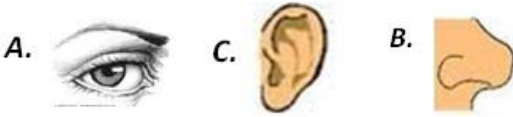
5. Duyu organlarımızla ilgili aşağıda verilenlerden hangisi yanlıştır?

- A. Beş tane duyu organımız vardır.  
B. Duyu organlarımız hayatımızı kolaylaştırır.  
C. Duyu organlarımızdan biri çalışırken diğerleri çalışmaz.

6. Deri ile ilgili aşağıda verilen bilgilerden hangisi yanlıştır?

- A. Vücudumuzu sarar ve iç organlarımızı dış etkilerden korur.  
B. Dokunma duyu organımızdır.  
C. Cisimlerin tadını derimizle anlarız.

7. Televizyonda film izleyen Ayça hangi duyu organını kullanmaz?



8. Aşağıdakilerden hangisi derinin görevlerinden biri değildir?

- A. Dokunma hissini sağlama.  
B. Terleme ile zararlı maddeleri vücuttan uzaklaştırma.  
C. Besinlerin acı ve tatlı oluşlarını anlama.

9) Kulak sağlığını korumak için aşağıdakilerden hangisini yapmak yanlış olur?

- A) Sivri uçlu cisimlerle kulaklarımızı temizlememiz  
B) Kulaklarımızı soğuktan korumamız  
C) Kulaklarımızı şiddetli darbelerden korumamız



- Anne çayın rengi ve tadı harika. Mis gibi tomurcuk da kokuyor. Elindeki kurabiyelerden bir tane alayım.

- Afiyet olsun. Beğendiğine sevindim.

10) Yukarıdaki konuşmada Merve annesine yaptıklarını beğendiğini ifade ederken hangi duyu organlarını kullanmıştır?

- A) Dil, göz, kulak. B) Göz, dil, burun. C) Deri, göz, dil.

11) Göz sağlığımız için hangisini yapmamalıyız?

- A- Televizyonu uzun süre ve yakından izlemeliyiz  
B- Başkalarına ait havlu ve gözlükleri kullanmamalıyız.  
C- Gözlerimizi aşırı ışıktan korumalıyız.

12) Can göz doktoruna gittiğinde şekilleri iyi göremedi. Bu nedenle doktor ona gözlük kullanması gerektiğini söyledi.

Buna göre Can'ın göz sağlığını kaybetmesinin nedeni hangisi olabilir?

- A. Kitap okurken 30 cm'lik uzaklığa dikkat etmiştir.  
B. Televizyon ve bilgisayar ekranına uzun süre yakından bakmıştır.  
C. A vitamini içeren havuç gibi besinleri bol miktarda yemiştir.