

## SÜTUN GRAFIĞİ

4/B Sınıfının öğretmeni öğrencilerinin elma, portakal, muz ve çilek türü meyvelerden hangilerini sevdikleri konusunda bir araştırma yaptı. Buna göre, bu sınıfta elma seven 8, portakal seven 10, muz seven 4 ve çilek seven 6 öğrenci vardır.

Bu bilgileri aşağıdaki tablolarda ve sütun grafiğinde göstererek uygun soruları sorunuz.

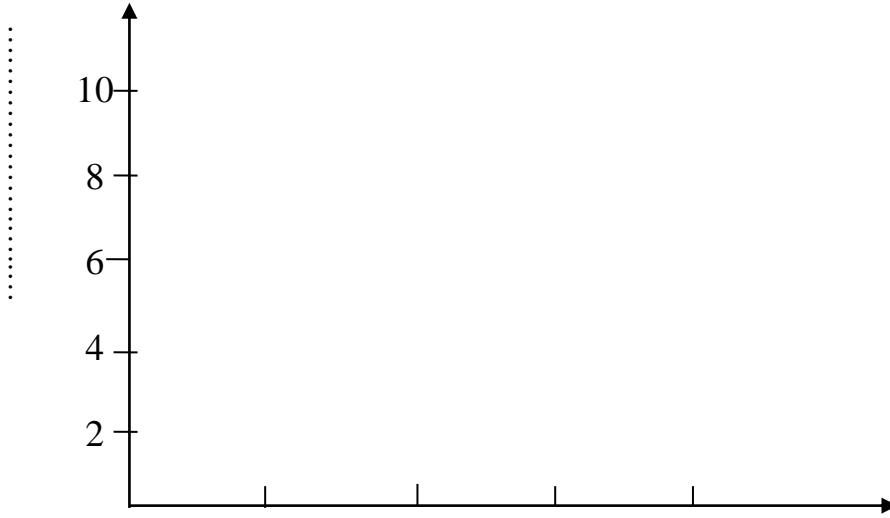
Meyve Sevenlerin Çetele Tablosu

Sevilen Meyveler	Meyve Sayısı
Elma	
Portakal	
Muz	
çilek	

Meyve sevenlerin Sıklık Tablosu

Sevilen Meyveler	Meyve Sayısı
Elma	
Portakal	
Muz	
çilek	

### Sevilen Meyveler Grafiği

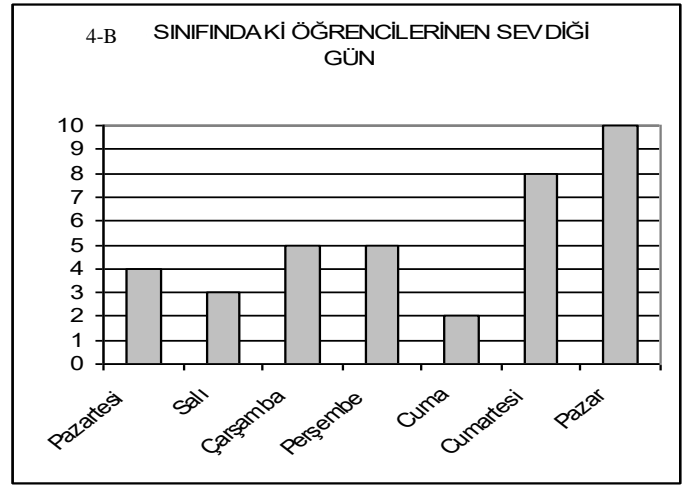


1. ....  
.....
2. ....  
.....
3. ....  
.....
4. ....  
.....

### SÜTUN GRAFİĞİ TEST

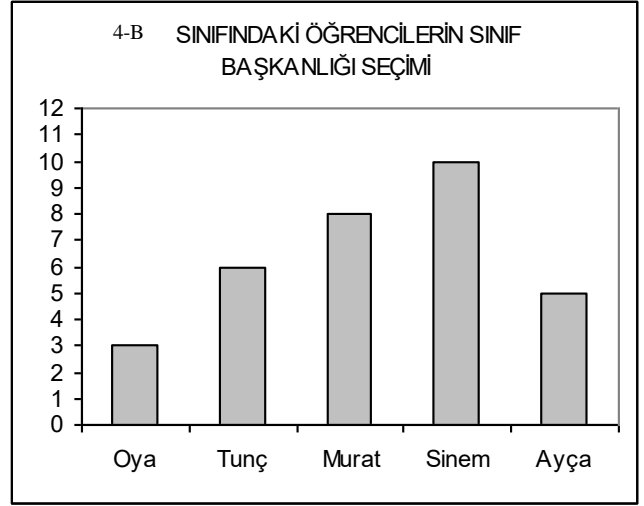
Aşağıdaki soruları yandaki sütun grafiğine göre cevaplayınız.

1. En çok sevilen gün hangisidir?  
A. perşembe B. Cuma C. pazar D. salı
2. En az sevilen gün hangisidir?  
A. pazartesi B. Çarşamba C. cumartesi D. cuma
3. Hangi günleri seven öğrenci sayısı eşittir?  
A. çarşamba – perşembe B. salı - cuma  
C. cumartesi – pazar D. salı - pazar
4. Kaç öğrencinin en sevdiği gün pazartesidir?  
A. 7 B. 6 C. 5 D. 4
5. Kaç öğrencinin en sevdiği gün çarşambadır?  
A. 4 B. 5 C. 6 D. 7
6. Pazar gününü seven öğrenci sayısı, cumartesi gününü seven öğrenci sayısından kaç fazladır?  
A. 1 B. 2 C. 3 D. 4
7. Tatil günlerini seven öğrenci sayısı kaçtır?  
A. 15 B. 17 C. 16 D. 18
8. 4-B sınıfında kaç öğrenci vardır?  
A.31 B. 34 C.37 D. 39



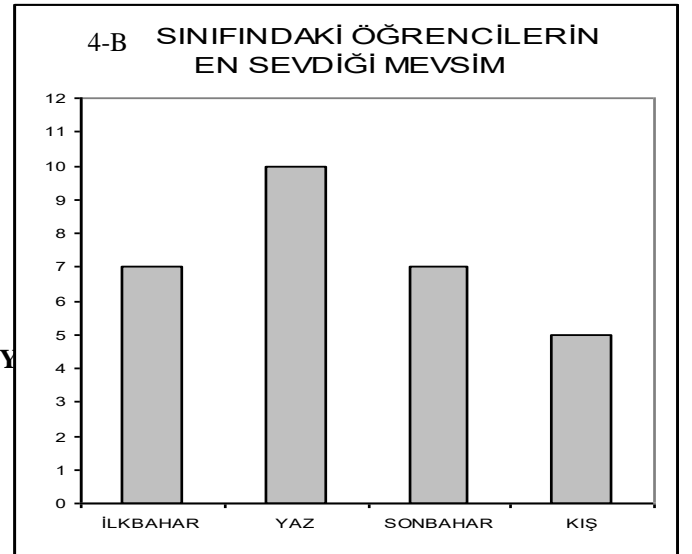
Aşağıdaki soruları yandaki sütun grafiğine göre cevaplayınız.

1. En çok oyu kim almıştır?  
A. Sinem B. Oya C. Ayça D. Murat
2. En az oyu kim almıştır?  
A. Murat B. Tunç C. Ayça D. Oya
3. Murat Tunç'tan kaç oy fazla almıştır?  
A. 1 B. 2 C. 3 D. 4
4. Ayça Sinem'den kaç oy az almıştır?  
A. 2 B. 3 C. 4 D. 5
5. Sınıf başkanlığı için kaç öğrenci aday olmuştur?  
A. 5 B. 6 C. 7 D. 8
6. Adaylardan hangisi 6 oy almıştır?  
A. Tunç B. Murat C. Ayça D. Sinem
7. Adaylardan kaç 5 ten fazla oy almıştır?  
A. 5 B. 4 C. 3 D. 2
8. En az oyu alan öğrenci ile en fazla oyu alan öğrenci arasında kaç oy fark vardır?  
A. 5 B. 6 C. 7 D. 8
9. 4-A sınıfında kaç öğrenci vardır?  
A. 30 B.32 C. 34 D. 36



Aşağıdaki soruları yandaki sütun grafiğine göre cevaplayınız.

1. Grafiğin adı nedir?  
A. Mevsimler B. En sevilen mevsimler  
C. 4-B sınıfındaki öğrencilerin en sevdiği mevsim D. En sevdiğimiz mevsim
2. En çok sevilen mevsim hangisidir?  
A. Sonbahar B. Kış C. İlkbahar D. Y
3. En az sevilen mevsim hangisidir?  
A. yaz B. Kış C. İlkbahar D. sonbahar
4. Kaç kişinin en sevdiği mevsim sonbahardır?  
A. 10 B. 9 C. 8 D. 7
5. Hangi mevsimleri eşit sayıda öğrenci sevmektedir?  
A. İlkbahar- Sonbahar B. Yaz – Kış C. İlkbahar – Yaz
6. Kaç kişinin en sevdiği mevsim yazdır?  
A. 6 B. 8 C. 10
7. Kış mevsimini sevenlerin sayısı, Yaz mevsimini sevenlerden kaç kişi azdır?  
A. 3 B. 4 C. 5 D. 6























D. Sonbahar – Kış

## İHTİYAÇLARIMIZ VE İSTEKLERİMİZ

İhtiyaç insan yaşamı için gerekli olan ve yokluğunda sıkıntı çekilen koşul ya da maddelerdir. İstek ise belirli bir ihtiyacı karşılayacağı düşünülen nesne ve duruma karşı duyulan arzudur.

Aşağıdaki tabloda verilen resimlerden hangileri ihtiyaç hangileri istektir. Uygun buluta numaralarını yazınız.

1 	2 	3 	4 	5 	6 
7 	8 	9 	10 	11 	12 
13 	14 	15 	16 	17 	18 
19 	20 	21 	22 	23 	24 
25 	26 	27 	28 	29 	30 

İHTİYAÇ

İSTEK

B) Aşağıdaki ihtiyaçlardan sosyal ihtiyaç olanlara "S", temel ihtiyaç olanlara "T" yazınız.

<input type="checkbox"/> Yeni bir kazak almak
<input type="checkbox"/> Kahvaltıda süt içmek
<input type="checkbox"/> Parkta oyun oynamak
<input type="checkbox"/> Marketten ekmek almak
<input type="checkbox"/> Günde üç öğün yemek

<input type="checkbox"/> Ailece pikniğe gitmek
<input type="checkbox"/> Okula gitmek
<input type="checkbox"/> Hava durumuna göre giyinmek
<input type="checkbox"/> Şarkı dinlemek
<input type="checkbox"/> Ev sahibi olmak

C) Ben önce temel ihtiyaçlarımı, sonra zorunlu ihtiyaçlarımı, daha sonra sosyal ihtiyaçlarımı ve son olarak da kültürel ihtiyaçlarımı karşılarım.

Kerem'in açıklamasına göre aşağıdaki listede yer alanları öncelik sırasına göre numaralandırınız.

<input type="radio"/> Arkadaşımla oyun oynamak
<input type="radio"/> Kahvaltı yapmak
<input type="radio"/> Ödevlerimi yapmak

<input type="radio"/> Bir evde yaşamak
<input type="radio"/> İzmir'e tatile gitmek
<input type="radio"/> Arkadaşımla pastaneye gitmek

<input type="radio"/> Bilgisayarda araştırma yapmak
<input type="radio"/> Biten kalemin yenisini almak
<input type="radio"/> Tiyatroya gitmek

<input type="radio"/> Yeni bir çanta almak
<input type="radio"/> Kahvaltı için alışveriş yapmak
<input type="radio"/> İngilizce kursuna gitmek

## İSTEK VE İHTİYAÇLARIMIZ

Aşağıdaki ürünlerden ihtiyacınız olanları kırmızı kalemle ve olmasını istediklerinizi kurşun kalemle işaretleyerek belirtiniz.

ÜRÜNLER	İSTEKLERİMİZ	İHTİYAÇLARIMIZ
Kaban		
Ayakkabı		
Pantolon		
Etek		
Resim Defteri		
Okul Çantası		
Hamburger		
Futbol Topu		
Bez Bebek		
Sanal Gerçeklik Gözlüğü		
Raket		
Silgi		
Pizza		
Döner		
Pide		
Çorap		
Mendil		
Gömlek		
Gözlük		
Bilgisayar		
Cep Telefonu		
Tablet		
Bisiklet		
Kaykay		
Paten		
Kask		
Dizlik		
Meyve Suyu		
Gofret		
Çikolata		
Kemer		