

## DEYİMLER

Aşağıdaki cümleleri, yandaki uygun ifadelerle tamamlayınız.

1 Yarın pikniğe gidecekler diye Deniz'in .....

dört gözle bekliyor.

2 Yaptığı yanlış davranış karşısında .....

dişine göre

3 Yücel'in güreş yapacağı rakibi tam .....

dertlerini dökmeye başladı.

4 Kendisini dinleyen birini görünce hemen .....

bir deri bir kemik kalmıştı.

5 Yiyecek bulamayan sokak köpekleri .....

karnı zil çalıyor.

6 Ömer, öğle yemeğini kaçırdığı için .....

etekleri zil çalıyor.

7 Anne, askerdeki oğlunun dönüşünü .....

ezilip büzülüyor

## DEYİMLER

Aşağıda açıklaması verilen deyimleri, anlamlarıyla eşleştiriniz.

1 Bir kişiyi yetiştirip topluma yararlı duruma getirmek, terbiye etmek.

Meraktan  
çatlamak

2 Gürültüden dolayı başında uğultulu bir sersemlik olmak, kafası şişmek.

Boş  
vermek

3 Çok kaygılanmak, tasalanmak.

Adam  
etmek

4 Aldırmamak, önem vermemek, ilgisi kalmak, umursamamak.

Çene  
yormak

5 Çıldırarak, delirmek.

Kafası kazan  
gibi olmak

6 Boş yere söyleyip durmak, işe yaramayacak biçimde söz söyleyip durmak.

Kafayı  
üşütmek

7 Kötü bir duruma düşmek, mahvolmak.


Turp  
gibi

8 Sağlam, sağlığı yerinde, sağlıklı.

Ayvayı  
yemek

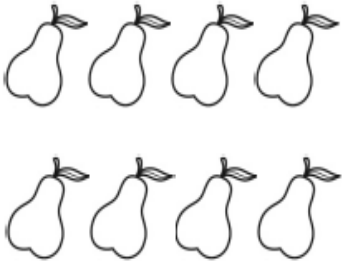
## BİR ÇOKLUĞUN BİRİM KESİR KADARINI BULMA

Aşağıdaki görselleri verilen nesnelerin belirtilen kesir kadarını işlem yaparak bulalım. Bulduğumuz sonuçların örnekteki gibi görselini boyayalım.




$\frac{1}{2}$

Çözüm  
 $4 \div 2 = 2$




$\frac{1}{4}$

Çözüm  
....  $\div$  .... =



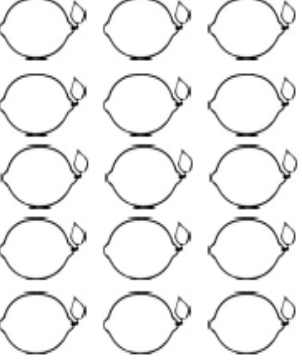
$\frac{1}{3}$

Çözüm  
....  $\div$  .... = ....




$\frac{1}{8}$

Çözüm  
....  $\div$  .... =




$\frac{1}{5}$

Çözüm  
....  $\div$  .... = ....



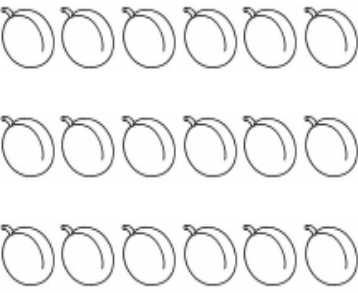
$\frac{1}{6}$

Çözüm  
....  $\div$  .... =



$\frac{1}{7}$

Çözüm  
....  $\div$  .... = ....



$\frac{1}{9}$

Çözüm  
....  $\div$  .... =

1) Tabaktaki 20 kurabiyenin  $\frac{1}{4}$ 'ini Murat yedi. Murat, kaç kurabiye kaldı?


2) Teyzem 35 metre kumaşın  $\frac{1}{7}$ 'ini kullandı. Teyzem kaç metre kumaş kullandı?


3) Ali, kumbarasındaki 96 TL'sinin  $\frac{1}{8}$ 'ini harcadı. Ali kaç TL harcadı?


4) Ece, sınıf kitaplığındaki 45 kitabın  $\frac{1}{5}$ 'ini okudum. Ece, kaç kitap okudu?


5) Sepetteki 72 elmanın  $\frac{1}{6}$ 'ini kardeşime verdim. Kardeşime kaç elma verdim?


6) Dedem çiftlikteki 63 koyunun  $\frac{1}{9}$ 'ini sattı. Dedem kaç koyun sattı?


7) Sınıfımızdaki 36 öğrencinin  $\frac{1}{3}$ 'i kız öğrencidir. Sınıfımızda kaç kız öğrenci vardır?


8) Arda, 24 tane misketin  $\frac{1}{2}$ 'ini Yusuf'a verdi. Arda'nın kaç misketi kaldı?
