




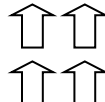





## TÜRKÇE DERSİ SORULARI




1. "Atatürk'ün mezarı ankara'dadır.." cümlesinde aşağıdakilerden hangisiyle gösterilen sözcük yanlış yazılmıştır?  
A)  B)  C) 
2. Hangi cümlenin sonuna ünlem (!) işareti konulmaz?  
A) Of, canım çok sıkılıyor B) Kimin babası bankada çalışıyor  
C) Hey, biraz beklesene
3. "Atatürk, önce Mahalle mektebine gitti.." cümlesinde altı çizili sözcüğün yerine hangisi getirilirse anlam değişmez?  
A) tiyatrosuna B) okuluna C) stadyumuna
4. Köyünü özleyen Mehmet, köyle ilgili bir yazı yazmak isterse hangisinden bahsetmez?  
A) köydeki akrabalarından B) hayvanlardan C) ders araç-gereçlerinden
5. Hangi seçenekteki kelime doğru hecelenmiştir?  
A) tren - ler B) yav - rum - uz C) kel - e - bek
6. Hangi sözcüğün zıt anlamı yanlış eşleştirilmiştir?  
A) fakir - zengin B) yok - var C) kirlî - pis
7. Kesme işareti (') hangisinde doğru kullanılmıştır?  
A) okul' umuz B) Murat' ın C) Beki' rin
8. "Bebek, karnı acıktığı için ağlıyordu.." cümlesinde hangi sorunun cevabı yoktur?  
A) Kim? B) Niçin? C) Nereye?
9. "tah - ? .. hecesinin yanına hangisini eklersek anlamlı bir kelime oluşur?  
A) -ci B) -ta C) -ğa
10. Arkadaşlarınız doğum gününe çağırarak isteyen Edanur, onlara aşağıdakilerden hangisini yazarak gönderir?  
A) davetiye B) mektup C) roman
11. "Babam üt ( ) demlik ve masa alacak mı ( ).." cümlesinde sırasıyla hangi noktalama işaretleri kullanılmalıdır?  
A) (.), (!) B) (!), (?) C) (.), (?)

## MATEMATİK DERSİ SORULARI

12. İkişer ikişer ileriye doğru sayarken 44' ten önce hangi sayıyı söyleriz?  
A) 42 B) 43 C) 45
13. AB AC AB AC ?  
Yukarıdaki örüntüye göre (?) işareti olan yere hangisi gelmelidir?  
A) AA B) AC C) AB
14. Hangi grubu iki eşit parçaya ayıramayız?  
A)  B)  C) 

15. Her gün 2 ekmek yiyen bir aile 4 günde toplam kaç ekmek yer?  
A) 8 B) 7 C) 5
16. "On ikiden üç çıktı, dokuz kaldı." ifadesinin rakamlarla gösterilişi hangisidir?  
A)  $12 + 3 = 9$  B)  $12 - 9 = 3$  C)  $12 - 3 = 9$
17. Bir basamaklı en büyük ve en küçük sayılar hangisidir?  
A) 1 ile 10 B) 9 ile 99 C) 0 ile 9
18. Hangisini zamanı ölçmede kullanmayız?  
A) terazi B) saat C) takvim
19. "... - 55 - 60 - 65 - ... - 75 - 80." sayı dizisinde boşluklara hangi sayılar yazılmalıdır?  
A) 54 - 70 B) 50 - 70 C) 50 - 66
20. Aşağıdaki uzunluklardan hangisi en kısadır?  
A) parmak B) kulaç C) adım
21. Hangisi ay adı değildir?  
A) mayıs B) temmuz C) sonbahar
22. Hangisi küpe benzemez?  
A)  B)  C) 

### HAYAT BİLGİSİ DERSİ SORULARI

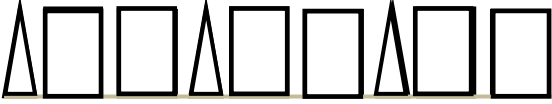
23. Türk bayrağında hangi renk yoktur?  
A) kırmızı B) beyaz C) sarı
24. Hangisi okulda temizlikle ilgilenir?  
A) müdür yardımcısı B) hizmetliler C) öğretmenler
25. Sabah kalkınca ailemize ne söyleriz?  
A) teşekkür ederim B) iyi geceler C) günaydın
26. Hangi hayvan hem ot hem de et yiyerek beslenir?  
A)  B)  C) 
27. Hangisi devletimizin yönetim şeklidir?  
A) Cumhuriyet B) Padişahlık C) Krallık
28. İneklerin yaşadığı yere ne denir?  
A) kümes B) kovan C) ahır
29. Hangisi bir meslek adı değildir?  
A) doktorluk B) annelik C) mühendislik

# ÖRÜNTÜYÜ TAMAMLAYALIM KURALINI YAZALIM

1 - Aşağıdaki örüntüleri tamamlayınız. Örüntünün kuralını bulup yazınız.



Blank writing area for the rule of the first pattern.



Blank writing area for the rule of the second pattern.



Blank writing area for the rule of the third pattern.

2- Aşağıdaki örüntüleri renkleri ve şekilleri de dikkate alarak tamamlayınız. Örüntünün kuralını aşağıya yazınız.

M Y K

M=Mavi Y=Yeşil K=Kırmızı



Kural:

M K Y

M=Mavi K=Kırmızı Y=Yeşil



Kural:

3- Aşağıdaki geometrik şekilleri kullanarak siz de örüntüler hazırlayınız.  
Hazırladığınız örüntünün kuralını kısaca açıklayınız.



Kural:

Kural:

Örüntüleri kuralına göre devam ettirin.

