

## “Kİ” EKİNİN YAZIMI

**Dikkat et!!!** “-ki” ekini cümleden çıkardığımızda **anlam bozuluyorsa BİTİŞİK** yazılır. ( ek )

“-ki” ekini cümleden çıkardığımızda **anlam bozulmuyorsa AYRI** yazılır. ( Bağlaç )

**Aşağıdaki cümlelerde eklerin doğru yazılıp yazılmadığını kontrol ediniz.**

No:	Cümle	Doğru	Yanlış
1	Okula git ki okumayı öğrenesin		
2	Poyraz yanda ki sıraya otursun		
3	Bendeki kalem kırıldı.		
4	Saatinde ki yelkovan koptu mu?		
5	Sende ki küpeler altın mı?		
6	Şöyle gel ki yüzünü göreyim.		
7	Baktım ki bu iş böyle olmayacak.		
8	San ki seni bir yerden tanıyorum.		
9	Evde ki hesap çarşıya uymadı.		
10	Belinde ki kemeri çok beğendim.		
11	Oysa ki geleceğine söz vermişti.		
12	Gözlerinde ki heyecan beni etkiledi.		
13	Görülüyorki işler yolunda gidiyor.		
14	Akşamki yemek çok güzeldi		
15	Sabahki maç daha zevkliydi.		
16	Bahçedeki kedi kaçmış.		
17	Şuradaki evde oturuyoruz.		
18	Bankada ki paralar bitti		
19	Bunu çok beğendimki aldım.		
20	Okulda ki arkadaşlarımla maç yaptım.		
21	Bizimkiler maça gitti.		
22	Şurada ki kalemi kim aldı?		
23	Sendeki küpeler altın mı?		
24	Evdeki hesap çarşıya uymadı		
25	Yarın giderken onunkini alırız		
26	Yarınki törende görev alacak mısınız?		
27	Baktım ki bu iş böyle olmayacak		
28	Çalışki ,başarılı olasın		
29	Bize geldi mi ki?		
30	Acaba hepsini doğru yaptım mıki?		

## “Kİ” EKİNİN YAZIMI



Ek olan -ki kelimelerin sonuna eklenir ve bitişik yazılır. Bağlaç olan -ki kendinden önceki ve sonraki kelimelerden ayrı yazılır.

NOT: Halbuki, sanki, belki, oysaki, çünkü, meğerki kelimeleri daima bitişik yazılır.

Aşağıdaki cümleleri okuyalım .-ki eki bağlaç ise A(ayrı) ,kelimedeki ek ise B (bitişik) kutusunu işaretleyelim.

CÜMLELER	B	A
Saatteki sayılar yoktu.	X	
Benki şimdiye kadar ona bir laf bile söylemedim.		X
Bileziğimdeki boncuklar dökülmüş.		
Üstündeki kazak o kadar küçülmüştüki ona olmuyordu.		
Masallardaki kahramanlar çok cesur.		
Öylesine hızlı koşuyorduki yere yapıştı.		
Bitiş çizgisindeki bayrak rüzgâr yüzünden uçtu.		
Musa'nın belindeki kemeri çok beğendim.		
Dolabımdaki kitaplar çok güzel.		
Öyle anladımki bu iş olmayacak.		
Saçındaki toka bit gelmesini engeller mi?		
Su ağaç öyle büyüdüki dallarına yetişemiyoruz.		
Dolaptaki sudan içtim.		
Kapıyı öyle bir çarptıki camlar zangırdadı.		
Temel oğlum raftaki tuzluklardan birini versene.		
Evrendeki galaksiler çok büyüktü.		
Sınıftaki yazı tahtasının üstüne Atatürk resmi astık.		
Yağmur öyle şiddetli yağıyorduki gök delindi zannettik.		
Elmas öyle sertki kimse kıramaz.		
Odunluktaki odunları martta kar yağınca yaktık.		
Koltuktaki kediye ne oldu?		
Minik kedi o kadar hızlı koştu ki annesine yetişti.		
Bu kitap o kadar güzelki bir çırpıda okudum.		

## TARTMA

🌀 Aşağıdaki varlıkların gerçek ağırlıklarının hangisi olabileceğini tahmin edip boyayınız.



750 g 1 40 kg 8 kg



10 g 130 g 3 kg



20 g 3 g 750 g



4 kg 500 g 50 kg



1 kg 150 g 6 kg



5 g 100 g 1 kg



4 kg 500 g 50 kg



42 kg 10 kg 120 kg



130 kg 30 kg 950 kg



2 kg 5 g 140 g



3 kg 250 g 15 g



300 kg 15 kg 60 kg



320 kg 5 g 140 g

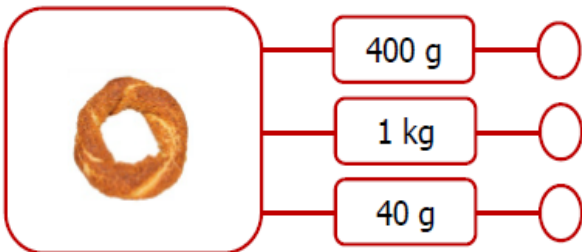
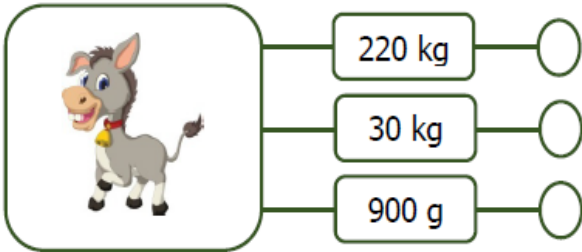
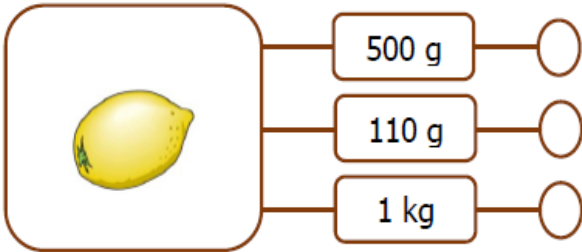
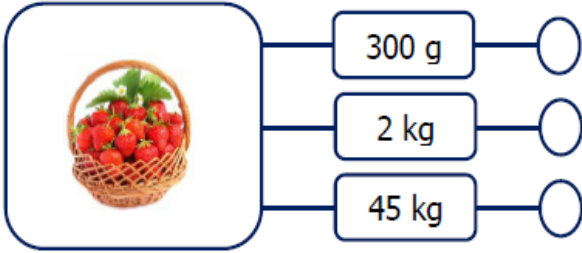
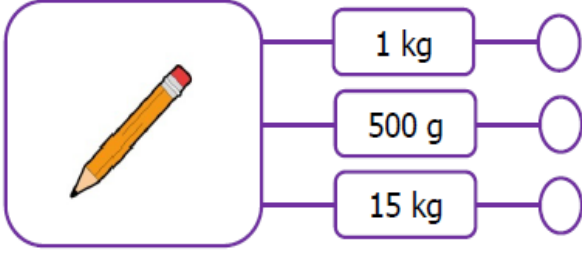
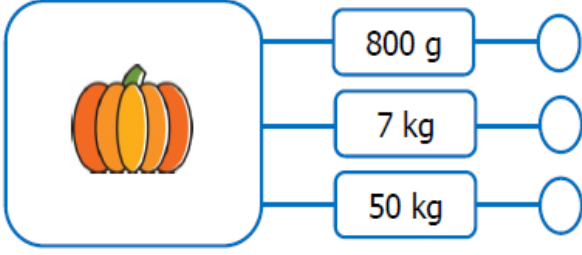


90 g 2 kg 5 g



300 kg 15 kg 600g

Aşağıdaki nesnelerin kütlelerini tahmin ederek uygun kutucuğu işaretleyelim.



Aşağıdaki toplama ve çıkarma işlemlerini yapınız. Sonuçlarını "kg" ve "g" cinsinden yapınız.

$$500 \text{ g} - 120 \text{ g} = \dots\dots\dots$$

$$15 \text{ kg} - 9 \text{ kg} = \dots\dots\dots$$

$$80 \text{ kg} - 14 \text{ kg} = \dots\dots\dots$$

$$250 \text{ g} - 80 \text{ g} = \dots\dots\dots$$

$$130 \text{ g} + 90 \text{ g} = \dots\dots\dots$$

$$26 \text{ kg} + 18 \text{ kg} = \dots\dots\dots$$

$$600 \text{ g} + 325 \text{ g} = \dots\dots\dots$$

$$50 \text{ kg} + 25 \text{ kg} = \dots\dots\dots$$

Aşağıdaki hangi ölçümler birbirine eşittir eşleştirelim.

1 kg

500 g

Yarım kg

7000 g

3000 g

1000 g

7 kg

3 kg