

23 NİSAN'IN ÖNEMİ

23 Nisan 1920, Türk Milletinin iradesini temsil eden Birinci Büyük Millet Meclisi'nin açıldığı ve Türk halkının egemenliğini ilân ettiği tarihtir.

Atatürk, 23 Nisan 1924'te "23 Nisan, gününün bayram olarak kutlanmasına karar vermiştir. Bu tarihten 5 yıl sonra 23 Nisan 1929'da Atatürk bu bayramı çocuklara armağan etmiştir ve 23 Nisan ilk defa 1929 yılında Çocuk Bayramı olarak da kutlanmaya başlanmıştır. 1979'da, yine ilk olarak altı ülkenin katılımıyla uluslararası boyuta taşıdığımız bu millî bayramımıza, ortalama olarak her yıl kırkın üzerinde ülkeden gelen ve Türk çocuklarının misafiri olan yabancı ülke çocukları da katılmaktadır. Dünyada çocuklarına bayram hediye eden ve bu bayramı bütün dünya ile paylaşan ilk ve tek ülke Türkiye'dir.

Türk milletinin gönlünde, onun bağımsızlığının sarsılmaz ifadesi olarak en önemli yeri olan 23 Nisan Ulusal Egemenlik ve Çocuk Bayramı, her yıl yurdumuzda ve yurtdışındaki temsilciliklerimizde, bütün kurumlarımızda, okullarımızda ve her evde çeşitli etkinliklerle kutlanarak millî birliğimizin kenetlenmiş ifadesini temsil etmektedir. Büyük Önder Atatürk'ün düşüncesinde çocuklar, milletin geleceğidir. Onlara duyduğu sarsılmaz güvenin ve büyük sevginin ifadesi olarak, millî bayramımız olan 23 Nisanlar'ı çocuklara armağan etmiştir. Milletimize ve bütün çocuklara kutlu olsun.

Aşağıdaki soruların cevaplarını metne göre yazınız

1. 23 Nisan 1920'de ne oldu?

.....

2. 23 nisanın bayram olarak kutlanmasına **ne zaman** karar verildi?

.....

3. Atatürk, 23 nisanı **ne zaman** çocuklara armağan etmiştir?

.....

4. 23 nisan, **ilk kez hangi yıl** uluslar arası boyutta kutlanmıştır?

.....

5. Dünyada çocuklarına bayram hediye eden ve bu bayramı dünya ile paylaşan **ilk ve tek ülkenin** adı nedir?

.....

6. Atatürk, 23 nisanı **niçin** çocuklara armağan etmiştir?

.....

7. Her yıl nisan ayında kutladığımız milli bayramımızın adı nedir?

.....

8. Türk halkı, egemenliğini ne zaman ilan etmiştir?

.....

* Türk çocukları adına Atatürk'e bir mektup gönderseniz, neler yazardınız?

.....

.....


.....

.....

.....

Birlik ve beraberliklerin pekiştiği , ulusça kutladığımız günlere "Milli Bayramlar " diyoruz.

Ülkemizde kutladığımız milli bayramlar nelerdir?

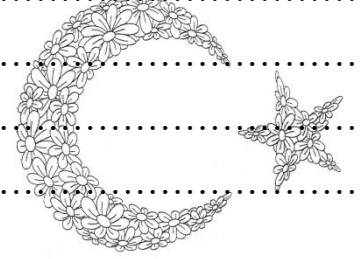


.....

.....

.....

.....



Ülkemizde kutladığımız dini bayramlarımız nelerdir?

.....

.....

23 Nisanla ilgili şiir yazalım

.....

.....

.....

.....

.....

.....

.....

.....



1) Yandaki saat **sabah kaç** göstermektedir?

- A) Sekiz buçuk
B) Dokuz buçuk
C) On buçuk



6) Sayısal saat 17:00 gösterdiğine göre yelkovanlı saat kaç gösterir?



2) Yandaki çocuk **saat kaçta** kitap okuyor?



- A) İki buçuk
B) Üç buçuk
C) Dört



7) Sayısal saat 19:30 gösterdiğine göre yelkovanlı saat kaç gösterir?



3) Yandaki saat **akşam kaç** göstermektedir?

- A) Sekiz buçuk
B) Dokuz buçuk
C) On buçuk



8) Yandaki yelkovanlı saatin karşılığını **hangi sayısal saat** göstermektedir?



4) Oyun zamanı **saat kaçta** başladı?

- A) 12:00 B) 13:00 C) 11:00



9) Yandaki yelkovanlı saatin karşılığını **hangi sayısal saat** göstermektedir?



4) Aile, **saat kaçta** uyudu?

- A) 20:30 B) 21:00 C) 22:00





10) Sayısal saat 12:30 u gösteriyor. Üç saat önce **saat kaç** gösterir?





11) Yelkovanlı saat 14:30 u gösteriyor. 5 saat sonra saat kaçı gösterir?



16) Saat üçte başlayan film saat dört buçukta bitmiştir.


Film kaç saat sürmüştür?

A) Bir saat B) İki saat C) Bir buçuk saat

12) Aşağıdaki hangi saat gece on buçuğu göstermez?



17.18.19. ve 20. soruları resme göre cevaplayınız.



13) Gece saat 21:30 da uyuyan Elif, 10 saat sonra okula gitmek için kalkacaktır.

Elif, saat kaçta kalkacaktır?

A) 7:30 B) 8:30 C) 9:30



14) Saat 7:30 i gösteriyor. Akrep 3 tur atarsa saat kaçı gösterir?

A) 11:30 B) 12:30 C) 10:30

17) Perondaki saate göre; Eskişehir İstanbul treni kaç saat önce kalkmıştır?

A) Yarım saat B) Bir saat C) İki saat

18) Perondaki saate göre; Eskişehir - Ankara treni kaç saat sonra kalkacaktır?

A) Yarım saat B) Bir saat C) İki saat

19) Perondaki saate göre; Eskişehir - İzmir treni kaç saat sonra kalkacaktır?

A) Bir saat B) İki saat C) İki buçuk saat



15) Ankara'dan sabah 08:30 da yola çıkan otobüs İstanbul'a 13:30 da varıyor.

Yolculuk kaç saat sürmüştür?

A) 4 saat B) 5 saat C) 6 saat

20) Ankara treni , İzmir treninden kaç saat sonra kalkacaktır?

A) Üç saat B) İki saat C) Dört saat