


ÇARPMA İŞLEMİ ETKİNLİĞİ



Balonları sayalım.

$$\dots + \dots + \dots = \dots$$

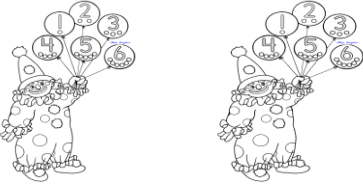
$$\dots \times \dots = \dots$$



Çiçekleri sayalım.

$$\dots + \dots + \dots + \dots = \dots$$


$$\dots \times \dots = \dots$$



Balonları sayalım.

$$\dots + \dots = \dots$$

$$\dots \times \dots = \dots$$



Yıldızları sayalım.

$$\dots + \dots + \dots + \dots = \dots$$

$$\dots \times \dots = \dots$$



Elmaları sayalım.

$$\dots + \dots + \dots = \dots$$

$$\dots \times \dots = \dots$$

Aşağıdaki çarpma işlemlerini yapalım

$$2 \times 2 = \dots$$

$$3 \times 1 = \dots$$

$$2 \times 1 = \dots$$

$$3 \times 2 = \dots$$

$$3 \times 3 = \dots$$

$$2 \times 4 = \dots$$

$$3 \times 4 = \dots$$

$$2 \times 5 = \dots$$

$$5 \times 3 = \dots$$

$$4 \times 5 = \dots$$

$$1 \times 5 = \dots$$

$$4 \times 1 = \dots$$

Aşağıdaki çarpma işlemlerini yapalım

$$\begin{array}{r} 5 \\ \times 2 \\ \hline \end{array}$$

$$\begin{array}{r} 3 \\ \times 3 \\ \hline \end{array}$$

$$\begin{array}{r} 4 \\ \times 3 \\ \hline \end{array}$$

$$\begin{array}{r} 4 \\ \times 4 \\ \hline \end{array}$$




$$\begin{array}{r} 1 \\ \times 2 \\ \hline \end{array}$$

$$\begin{array}{r} 3 \\ \times 4 \\ \hline \end{array}$$

$$\begin{array}{r} 2 \\ \times 3 \\ \hline \end{array}$$

$$\begin{array}{r} 5 \\ \times 5 \\ \hline \end{array}$$


Resimlerle gösterilen işlemleri yapalım.



$$\dots \times \dots = \dots$$



$$\dots \times \dots = \dots$$



$$\dots \times \dots = \dots$$

1 SAYISI İLE ÇARPMA

ÇARPMA ETKİNLİĞİ

Aşağıdaki işlemleri örnekteki gibi yapınız.

Örnek:



$$3 + 3 + 3 + 3$$

Resimde 4 tane kutu var.

Her kutuda 3 kalem var.

4 tane 3 kaç eder?

$4 \times 3 = 12$ kalem eder.

$4 \times 1 = \dots\dots$

$1 \times 6 = \dots\dots$

$1 \times 8 = \dots\dots$

$2 \times 1 = \dots\dots$

$5 \times \square = 5$

$1 \times \square = 3$

$\square \times 6 = 6$

$\square \times 1 = 9$

SIFIR (0) SAYISI İLE ÇARPMA



$\dots\dots + \dots\dots + \dots\dots$

Her bir kutuda kaç kitap var?

Sıfır kitap var.

3 tane 0, 0 eder.

$3 \times 0 = 0$ eder.

$5 \times 0 = \dots\dots$

$0 \times 4 = \dots\dots$

$0 \times 8 = \dots\dots$

$2 \times 0 = \dots\dots$

$6 \times \square = 0$

$\square \times 9 = 0$

$\square \times 1 = 0$

$\square \times 3 = 0$



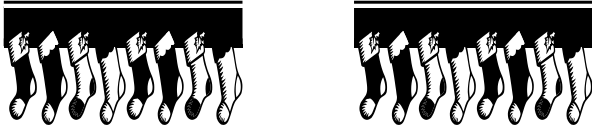
$\dots\dots + \dots\dots + \dots\dots + \dots\dots$

$\dots\dots \times \dots\dots = \dots\dots$



$\dots\dots + \dots\dots + \dots\dots + \dots\dots$

$\dots\dots \times \dots\dots = \dots\dots$



$\dots\dots + \dots\dots$

$\dots\dots \times \dots\dots = \dots\dots$




$\dots\dots + \dots\dots + \dots\dots$

$\dots\dots \times \dots\dots = \dots\dots$



$\dots\dots + \dots\dots + \dots\dots$

$\dots\dots \times \dots\dots = \dots\dots$



$\dots\dots + \dots\dots$

$\dots\dots \times \dots\dots = \dots\dots$

Aşağıdaki çarpma işlemlerini yapınız.

$$\begin{array}{r} 6 \\ \times 5 \\ \hline \end{array} \quad \begin{array}{r} 3 \\ \times 4 \\ \hline \end{array} \quad \begin{array}{r} 2 \\ \times 6 \\ \hline \end{array} \quad \begin{array}{r} 8 \\ \times 3 \\ \hline \end{array}$$

$4 \times 5 = \dots\dots$

$5 \times 5 = \dots\dots$

$6 \times 3 = \dots\dots$

$2 \times 2 = \dots\dots$

$4 \times 4 = \dots\dots$

$9 \times 2 = \dots\dots$

Aşağıdaki toplama işlemlerini çarpma işlemi olarak yazıp yapınız.

$5+5+5+5+5 = \dots\dots \quad \dots\dots \times \dots\dots = \dots\dots$

$6+6+6+6 = \dots\dots \quad \dots\dots \times \dots\dots = \dots\dots$

$4+4 = \dots\dots \quad \dots\dots \times \dots\dots = \dots\dots$

$3+3+3+3+3+3 = \dots\dots \quad \dots\dots \times \dots\dots = \dots\dots$

$10+10+10+10 = \dots\dots \quad \dots\dots \times \dots\dots = \dots\dots$

$8+8 = \dots\dots$

$\dots\dots \times \dots\dots = \dots\dots$

KARŞILAŞTIRMA CÜMLELERİ

Birden fazla varlık, kavram ya da durumun karşılaştırıldığı cümlelerdir. Karşılaştırmada **benzerlik, farklılık, üstünlük** gibi değişik durumlar ifade edilir.

Karşılaştırma ilgisi “**gibi, kadar, en, daha, fazla, oranla, nazaran, göre**” gibi sözcüklerle kurulur.

ÖRNEKLER:

- » Kışın Erzurum, İzmir’den **daha** soğuktur.
- » Televizyon da sinema **kadar** etkilidir.
- » Köyün **en** güzel çileği bahçemizde yetişir.
- » Berna, gezmeyi çok sever, Seda ise kitap okumayı.

Aşağıda verilen cümleleri uygun karşılaştırma sözcükleriyle tamamlayınız.

gibi	kadar	daha	aynı	oranla	nazaran	fazla	en	göre
------	-------	------	------	--------	---------	-------	----	------

Kaplumbağa ,tavşanayavaş koşar.

Karpuz, elmadanbüyüktür.

Sena, Buse düzenli değil.

Aşağı yukarıboydayız.

Gül sevilen çiçektir diyebiliriz.

Sinan, Ahmet’ezayıftır.

Tablet de telefonçocuklara zarar veriyor.

Bizim sınıfın çalışkanı Ceylin’dir.

Okan’ın kitapları, Zerrin’in kitaplarından

Bugün hava dünedaha sıcak.

KARŞILAŞTIRMA CÜMLELERİ TESTİ

1. Aşağıdaki cümlelerden hangisinde bir karşılaştırma yapılmıştır?

- a) Sokağın başındaki lokanta buradan daha temizdir.
- b) Çok dondurma yediği için hasta oldu.
- c) Saçlarını nerede kestirdin?

2. Aşağıdaki cümlelerdeki boşluklardan hangisine “-den daha “ getirilmesi uygun olur?

- a) İrem hızlı koşanı görmedim.
- b) Cemil ile Cemal boydalar.
- c) Ablama tiyatro sinemadan daha güzel.

3. Aşağıdaki cümlelerden hangisinde boş bırakılan yere “ gibi “ sözcüğü getirilemez?

- a) Karadeniz, Akdeniz tuzlu değil.
- b) Aynı öğretmenimiz konuştu.
- c) Beril bu sınava çok çalışacak.

4. Aşağıdaki cümlelerden hangisi karşılaştırma cümlesi değildir?

- a) Ayşen’e göre Gaye daha çalışkan bir öğrenci.
- b) Furkan büyük şehirde oturuyor.
- c) Kuzenim ile farklı okullara devam ettik.

5. Aşağıdaki cümlelerden hangisinde “ Zeynep Yeliz de başarılı. “ cümlesindeki boşluğun yerini gelecek kelime kullanılmıştır?

- a) Meltem’den daha uzun boyluyum.
- b) Kediler daha sevimli hayvanlar.
- c) Uçak kadar konforlu bir taşıma aracı yok.

6. “Ali dayı bu sene geçen seneden daha çok ürün topladı. “ cümlesinde hangi özellik kıyaslanmıştır?

- a) Geçen seneler
- b) Geçen sene ile bu senenin ürün miktarı
- c) Ali dayı ile diğer köylüler

7. “ Umarım bu yaz geçen yaz kadar sıcak olmaz. “ cümlesinde altı çizili sözcük yerine aşağıdakilerden hangisi getirilirse anlam bozulmaz?

- a) daha
- b) gibi
- c) göre

8. “ Semih abim ben de resme merak sardım. “ cümlesinde boş bırakılan yere aşağıdakilerden hangisi getirilmelidir?

- a) kadar
- b) gibi
- c) –den daha