

OLAYLARI OLUŞ SIRASINA GÖRE SIRALAYALIM

Aşağıdaki olaylar karışık olarak verilmiştir. Bir sıraya koyar mısın?

- ❖ “ Sağ ön lastik patlamış .” dedi.
- ❖ Yeniden yola koyulduk.
- ❖ Güle oynaya yol alıyorduk.
- ❖ Lastiği, yedek lastikle değiştirdi.
- ❖ Babam birden otomobili durdurdu.

1.
2.
3.
4.
5.

- ❖ Daha elini yüzünü yıkamadan anlatmaya başladı.
- ❖ O sabah da öyle oldu.
- ❖ Gül çok düş görürdü.
- ❖ Sabah kalkınca da ilk işi annesine anlatmak olurdu.
- ❖ “Anneciğim düşümde ne gördüm biliyor musun” derdi.

1.
2.
3.
4.
5.

- ❖ **Bobi'de Murat'ı sevdiğini belli ederdi.**
- ❖ **Murat Bobi'yi çok severdi.**
- ❖ **Onun yanından ayrılmazdı.**
- ❖ **Murat'ın Bobi adında bir köpeği vardı.**
- ❖ **Murat, bir gün arkadaşı ile göl kenarına gitti.**

1.
2.
3.
4.
5.

- ❖ **Annem koyunlarla, babam atlarla ilgilenir.**
- ❖ **Annem, babam, kardeşim ve ben hayvanları çok severiz.**
- ❖ **Bizim küçük bir çiftliğimiz var.**
- ❖ **Ben ve kardeşim ise tavukları beslemekle görevliyiz.**
- ❖ **Çiftlikte hepimizin yapacağı bir görevi vardı.**

1.
2.
3.
4.
5.

BÖLME İŞLEMİNİ KAVRAYALIM


1. Etkinlik : Verilen çıkarma işlemlerini tamamlayıp, bölme işlemi olarak göstereyim.

a.)

$9 - 3 = \dots$
 $\dots - 3 = \dots$
 $\dots - 3 = \dots$

..... işlem yaptık.

$\begin{array}{r} \dots \\ \dots \\ \hline \dots \end{array}$




b.)

$12 - 4 = \dots$
 $\dots - 4 = \dots$
 $\dots - 4 = \dots$

..... işlem yaptık.

$\begin{array}{r} \dots \\ \dots \\ \hline \dots \end{array}$




c.)

$20 - 5 = \dots$
 $\dots - 5 = \dots$
 $\dots - 5 = \dots$
 $\dots - 5 = \dots$

..... işlem yaptık.

$\begin{array}{r} \dots \\ \dots \\ \hline \dots \end{array}$




ç.)

$14 - 2 = \dots$
 $\dots - 2 = \dots$
 $\dots - 2 = \dots$
 $\dots - 2 = \dots$
 $\dots - 2 = \dots$
 $\dots - 2 = \dots$
 $\dots - 2 = \dots$

..... işlem yaptık.

$\begin{array}{r} \dots \\ \dots \\ \hline \dots \end{array}$




c.)

$18 - 3 = \dots$
 $\dots - 3 = \dots$
 $\dots - 3 = \dots$
 $\dots - 3 = \dots$
 $\dots - 3 = \dots$
 $\dots - 3 = \dots$


..... işlem yaptık.


$\begin{array}{r} \dots \\ \dots \\ \hline \dots \end{array}$





BÖLME İŞLEMİ YAPALIM


1. Etkinlik : Arda ve Suna bölme işlemleri yapmışlar. Ama bazıları doğru bazıları yanlış olmuş. Doğru'lara "D", yanlış'lara "Y" yazalım.


$$\begin{array}{r} 9 \quad | \quad 3 \\ \underline{9} \quad | \quad 3 \\ 0 \quad | \quad \dots \end{array}$$



$$\begin{array}{r} 16 \quad | \quad 4 \\ \underline{16} \quad | \quad 4 \\ 00 \quad | \quad \dots \end{array}$$



$$\begin{array}{r} 14 \quad | \quad 2 \\ \underline{14} \quad | \quad 8 \\ 00 \quad | \quad \dots \end{array}$$



$$\begin{array}{r} 24 \quad | \quad 3 \\ \underline{24} \quad | \quad 7 \\ 00 \quad | \quad \dots \end{array}$$



$$\begin{array}{r} 30 \quad | \quad 5 \\ \underline{30} \quad | \quad 6 \\ 00 \quad | \quad \dots \end{array}$$



$$\begin{array}{r} 12 \quad | \quad 4 \\ \underline{12} \quad | \quad 3 \\ 00 \quad | \quad \dots \end{array}$$



$$\begin{array}{r} 18 \quad | \quad 2 \\ \underline{18} \quad | \quad 8 \\ 00 \quad | \quad \dots \end{array}$$



$$\begin{array}{r} 18 \quad | \quad 3 \\ \underline{18} \quad | \quad 6 \\ 00 \quad | \quad \dots \end{array}$$



$$\begin{array}{r} 25 \quad | \quad 5 \\ \underline{25} \quad | \quad 5 \\ 00 \quad | \quad \dots \end{array}$$



$$\begin{array}{r} 36 \quad | \quad 4 \\ \underline{36} \quad | \quad 9 \\ 00 \quad | \quad \dots \end{array}$$



$$\begin{array}{r} 10 \quad | \quad 2 \\ \underline{10} \quad | \quad 4 \\ 00 \quad | \quad \dots \end{array}$$



$$\begin{array}{r} 40 \quad | \quad 5 \\ \underline{40} \quad | \quad 8 \\ 00 \quad | \quad \dots \end{array}$$



$$\begin{array}{r} 21 \quad | \quad 3 \\ \underline{21} \quad | \quad 7 \\ 00 \quad | \quad \dots \end{array}$$


$$\begin{array}{r} 16 \quad | \quad 2 \\ \underline{16} \quad | \quad 8 \\ 00 \quad | \quad \dots \end{array}$$


$$\begin{array}{r} 20 \quad | \quad 4 \\ \underline{20} \quad | \quad 5 \\ 00 \quad | \quad \dots \end{array}$$


$$\begin{array}{r} 35 \quad | \quad 5 \\ \underline{35} \quad | \quad 7 \\ 00 \quad | \quad \dots \end{array}$$


$$\begin{array}{r} 8 \quad | \quad 2 \\ \underline{8} \quad | \quad 4 \\ 0 \quad | \quad \dots \end{array}$$


$$\begin{array}{r} 15 \quad | \quad 3 \\ \underline{15} \quad | \quad 4 \\ 00 \quad | \quad \dots \end{array}$$




Doğru Sayısı :
Yanlış Sayısı :



Doğru Sayısı :
Yanlış Sayısı :