

## TÜRKÇE TEST

1. *"Karabiber"* sözcüğünde kaç tane ünlü harf vardır?

- A) 9 B) 5 C) 4

2. *"köpek - erik - kemik - gül"* sözcüklerinin sözlük sırasına göre dizilişi aşağıdakilerden hangisidir?

- A) erik - gül - kemik - köpek  
B) gül - kemik - erik - köpek  
C) erik - kemik - köpek - gül

3. Aşağıdaki sözcüklerden hangisinin yazılışı yanlıştır?

- A) kitap B) karpus C) tırnak

4. Aşağıdaki isimlerin hangisi yanlıştır yazılmıştır?

- a) Adana'da b) Alinin c) Atatürk'ü

5. *"Ormanda fındık meşe çam ağaçları var."*

Cümlede ağaç adlarının aralarına hangi noktalama işareti konmalıdır?

- A) virgül B) ünlem işareti C) soru işareti

10. Aşağıdaki kelimelerden hangisi, ek almamıştır?

- A) Biberli B) Kış C) Kitaplık

6. Aşağıdaki sözcüklerin hangisinde yalnız ince ünlü harfler vardır?

- A) bahçemiz B) merdiven C) ıspanak

7. Aşağıdaki sözcüklerden hangisi yanlıştır yazılmıştır?

- A) mendil B) kitab C) kanat

8. Aşağıdaki sözcüklerden hangisi ünlüyle başlayan bir ek aldığında son harfi değişir?

- A) simit B) patates C) karpuz

9. Aşağıdaki sözcüklerden hangisi sözlükte diğerlerinden sonra gelir?

- A) limon B) kilim C) mavi

10. Soru işareti hangi cümlede yanlıştır kullanılmıştır?

- A) Tatile kaç gün kaldı? B) Niçin geç kaldın?  
C) Bu soruyu bilmiyorum?

11. Aşağıdaki sözcüklerden hangisi hareket bildirmez?

- A) duruyor B) limon C) gelecek

12. Aşağıdakilerden hangisi cümledir?

- A) Bahçemizin önünden geçen yol  
B) Dışarıdan gelen gürültü  
C) Gittik

13. *"Dün sınıfımıza yeni bir öğrenci geldi ( ) Öğretmenimiz onu hepimizle tanıştırdı ( )."*

cümlesinde ( ) ile gösterilen yerlere hangi noktalama işaretleri getirilmelidir?

- A) (.) (,) B) (.) (.) C) (.) (.)

14. *"Kardeşim yemek yiyor."* cümlesinde hangi sözcük eylemdir (iş bildiren kelime)?

- A) kardeşim B) yemek C) yiyor

15. *"Elindeki paketi güçlkle....."*

cümlesini aşağıdakilerden hangisi ile tamamlarız?

- A) taşıyordu B) vardı C) yürüyordu

16. Aşağıdaki cümlelerin hangisinde eylem (iş) henüz yapılmamıştır?

- A) Dün akşam erkenden yattım.  
B) Kardeşim kahvaltı ediyor.  
C) Az sonra dışarı çıkacağız.

17. *"Annem kardeşimi uyutuyor."* cümlesinde işi yapan kişiyi belirten sözcük hangisidir?

- A) annem B) kardeşimi C) uyutuyor

18. Aşağıdaki cümlelerin hangisi olumsuzdur?

- A) Recep dün okula gelmedi.  
B) Burası çok kötü kokuyor.  
C) Murat bu soruyu yanlıştır yapmış.

19. "Koşuyor" eyleminin soru biçimi aşağıdakilerden hangisidir?

- A) koşacak mı B) koşarlarmı  
C) koşuyor mu

20. Aşağıdakilerden hangisi cümledir?

- A) Yeni evimizin bahçesi B) Dün okula giderken  
C) Yarın okula gideceğim

21. Aşağıdaki kelimelerden anlamlı bir cümle yapıldığında baştan üçüncü kelime hangisi olur?

*\*gibidir-ikinci-okul-bizim- evimiz.\**

A. ikinci B. Okul C. bizim

22. *\*Atatürk 1881 yılında ..... .. doğdu.\** cümlesindeki noktalı yere aşağıdakilerden hangisi yazılmalıdır?

A. selanikte B. Selanik'te C. Selanikte

23. Soru işareti hangi cümlede yanlış kullanılmıştır?

A. Berna geldi mi? B. Ellerini yıkadın mı?  
C. Ödevlerimi yaptım?

24. *\*Sabahleyin erken kalkarım. Yüzümü yıkarım. Kahvaltımı yaparım.\** sözünde kaç cümle vardır?

A.1 B.2 C.3

25. Aşağıdaki tümceler hangisinde *\*yüz.\** kelimesi rakam anlamında kullanılmıştır?

A.) Yüz kere söyledim konuşma diye.  
B.) Kumsalda yüz yüz diye bağıyordu.  
C.) Bu esmer yüz aynı annesine benziyor.

26. Aşağıdaki tümceler hangisinde karşıt anlamlı kelimeler birlikte kullanılmıştır?

A) Yalan yanlış şeyler söyleme.  
B) Hastalıkta, sağlıkta hep seni seveceğim.  
C) Şimdi eşim, dostum beni hastayım sanıyor.

27. Aşağıdaki tümceler hangisinde yazım yanlışı yapılmıştır?

A.) Ömer Seyfettin'in topuz kitabı çok güzel.  
B.) Hakan Zafer Mahallesi'nde oturuyormuş.  
C.) Hasan Ankara'da Anıtkabir'e gitmiş.

28. Aşağıdaki kelimelerden hangisinin hem eş anlamlısı hem de zıt anlamlısı yoktur?

A.) savaş B.) mutlu C.) öğretmen

29. Aşağıdaki sözcüklerden hangisi sözlükte diğerlerinin arasında yer alır?

A.) demir B.) derslik C.) dergi

30. Aşağıdaki sözcük gruplarından hangisi farklıdır?

A) kara- siyah B) ak -siyah C) siyah -beyaz

31. *\*Yaşlı köpek, kulübesine doğru koştu.\**

Tümcesinde hangi kelime köpek kelimesini nitelemiştir?

A.) kulübe B.) yaşlı C.) doğru

32. *\*kolay – basit.\** kelimeleri arasında bir ilişki vardır. " soru, kelimesi ile aşağıdaki sözcüklerden hangisinde aynı ilişki vardır?

A. sınav B. yazılı C. sual

33. *\*Temmuz ayında tatile .....* sözünün tam bir cümle olması için noktalı yere hangi kelime yazılmalıdır?

A. baktık B. okul C. gideceğiz

34. *\*el.\** kelimesi aşağıdakilerden hangisinde farklı bir anlamda kullanılmıştır?

A.) Elinde kocaman bir beni var.  
B.) Soğuktan elleri çatlamış.  
C.) Elinde sonunda benim olacaksın.

35. *\* Ali ( ) Hakan ve Ayşe okula gelmediler mi! \** tümcesinde hangi noktalama işaretleri kullanılmalıdır?

A.) ( , ) ( . ) B.) ( , ) ( ? ) C.) ( . ) ( ? )

36. *\* sevap – günah.\** arasında bir ilişki vardır Buna göre "yalan" ile hangi kelime arasında aynı ilişki vardır?

A.) yanlış B.) doğru C.) hata

37. Aşağıdaki tümceler hangisinde yazım yanlışı yoktur?

A. Vapurla Adalar'a gidiyorduk.  
B. Eymen Huzur sokağında oturuyor.  
C. Soner yarışmada 1 .inci olmuş.





38. Aşağıdaki tümceler hangisinde noktalama işareti yanlış konulmuştur?

A. Ne kadar da hızlı kullanıyor arabayı?  
B. Bugün de mi gelmedi okula?  
C. Seni kaçınıcı defa uyaracağım?

39. Aşağıdaki tümceler hangisinde kesme işareti yanlış kullanılmıştır?

A. Adalar'a gezmeye gitmiştik ailece.  
B. Eymen Gül Sokak'ta oturuyor.  
C. Atakan Konyalı değil Bursa' lıymış.

## GRAFİKLER DEĞERLENDİRME

Vişne	
Elma	
Armut	
Şeftali	

Yukarıdaki nesne grafiğinde bir sınıftaki öğrenciler tarafından sevilen meyveler yazılmıştır. Grafikteki her şekil 1 öğrencinin sevdiği bir meyveyi göstermektedir. Buna göre 1., 2., 3., 4. ve 5. soruları yukarıdaki grafiğe göre cevaplayınız.

**1-) Bu grafiğe göre en çok sevilen meyve hangisidir?**

- A) Elma      B) Armut      C) Şeftali

**2-) Vişneyi kaç kişi sevmektedir?**

- A) 4      B) 3      C) 2

**3-) Elma ve şeftaliyi kaç kişi sevmektedir?**

- A) 7      B) 8      C) 9

**4-) Bu grafiğe göre en az sevilen meyve hangisidir?**

- A) Elma      B) Armut      C) Vişne

**5-) Bu grafiğe göre sınıf mevcudu kaçtır?**

- A) 14      B) 15      C) 13

Sınıf	Mevcut
2 – A	32
2 – B	29
2 – C	30
2 – D	28

Yukarıdaki tablo bir okuldaki ikinci sınıfların mevcutlarını göstermektedir. Buna göre 6.7.8.9. ve 10. soruları cevaplayınız.

**6-) En kalabalık mevcut hangi sınıfındır?**

- A) 2 – A      B) 2 – C      C) 2 – B

**7-) En az mevcut hangi sınıfındır?**

- A) 2 – B      B) 2 – C      C) 2 – D

**8-) İkinci sınıflarda toplam kaç öğrenci vardır?**





- A) 119      B) 120      C) 129

**9-) 2 – C ile 2 – D sınıflarının toplam mevcudu kaçtır?**

- A) 56      B) 58      C) 60

**10-) 2 – A sınıfının mevcudu 2 – D sınıfının mevcudundan kaç fazladır?**

- A) 3      B) 4      C) 5

İnek	
Tavuk	
Civciv	
Balık	

**Her Şekil 1 öğrenci göstermektedir.**

Yukarıdaki grafikte bir sınıfta öğrenciler arasında en çok sevilen hayvanlar gösterilmiştir. Buna göre 11. 12. 13. 14. ve 15. soruları cevaplayınız.

**11-) En çok sevilen hayvan hangisidir?**

- A) Balık      B) Tavuk      C) İnek

**12-) En az sevilen hayvan hangisidir?**

- A) İnek      B) Tavuk      C) Civciv

**13-) En çok ve en az sevilen hayvanlar arasındaki fark kaçtır?**

- A) 7      B) 4      C) 3

**14-) En az sevilen hayvanlardan ikisinin toplamı kaçtır?**

- A) 7      B) 8      C) 9

**15-) Sınıfta toplam kaç öğrenci vardır?**

- A) 18      B) 19      C) 20

Dersler	Notlar
Türkçe	5
Matematik	4
Hayat Bilgisi	5
Müzik	4
Görsel Sanatlar	5
Beden Eğitimi	5

Yukarıdaki tablo Mehmet'in derslerde aldığı notları göstermektedir. Buna göre 16. 17. 18. 19. ve 20. soruları cevaplayınız.

**16-) Mehmet kaç dersten 5 almıştır?**

- A) 4      B) 3      C) 5

**17-) Mehmet'in aşağıda verilen hangi dersteği notu 4 değildir?**

- A) Matematik      B) Müzik      C) Beden Eğitimi

**18-) Mehmet kaç dersten 4 almıştır?**

- A) 3      B) 2      C) 1

**19-) Toplam kaç dersin notu gösterilmiştir?**

- A) 5      B) 4      C) 6





**20-) Aşağıdaki hangi dersin notu 5 değildir?**

- A) Türkçe      B) Müzik      C) Görsel Sanatlar

Kız Öğrenciler	
Erkek Öğrenciler	
Her şekil 7 öğrenciyi göstermektedir.	

21. 22. 23. 24. soruları yukarıdaki grafiğe göre yanıtlayınız.

21. Sınıfta kaç kız öğrenci vardır?  
A) 28 B) 32 C) 35
22. Sınıfta kaç erkek öğrenci bulunmaktadır?  
A) 18 B) 21 C) 27
23. Erkek öğrenciler kız öğrencilerden kaç eksiktir?  
A) 14 B) 2 C) 24
24. Bu sınıfın öğrenci mevcudu kaçtır?  
A) 56 B) 70 C) 45

Papatya	
Lale	
Gül	
Menekşe	
Her şekil 4 varlığı göstermektedir.	

Yukarıdaki şekil grafiğinde bir çiçekçi dükkânında bulunan çiçeklerin sayısı gösterilmektedir.

Aşağıdaki 25, 26, 27, 28, 29, 30 ve 31. soruları yukarıdaki grafiğe göre yanıtlayınız.

25. Dükkânda kaç tane papatya vardır?  
A) 15 B) 20 C) 25
26. Dükkânda kaç tane gül vardır?  
A) 12 B) 10 C) 8
27. Dükkânda kaç tane menekşe vardır?  
A) 32 B) 30 C) 28
28. En az ve en çok çiçek sayısının toplamı kaçtır?  
A) 40 B) 36 C) 34
29. Bu dükkânda toplam kaç çiçek vardır?  
A) 17 B) 68 C) 56
30. Papatya ile gül sayısı arasındaki fark kaçtır?  
A) 8 B) 10 C) 12
31. Laleye kaç tane daha eklersek menekşe sayısına eşit olur?  
A) 20 B) 5 C) 25

2014 Yılı	30
2015 Yılı	15
2016 Yılı	45
2017 Yılı	20

Aşağıda yıllara göre okul bahçesine dikilen ağaçların sayısı verilmiştir. Aşağıdaki 32,33, 34 ve 35. soruları yukarıdaki tabloya göre yanıtlayınız.

- 32) En fazla ağaç hangi yılda dikilmiştir?  
A) 2015 B) 2016 C) 2017
33. En az ağaç hangi yılda dikilmiştir?  
A) 2017 B) 2014 C) 2015
34. En fazla ve en az ağaç dikilen yıllar arasındaki fark kaçtır?  
A) 10 B) 20 C) 30
35. Okul bahçesine toplam kaç ağaç dikilmiştir?  
A) 90 B) 100 C) 110

TABLO: Hakan'ın okuduğu sayfa sayısı	
GÜNLER	SAYFA SAYISI
PAZARTESİ	12
SALI	15
ÇARŞAMBA	6
PERŞEMBE	15
CUMA	9

Hakan bir hikaye kitabını 5 günde bitirdi. Yukarıdaki tabloya göre 36, 37, 38 ve 39. Soruları Cevaplayalım.

36. Hangi günler okuduğu sayfa sayısı eşit sayıdadır?  
A) Pazartesi-Salı B) Çarşamba-Perşembe  
C) Salı-Perşembe
37. Hakan'ın hangi gün okuduğu sayfa sayısı en azdır?  
A) Çarşamba B) Cuma C) Pazartesi
38. Hakan'ın okuduğu kitabı kaç sayfadır?  
A) 55 B) 57 C) 59
39. İlk dört gün sonunda kitabın okunmadık kaç sayfası kalmıştır?  
A) 6 B) 9 C) 12

TABLO: Bahçedeki ağaçlar	
AĞAÇLAR	AĞAÇ SAYISI
ÇAM	12
AKASYA	15
KAVAK	6

40. Hangi ağaç sayısı en çoktur?  
A) Akasya B) Kavak C) Çam
41. Bahçedeki ağaç sayısı toplamı kaçtır?  
A) 35 B) 34 C) 33