

5 N - 1 K

Ne?

Nerede ?

Ne zaman ? Kim ?

Nasıl ?

Niçin ?

1.) Aşağıdaki cümlelerde altı çizili sözcüklere uygun sorular yazınız.

a) soru:.....

cevap : Pazardan iki kilo elma aldım.

b) soru:.....

cevap : Hasta olmamak için aşı olmalıyız.

c) soru:.....

cevap : Annem romanı kısa zamanda okudu.

ç) soru:.....

cevap : Okula giderken koşa koşa gitti.

d) soru:

cevap: Ayşe resim defterini evde unutmuş.

e) soru:.....

cevap: Teyzem cuma günü gelecekti.

2.) Aşağıdaki cümlelerde hangi soruların

cevabı vardır?

a) Dayım hızlı hızlı yürümü.

.....

.....

b) Selin cumartesi günü sinemaya gitmiş.

.....

.....

c) Sena kalın romanı okudu.

.....

.....

ç) Marketten iki şişe süt aldım.

.....

.....

.....

d) Seyhan parkta oynadı .

.....

.....

3.) "Parkta arkadaşlarıyla oyun oynadılar."

Cümlesinde " Ne ? " sorusunun cevabı hangi sözcüktür?

.....

4.) " Akşamüstü eve döndü."

Cümlesinde " Ne zaman ? " sözcüğünün cevabı hangi sözcüktür?

.....

.....

5.) " Çok yorulduğu için erkenden yattı."

Cümlesinde " Niçin ? " sözcüğünün cevabı hangi sözcüktür?

.....

.....

6.) " Yemeğini oturarak yedi."

Cümlesinde " Nasıl ? " sözcüğünün cevabı hangi sözcüktür?

.....

.....

7.) " Dün gece dayım geldi."

Cümlesinde " Kim ? " sözcüğünün cevabı hangi sözcüktür?

.....

.....

8.) " Arka bahçede basketbol oynadık."

Cümlesinde " Kim ? " sözcüğünün cevabı hangi sözcüktür?

.....

.....

SORU CÜMLESİ YAZIYORUM

Ne? , Kim? , Nasıl?, Niçin? , Nerede? Ne zaman? , Nereye? , Neden? , ... Mı? , ... Mi? , ...mu? , ...mü?

NOT: Her bölümde 3 farklı soru kelimesi veya soru eki kullanınız.

ÖRNEK Öğretmen karneleri dağıtınca çok sevindim.

S1 Öğretmen *ne* dağıttı?

S2 *Niçin* çok sevindim?

S3 Karneleri *kim* dağıttı?

Yarın yapılacak sınava iyi hazırlandı.

S1

S2

S3

Yere düşen bardağı son anda tuttu.

S1

S2

S3

Babam öğretmenimle görüşmek için okula geldi.

S1

S2

S3

Kedimiz Pamuk'a sıcak süt verdim.

S1

S2

S3

Babam yarın mobilyacıya kadar gidecek.

S1

S2

S3

Her gün bir saat kitap okurum.

S1

S2

S3

SAATLER

Aşağıda gösterilen saatlerin kaçı gösterdiğini yazınız.



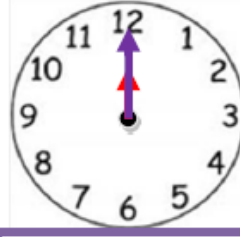
Öğleden Önce:
.....03:40.....
Öğleden Sonra:
15:40



Öğleden Önce:
Öğleden Sonra



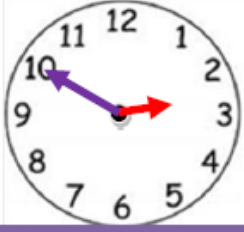
Öğleden Önce:
Öğleden Sonra



Öğleden Önce:
Öğleden Sonra



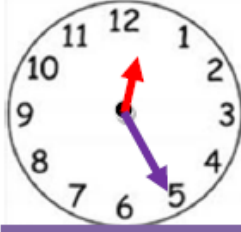
Öğleden Önce:
Öğleden Sonra



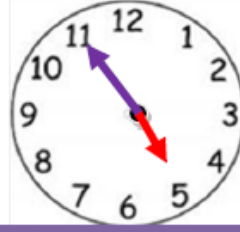
Öğleden Önce:
Öğleden Sonra



Öğleden Önce:
Öğleden Sonra



Öğleden Önce:
Öğleden Sonra



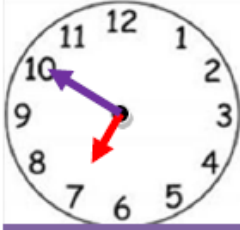
Öğleden Önce:
Öğleden Sonra



Öğleden Önce:
Öğleden Sonra



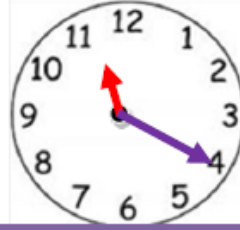
Öğleden Önce:
Öğleden Sonra



Öğleden Önce:
Öğleden Sonra



Öğleden Önce:
Öğleden Sonra



Öğleden Önce:
Öğleden Sonra



Öğleden Önce:
Öğleden Sonra



Öğleden Önce:
Öğleden Sonra



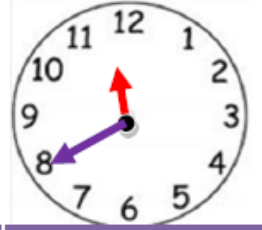
Öğleden Önce:
Öğleden Sonra



Öğleden Önce:
Öğleden Sonra




Öğleden Önce:
Öğleden Sonra




Öğleden Önce:
Öğleden Sonra

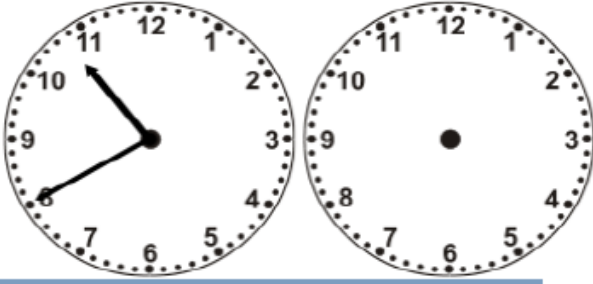
Boş saatleri alttaki yazılan zamana göre çizin.



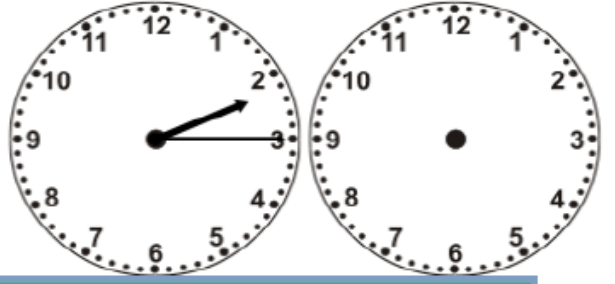
10 dakika sonra saat kaç olur?



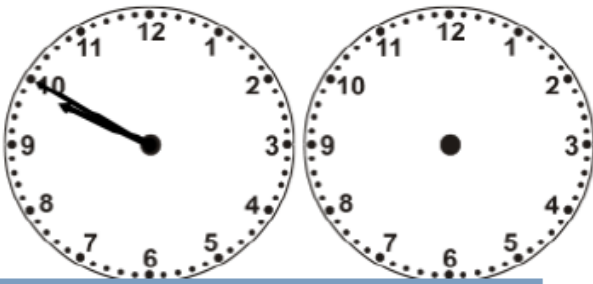
30 dakika sonra saat kaç olur?



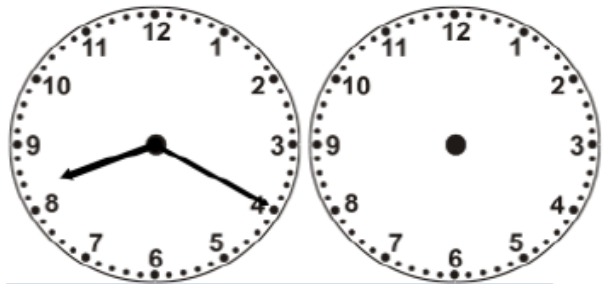
40 dakika sonra saat kaç olur?




45 dakika sonra saat kaç olur?



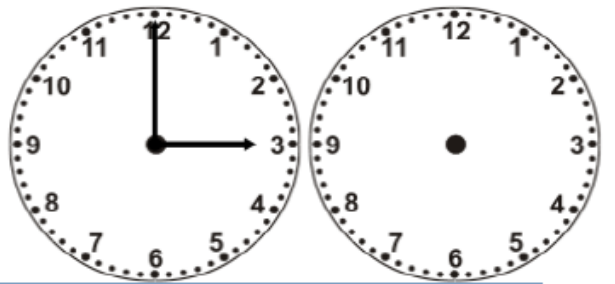
1 saat 20 dakika sonra saat kaç olur?



2 saat 40 dakika sonra saat kaç olur?



4 saat 30 dakika sonra saat kaç olur?



27 saat sonra saat kaç olur?

3 saat 40 dakika = dakika

2 saat çeyrek dakika = dakika

125 dakika = saat dakika

100 dakika = saat dakika

185 dakika = saat dakika

155 dakika = saat dakika