

KISALTMALARIN YAZIMI

Aşağıdaki verilen kurum adlarının kısaltmalarını yazınız.

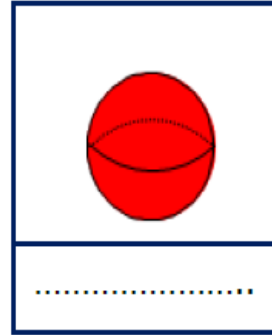
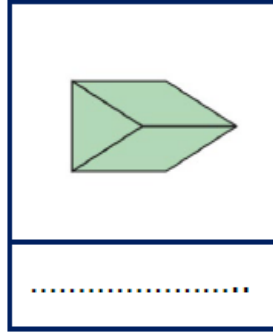


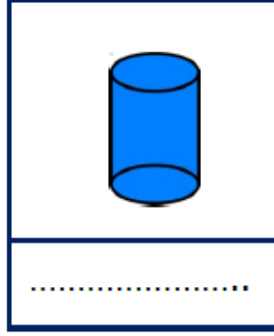
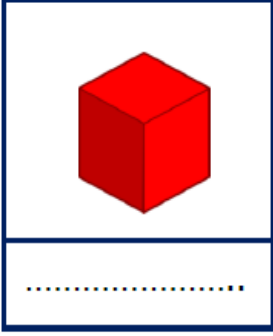
1	İstanbul Teknik Üniversitesi		TDK
2	Televizyon		İng.
3	Orta Doğu Teknik Üniversitesi		AKM
4	Marmara Üniversitesi		KBB
5	İngilizce		TV
6	Türk Dil Kurumu		AA
7	Türk Tarih Kurumu		TTK
8	Radyo Televizyon Üst Kurulu		RTÜK
9	Anadolu Ajansı		İTÜ
10	Atatürk Kültür Merkezi		TSK
11	Acele Posta Servisi		TSE
12	Devlet Su İşleri		TL
13	Kulak,Burun,Boğaz		MÜ
14	Kara Kuvvetleri Komutanlığı		ODTÜ
15	Kuzey Kıbrıs Türk Cumhuriyeti		APS
16	Kamu Personeli Seçme Sınavı		ÖTV
17	Özel Tüketim Vergisi		KPS
18	Katma Değer Vergisi		KDV
19	Türk Lirası		DSİ
20	Türk Silahlı Kuvvetleri		KKK
21	Türk Standartları Enstitüsü		KKTC

Aşağıda verilen kısaltmaları ile anlamlarını eşleştirelim.

	KISALTMALAR		ANLAMLARI
1	Ecz.		Fenerbahçe
2	ed.		Sosyal Güvenlik Kurumu
3	f.		Türkiye
4	G		fil
5	GAP		Milli İstihbarat Teşkilatı
6	GB		Güneydoğu
7	GD		Numara
8	Gen.		Güney
9	yy.		İngiltere
10	Kr		Kuruş
11	GS		Mareşal
12	FB	1	Eczane
13	BJK		Türk Silahlı Kuvvetleri
14	Mat.		Edebiyat
15	Hv. Kuv.		Genel
16	SGK		Güneydoğu Anadolu Projesi
17	İng.		Matematik
18	TMO		Güneybatı
19	TR		Milli Savunma Bakanlığı
20	KBB		Maden Tetkik Arama
21	TSK		Milattan Sonra
22	MSB		Galatasaray
23	MİT		Hava Kuvvetleri
24	Mrşl.		Kulak Burun Boğaz
25	MTA		Beşiktaş
26	MS		Toprak Mahsulleri Ofisi
27	Nu.		Yüzyıl

GEOMETRİK CİSİMLER

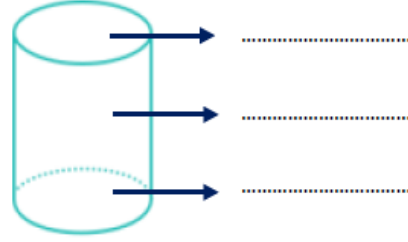
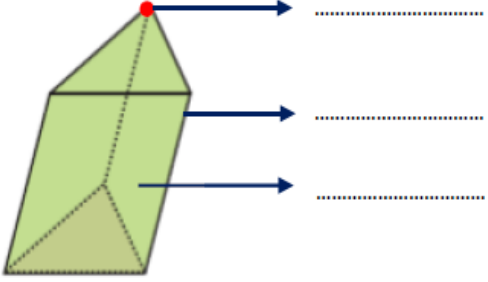
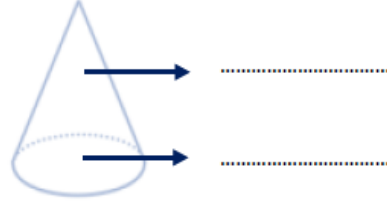
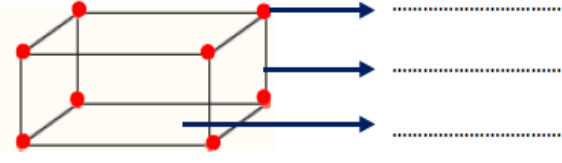
Aşağıdaki geometrik cisimlerin isimlerini yazınız.



Aşağıdaki nesnelerin hangi geometrik cisimlere benzediğini altlarına yazınız.



Aşağıdaki geometrik cisimlerin köşelerini, ayrıtlarını ve yüzeylerini yazınız.



Açınımları verilen geometrik cisimlerin adlarını yazınız.

