

## SAATLER

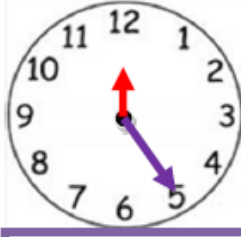
Aşağıda gösterilen saatlerin kaçı gösterdiğini yazınız.



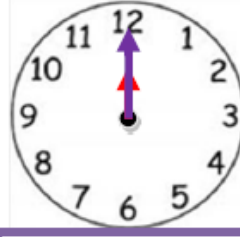
Öğleden Önce:  
.....03:40.....  
Öğleden Sonra:  
15:40



Öğleden Önce:  
Öğleden Sonra



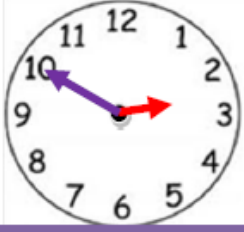
Öğleden Önce:  
Öğleden Sonra



Öğleden Önce:  
Öğleden Sonra



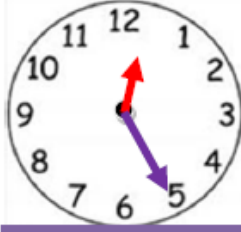
Öğleden Önce:  
Öğleden Sonra



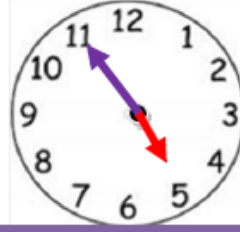
Öğleden Önce:  
Öğleden Sonra



Öğleden Önce:  
Öğleden Sonra



Öğleden Önce:  
Öğleden Sonra



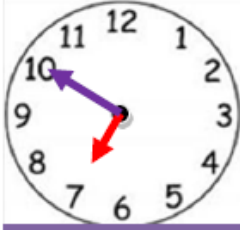
Öğleden Önce:  
Öğleden Sonra



Öğleden Önce:  
Öğleden Sonra



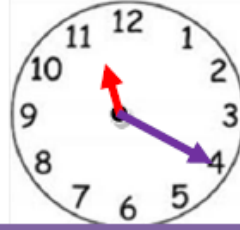
Öğleden Önce:  
Öğleden Sonra



Öğleden Önce:  
Öğleden Sonra



Öğleden Önce:  
Öğleden Sonra



Öğleden Önce:  
Öğleden Sonra



Öğleden Önce:  
Öğleden Sonra



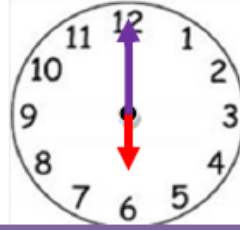
Öğleden Önce:  
Öğleden Sonra



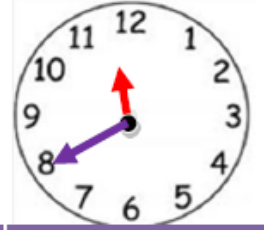
Öğleden Önce:  
Öğleden Sonra



Öğleden Önce:  
Öğleden Sonra




Öğleden Önce:  
Öğleden Sonra




Öğleden Önce:  
Öğleden Sonra


Boş saatleri alttaki yazılan zamana göre çiziniz.



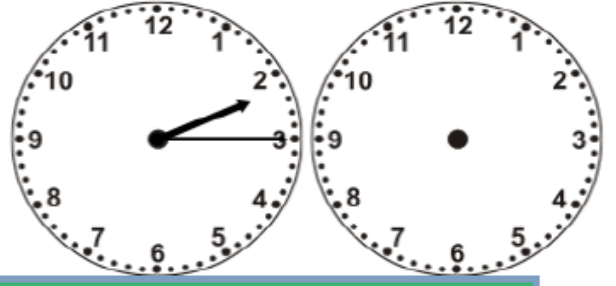
10 dakika sonra saat kaç olur?



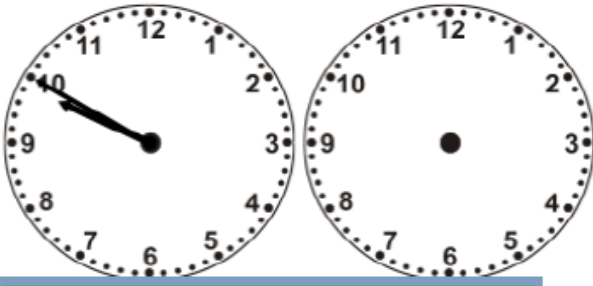
30 dakika sonra saat kaç olur?




40 dakika sonra saat kaç olur?




45 dakika sonra saat kaç olur?



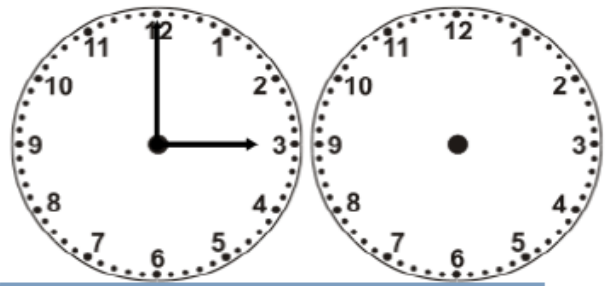
1 saat 20 dakika sonra saat kaç olur?



2 saat 40 dakika sonra saat kaç olur?



4 saat 30 dakika sonra saat kaç olur?



27 saat sonra saat kaç olur?

3 saat 40 dakika =  saat  dakika

2 saat çeyrek dakika =  saat  dakika

125 dakika =  saat  dakika

100 dakika =  saat  dakika

185 dakika =  saat  dakika

155 dakika =  saat  dakika

## HAYAT BİLGİSİ DEĞERLENDİRME SORULARI

1-Kurtuluş Savaşı'nda Türk milletine kim **liderlik yapmıştır?**

A-İsmet İnönü B-Kazım Karabekir Paşa C-Mustafa Kemal Atatürk

2-Aşağıdaki ifadelerden hangisi doğru bir ifade **değildir?**

A-Ödünç aldığım kitabı zamanında teslim ederim B-Ödünç aldığım eşyayı geri verirken teşekkür etmem  
C-Ödünç aldığım eşya zarar gördüğünde bedelini derim

3-Evde **yangın** çıkarsa aramamız gereken numara hangisidir?

A-118 B-110 C-155

4-Aşağıdakilerden hangisi deprem öncesi **yapılması gerekenlerden biridir?**

A-Gerçek olmayan deprem haberlerine inanmak B-Depreme dayanıksız evler yapmak  
C-Evdeki eşyaları sabitlemek

5-Aşağıdaki denizlerden hangisi yurdumuzun çevresinde **bulunmaz?**

A-Kızıldeniz B-Karadeniz C-Ege Denizi

6-“Ülkemizin haritasında ..... renkte alanlar denizleri ve gölleri, ..... renkteki alanlar ise dağları göstermektedir.”

Yukarıdaki açıklamaya göre noktalı yerlere hangisi **yazılmalıdır?**

A-sarı-yeşil B-mavi-kahverengi C-sarı-mavi

7-Seçimlerde oy kullanmaya giden insanlar hangi haklarını yerine **getirmektedirler?**

A-Seyahat hakkı B-Seçme ve seçilme hakkı C-Öğrenim hakkı

8-Atık maddelerin geri dönüşüm yoluyla değerlendirilmesinin **en olumlu sonucu** hangisidir?

A-Çevrenin zarar görmesi önlenir, çevre korunur B-Atık toplayan kişiler para kazanır  
C-Çocuklar boş zamanlarını değerlendirir

9- Aşağıdakilerden hangisi üçüncü sınıfa giden bir öğrencinin yapabileceği işlerden **değildir?**

A-Kahvaltı yapmak B-Bilgisayar tamir etmek C-Kitaplarını kitaplığa yerleştirmek

10- I-Yere düştüğümüzde bir yerimiz acır- Sevinmek

II-Evde yalnız kalırız – Korkmak

III-Lunaparkta eğleniriz- Üzülme

Yukarıdaki olaylara göre yaşanan duygulardan hangilerinin **yer değiştirmesi gerekir?**

A- I – II B- I - III C- II – III

11-Aile içindeki olaylardan hangisi bizi **mutlu eder?**

A-Sağlıklı bir kardeşimizin doğması B-Babamızın işlerinin bozulması C-Dedenizin kalp krizi geçirmesi

12-Çocukları çok seven onları oynatmayı çok seven birisinin hangi mesleği seçmesi **daha uygun olur?**

A-avukatlık B-veterinerlik C-öğretmenlik

13-Hava sıcaklığını hangi alet ile ölçeriz?

A-metre B-termometre C-mikroskop

14-Atatürk Kurtuluş Savaşı'nı **ne zaman ve nerede başlatmıştır?**

A-Afyonkarahisar– 27 Ağustos 1922 B-Samsun– 19 Mayıs 1919 C-Ankara – 23 Nisan 1920

15-Atatürk'ün **barıştan yana bir lider** olduğunu hangi sözlerinden anlayabiliriz?

A-Ne mutlu Türk'üm diyene B-Yurtta barış, dünyada barış C-Öğretmenler yeni nesil sizlerin eseri olacaktır

16-Bayrağımızla ilgili bilgilerden hangisi **yanlıştır?**

A-Bayrağımızda üç renk vardır B-Bayrağımızda ay hilal şeklindedir

C-Bayrağımız bağımsızlığımızın sembolüdür

17-Aşağıdakilerden hangisi cumhuriyetimizi güçlendirmek için yapılması gerekenlerden **değildir?**

A-Yer altı kaynaklarımızı verimli ve akıllıca kullanmak B-Milletimizin eğitim seviyesini düşürmek  
C-Sağlık alanında yenilikler yapmak ve daha sağlıklı bir nesil oluşturmak

18-Kışın buz üzerinde kayan öğrenciler **suyun hangi halini görmektedirler?**

A-katı B-sıvı C-gaz

19-Buhar halinde bulunan bir bulutun soğuk bir hava ile karşılaşması sonucunda hangisi **oluşmaz?**

A-rüzgar B-kar C-yağmur

20-Yağışlı havalarda hangisini yapmak doğru **değildir?**

A-Araba ile aşırı hızlı gitmek B-Trafik kurallarına uymak C-Yağmurluk veya şemsiye taşımak

21-Ay ile ilgili bilgilerden hangisi **yanlıştır?**

A-Ay , Güneşin etrafındaki dönüşünü 365 gün altı saatte tamamlar

B-Ay , Dünyanın ve Güneşin etrafında döner C-Ay, Dünyaya Güneşten daha yakındır

22-Dünya üzerinde **mevsimlerin oluşması için** ne olmalıdır?

A-Dünyanın kendi etrafında sürekli dönmesi

B-Ayın dünyanın etrafında dönmesi

C-Dünyanın Güneşin etrafında dönmesi

23-Aşağıdaki ulaşım araçlarının hangisinde bir seferinde **daha çok yolcu ve yük** taşınabilir?

A-tren B-otomobil C-helikopter

24-Aşağıdaki icatlardan hangisi diğerlerinden **daha sonra** yapılmıştır?

A-pusula B-cep telefonu C-ampul

25-Uzaktaki insanlarla sesli ve görüntülü olarak iletişim kurmak için aşağıdaki hangi araçtan  **faydalanamayız?**

A-Buzdolabı B- saat C- Bilgisayar

26-Günümüzde iletişim ve haberleşme alanında **en fazla kullandığımız** teknolojik araçlar hangisidir?

A-Gazeteler ve dergiler B-Bilgisayar ve internet

C-Fotoğraf makinesi ve kamera

27-Aşağıdaki yapıların hangisinde **daha fazla insan yaşayabilir?**

A-Apartman B-ev C-gökdelen

28-Aşağıdaki ifadelerden hangisi **doğru bir ifadedir?**

A-İnsanları oynadıkları oyunlar zaman içinde değişirler B-Bilgisayar oyunlarının hepsi çocuklar için faydalıdır

C-Dedelerimizin zamanındaki en güzel oyunlar bilgisayar oyunlarıydı

29-Bilim, sanat ve kültür eserlerinin **korunduğu ve sergilendiği yere** ne ad verilir?

A-cami B-müze C-stadyum

30-Canlılar hayatlarını sürdürebilmek için hangilerine **ihtiyaç duyarlar?**

A-Besin-su-hava B-Benzin-hava-ateş C-ev- su –elektrik

31-Bitkilere **aşırı miktarda su vermenin** zararı ne olabilir?

A-Bitkinin kökünün çürümesi B-Bitkinin yapraklarının hızla büyümesi C-Bitkinin dallarının uzaması

32-Aşağıdaki hayvanlardan hangisinin **hem etinden hem sütünden** faydalanırız?

A-tavuk B-keçi C-balık

33-Hangi besin zinciri sıralaması **doğrudur?**

A- ot –tavuk –koyun B- tilki-inek-insan C- ot-ceylan-aslan

34-Aşağıdaki seçenekteki hayvanların **tamamı** et ile beslenir?

A-at - keçi – aslan B- tilki – aslan – kurt

C- penguen – yılan - keçi

35-Dağlardan ve tepelerden karın kopup hızla **asağıya yuvarlanması** olayına ne denir?

A-çığ B-tsunami C-hortum

36-Orman yangınlarının **en çok olduğu mevsim** hangisidir?

A-kış B-yaz C-sonbahar

37-Çevre kirliliğinin **en önemli sorumlusu** hangi canlıdır?

A-insanlar B-hayvanlar C-bitkiler