

HAYAT BİLGİSİ DEĞERLENDİRME TEST

1-Funda görsel sanatlar dersinde arkadaşları resim yaparken resim araç gereçlerini getirmediği için kenarda oturmak zorunda kalmıştır.Sizce Funda'nın **hatası ne olabilir?**

A-Okula hazırlıklı gelmemiştir B-Derse girmemiştir C-Resim yapmak istememiştir

2- a-Müzik dinlemeyi sevmek b-Saç şekli c-Kitap okumayı sevmek
d-Boy uzunluğu e-Göz rengi f-Utangaç olmak

Yukarıdaki özelliklerden hangileri **fiziksel özelliklerimizle ilgilidir?**

A- c – e – f B- b – d – e C- a – c- f

3-Aşağıdakilerden hangisi **iyi bir arkadaşın özelliğidir?**

A-Kavgacı olması B-Eşyalarımızı izinsiz kullanması C-Anlayışlı ve kibar biri olması

4-Aşağıdaki ifadelerden hangisi okulda öğretmenlerimize ve arkadaşlarımıza kullandığımız ifadelerden **değildir?**

A-Günaydın B-Eline sağlık C-Geçmiş olsun

5-Aşağıdaki davranışlardan hangisi öfkemizi yenmemize **yardımcı olabilir?**

A-Arkadaşlarımızın kalbini kırmak B-Önce düşünmek sonra bulunduğumuz yeri terk etmek
C-Bağırarak haklılığımızı söylemek

6-Sınıfımıza yeni gelen arkadaşımıza karşı hangisini **yapmamalıyız?**

A-Ona okulun bölümlerini tanıtmalıyız B-Onunla tanışıp arkadaş olmalıyız C-Kendisiyle hiç konuşmamalıyız

7-Demokrasiyi benimsemiş birisi aşağıdakilerden hangisini **söylenmelidir?**

A-Sınıf başkanlığı seçiminde herkes istediğine oy verir B-Okulda herkes istediği ile arkadaş olabilir
C-Bizimle aynı şeyi düşünmeyenler cezalandırılmalı

8-

Firuze ince esli ve zayıf bir öğrencidir.Bu yüzden bazı arkadaşları onunla alay edip konuşmasını taklit ediyorlardı.Firuze ise bu arkadaşlarının yaptıklarına çok üzülüyordu.

Aşağıdakilerden hangisi Firuze'nin **üzülmesini engelleyebilir?**

A-Firuze'nin de arkadaşlarıyla alay etmesi
B-Sınıf öğretmenin öğrencilere her insanın farklı özellikte yaratıldığını ve bu özelliklerle alay edilmemesi gerektiğini anlatması
C-Firuze'nin arkadaşlarını babasına şikayet etmesi

9-Aşağıdaki davranışlardan hangisi **olumsuz sonuçlara neden olabilir?**

A-Düzenli ve çalışkan arkadaşlarımızı kıskanmak B-Kavga etmek isteyen iki arkadaşımızı sakinleştirmek
C-Birbirleriyle küs olan arkadaşlarımızı barıştırmak

10-Kroki ile ilgili hangi **bilgi yanlıştır?**

A-Krokilerde ölçüm yapılmaz B-Okulumuzun yerini kroki çizerek gösterebiliriz
C-Gemi kaptanları gidecekleri yerleri kroki ile bulur

11-Okulumuzun tarihi ile ilgili en doğru bilgiye hangi kaynaktan **ulaşabiliriz?**

A-Sınıf öğretmenimizden B-Okul müdüründen C-Kantin görevlisinden

12-“ Zeynep oturduğu sıranın çok yıpranmış olduğunu gördü.” Buna göre Zeynep'ten önce bu sırada oturan öğrenciler için hangisi **söylenbilir?**

A-Çalışkan oldukları B-Sınıf eşyasını özensiz kullandıkları C-Okul araç gereçlerini dikkatli kullandıkları

13-Okulda oynadığımız oyunlarda kadar doğaldır.

Yukarıda boş bırakılan yerlere hangisi **gelmelidir?**

A-kavga etmek – küfür etmek de B-kazanmak – kaybetmek de C-Hile yapmak – mızıkçılık yapmak ta

14-Aşağıdakilerden hangisi okulda **uyulması gereken kurallardandır?**

A-Açıktaki satılan yiyeceklerden almak B-Okula zamanında gelip gitmek C-Okulda kavga çıkarmak

15-Okul ile ilgili aşağıdaki bilgilerden hangisi **doğru bir bilgidir?**

- A-Okul konuşmayı öğrendiğimiz yerdir B-Okulda kendimizi geliştirmemiz için gerekli bilgileri öğreniriz
C-Okulda sadece önceki bilgilerimizi tekrar ederiz

16-Kişisel bakımımızı yaptığımız sırada hangisini kullanırken **tutumlu olmalıyız?**

- A-Sıvı sabun B-Tarak C-Diş fırçası

17-“ çocuklar derslerinde daha başarılı olur” cümlesinde boş bırakılan yere hangisi **yazılmalıdır?**

- A-Çok uyuyan B-Düzenli beslenen C-Tembellik yapan

18-Aşağıdakilerden hangisi dengeli beslenmeye uygun bir davranış **değildir?**

- A-Et ,süt ve yumurta gibi besinleri tüketmek B-Cips ve kolayı istediğimiz zaman tüketmek
C-Okula kahvaltı yaparak gelmek

19-Bulaşıcı hastalıklara yakalanmamak için **hangisini yapmalıyız?**

- A-Aşı olmalıyız B-Spor yapmalıyız C-Çok yemek yemeliyiz

20- Aşağıdakilerden hangisi acil durumlarda aranması gereken bir telefon numarası **değildir?**

- A-112 : Acil servis B-171 : Sigara bırakma hattı C-155 : Polis imdat

21-“ Geçmişte yaşanan olayları ve kahramanlıkları hatırlamak amacıyla kutlanan bayramlara **dini bayramlar** deriz.” Yukarıdaki cümlede yapılan **yanlışlığı nasıl giderebiliriz?**

- A-“ Dini” sözcüğünün yerine “ eski ” sözcüğünü yazarak
B- “ Bayramlar ” sözcüğünün yerine “şenlikler ” sözcüğünü yazarak
C- “Dini” sözcüğü yerine “milli” sözcüğünü yazarak

22-Aşağıdaki hangi seçenekte **yanlış bir bilgi verilmiştir?**

- A-Özel günler yalnız kutlanan günlerdir B-Özel günlerde yapılan etkinliklerde birbirimize sevgimiz artar
C-Özel günlerde yardımlaşma daha çok görülür

23- Her yıl **30 Ağustos tarihinde** kutladığımız bayram **hangisidir?**

- A-Cumhuriyet Bayramı B-Ramazan Bayramı C-Zafer Bayramı

24-Aşağıdaki ürünlerden hangisini **daha kısa sürede tüketmemiz gerekir?**

- A-Süt B-Makarna C- Pirinç

25-Bilgisayar, televizyon, projeksiyon gibi teknolojik araçlar okulda **hangi amaç için kullanılır?**

- A-Okulu daha eğlenceli hale getirmek için B-Daha etkili ders işlemek için C-Defter ve kitap kullanmamak için

26-“ Trafik polisleri trafikte taşıtların ve düzgün bir şekilde hareket etmesini sağlar.” cümlesini tamamlayan **en uygun kelime** hangisidir?

- A-Hayvanların B-Yayaların C- Arkadaşların

27-Aşağıdaki önerilerden hangisini kabul etmek **sorun yaşamamıza neden olabilir?**

- A-Ailemizden izin alıp sinemaya gidelim B-Gel seni annene götürüyüm C-Yarın ailelerimizle pikniğe gidelim

28-Okula geliş gidişlerde hangi yolu **tercih etmeliyiz?**

- A-Daha kısa zamanda ulaşmak için kısa yolu B-Oynayarak gitmek için parklarının olduğu yolu
C-Herkesin kullandığı güvenli yolu

29-Mustafa Kemal büyüyünce hangi mesleği seçmek **istiyordu?**

- A-Pilotluk B-Polislik C-Subaylık

30-Aşağıdakilerden hangisi insan sağlığını doğrudan ilgilendiren bir öğrenci kulübü **değildir?**


- A-Müzik kulübü B-Sağlık ve Temizlik kulübü C-Trafik ve İlk Yardım Kulübü

31-Aşağıdaki davranışlardan hangisi arkadaşlarımızla ilişkilerimizi **olumsuz etkiler?**

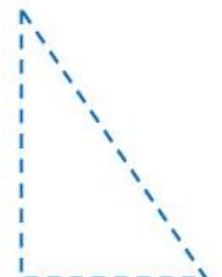
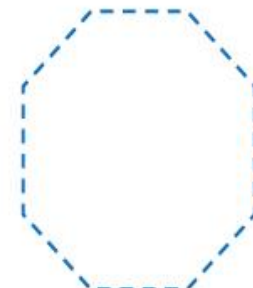
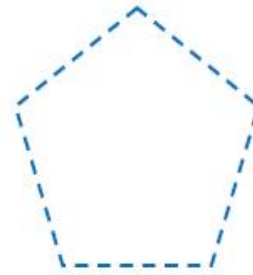
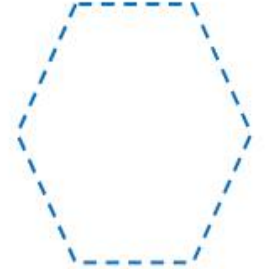
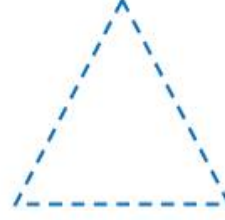
- A-Arkadaşımıza karşı dürüst olmak B-Derslerde başarısız olan arkadaşımıza yardımcı olmak
C-Arkadaşımızın sırlarını başkalarına söylemek

NESNELERİN ÇEVRELERİNİ BELİRLEYELİM


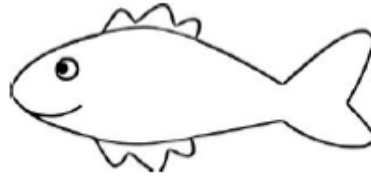
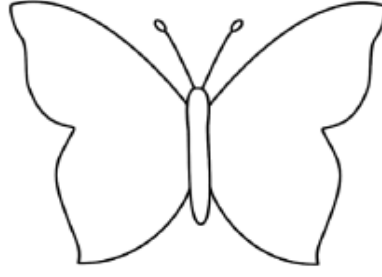

Aşağıdaki nesnelerin çevrelerini örnekteki gibi noktalardan başlayarak renkli kalemle çizin.



Aşağıda verilen geometrik şekillerin noktalarını birleştirerek çevrelerini belirleyelim.



Aşağıdaki görsellerin çevrelerini belirleyelim.



Aşağıdaki şekillerin çevrelerini noktalı yerlerden başlayarak renkli kalemle çiziniz.

