

TEST SORULARI

1. 23 Nisan günü niçin bayram yapıyoruz?

- A. Cumhuriyet ilan edildiği için
- B. Atatürk Samsun'a çıktığı için
- C. T.B.M. Meclisi açıldığı için.

2. 23 Nisan'da kutladığımız bayramın adı nedir?

- A. Zafer Bayramı
- B. Cumhuriyet Bayramı
- C. Ulusal Egemenlik ve Çocuk Bayramı



3. T.B.M.M. nerede açılmıştır?

- A. İstanbul'da
- B. Ankara'da
- C. Erzurum'da



Vatanını sevdiği için

4.



Çocukları çok sevdiği için



Kurtuluş savaşını kazandığı için.

Kahramanlarımızdan hangisi Atatürk'ün 23 Nisan gününü çocuklara niçin bayram olarak armağan ettiğini doğru olarak ifade etmiştir?



A.



B.




C.

5. İlk cumhurbaşkanımız kimdir?

- A. Atatürk
- B. Okul Müdürü
- C. İsmet İnönü

6.



Yurdumuzu kurtarmak için Atatürk'ün gittiği ilimiz hangisidir?

- A. Erzurum
- B. Ankara
- C. Samsun

Atatürk Samsun'a ne zaman geldi?



7.

- A. 29 Ekim 1923
- B. 23 Nisan 1920
- C. 19 Mayıs 1919

8. Cumhuriyetten önce devletimizi kim yönetirdi?

- A. Cumhurbaşkanı
- B. Krallık
- C. Padişah

9. Hangi savaştan sonra yurdumuza düşmanlar girdi?

- A. Kurtuluş Savaşı
- B. Çanakkale Savaşı
- C. Ankara Savaşı



KURTULUŞ SAVAŞI

10. Aşağıdakilerden hangisi yanlıştır?

- A. Atatürk Amasya, Erzurum ve Sivas'ta toplantılar yaptı
- B. Atatürk 19 Mayıs 1919'da Samsuna geldi.
- C. 23 Kasım 1920'de T.B.M.M açıldı.

11. Atatürk nerde ne zaman doğdu?

- A. 1981 Selanik
- B. 1881 Selanik
- C. 1881 İstanbul



12. Aşağıdakilerden hangisi Atatürk İlkelerinden değildir?

- A) Cumhuriyetçilik
- B) Milliyetçilik
- C) Kütüphanecilik



13. Aşağıdakilerden hangisi Atatürk'ün kişisel özelliklerinden değildir?

- A.  *Zeki ve çalışkandı.*
- B.  *Çocukları çok sever gençlere güvenirdi*
- C.  *Herkese iyi davranmazdı*

14. İstiklal Marşımız söylenirken aşağıdakilerden hangisini yapmalıyız?

- A. Arkadaşlarımızla konuşmalıyız
- B. Hazır ol da marşımızı söyleriz.
- C. Arkadaşlara el sallamalıyız

15. Aşağıdakilerden hangisi Atatürk ilkelerinden biridir?




- A. Vatandaşlık
- B. Planlama
- C. Halkçılık

16. Bayrağımız rengini nereden almıştır?

- A. Kırmızı boyadan
- B. Şehitlerin kanından
- C. Renklerin karışımından



17. T.B.M. Meclisi ne zaman açılmıştır?

- A.  → 29 Ekim 1923
- B.  → 23 Nisan 1920
- C.  → 19 Mayıs 1919


- 18. 

."Mustafa Kemal. Samsun'a.....ile gitmiştir." cümlesini aşağıdakilerden hangisi ile tamamlarız?

- A. İstanbul vapuru
- B. Çanakkale vapuru
- C. Bandırma vapuru

19. Kurtuluş Savaşı niçin yapılmıştır?

- A. topraklarımızı genişletmek için
- B. düşmanı yurdumuzdan atmak için
- C. padişahı kurtarmak için

- 20.  *Atatürk nerde ne zaman öldü?*

- A. 10 Kasım 1938-İstanbul
- B. 10 Kasım 1923-Ankara
- C. 29 Ekim 1938-İstanbul

NOKTA

Aşağıda okunuşları verilen sıra sayılarını yazalım.

Dördüncü : Birinci :

Altıncı : Yedinci :

Onuncu : Yirminci :

ikinci : Üçüncü :

Aşağıdaki cümlelerin sonuna nokta koyunuz.

Yarın okula gideceğiz

Halil amca bahçeye havuz yaptı

Çocuklar kediye süt verdi

Aşağıdaki tarihlerde gün, ay ve yıl belirten sayıların arasına nokta koyalım.

15 25 2020 30 08 2019

10 12 1974 01 01 2021

24 02 1596 13 04 1888

Aşağıda belirtilen saat ve dakikaların arasına nokta koyalım.

12 20 10 30 22 10

18 15 21 10 07 30

08 10 11 40 12 35

19 25 10 55 02 10

Aşağıdaki Türkiye Haritası'nda belirtilen illeri nokta ile gösterelim.



Aşağıdaki kısaltmaların sonuna nokta koyalım.


Dr Mah

Av Cad

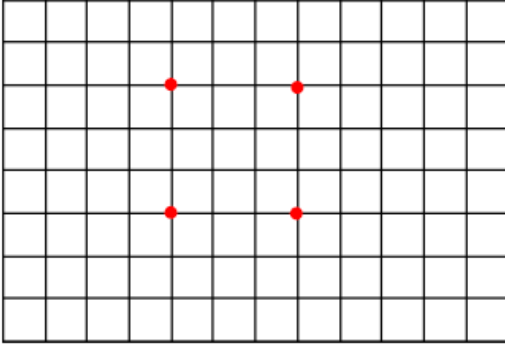
Prof Alb

İng vb

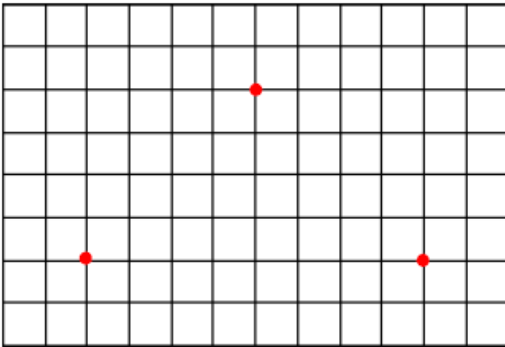
Aşağıdaki geometrik cisimlerin ve geometrik şekillerin köşelerine nokta koyalım.



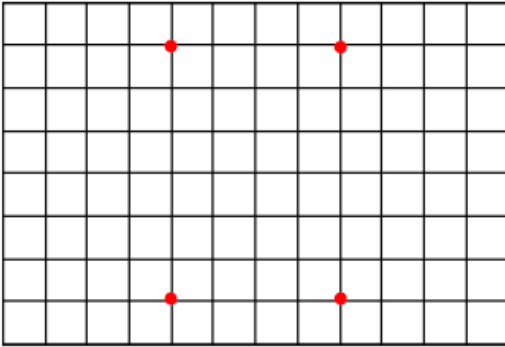
Aşağıdaki noktaları birleştirelim. Oluşan geometrik şeklin adını yazınız.



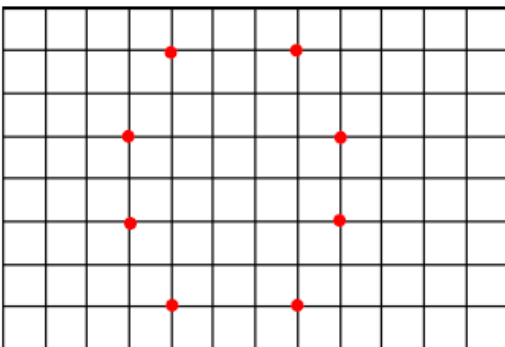
.....



.....



.....



.....

Aşağıdaki noktaları birleştirerek resimleri tamamlayınız.

