


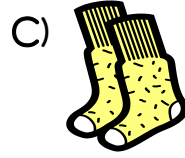
TÜRKÇE DERSİ SORULARI

1. Hangisi soru cümlesidir?
A) Nasılsın () B) Hoş geldiniz () C) Hoşça kal ()
2. Hangisi tek heceli bir sözcük değildir?
A) kalp B) şiir C) tren
3. Hangi cümlede kesme (') işareti yanlış kullanılmıştır?
A) Okul'un tatil olmasına az kaldı. B) Bolu'dan gitmeye karar verdi.
C) Yarın Erol'un doğum günüymüş.
4. "..... notlarım düştü." cümlesini hangisi tamamlar?
A) Çok çalıştığım için B) Çalışmayı sevdiğim için C) Çalışmadığım için
5. Cümlelerin hangisinde olayın sebebi bellidir?
A) Her gün okula gidiyorum. B) Hasta olduğum için gelemedim. C) Yeni kitap alacağım.
6. Hangi sözcüğün yazılışı doğrudur?
A) fasille B) misir C) kayısı
7. Hangi cümle 10 heceden oluşmaktadır?
A) Sicim gibi yağmur yağıyor. B) Kuru boya ile resim yapmış. C) Yemeğini bitirdin mi?
8. Seçeneklerin hangisinde birden çok varlıktan söz ediliyor?
A) kirazlar B) erik C) kivi
9. Hangisi dört heceli bir sözcüktür?
A) kalp B) beyin C) karaciğer
10. "yüksek – alçak" kelimelerindeki ilişki hangi seçenekte vardır?
A) gemi – vapur B) kirlili – pis C) az – çok
11. Hangi cümlede "Kim?", sorusunun cevabı yoktur?
A) Annem muzlu pasta yapmış. B) Evde ekmek kalmamış. C) Tayfun, okulu bitirdi.


MATEMATİK DERSİ SORULARI

12. 1 onluk ve 0 birlikten oluşan doğal sayı hangisidir?
A) 10 B) 1 C) 0
13. Aşağıdaki sayılardan hangileri büyükten küçüğe doğru sıralanmıştır?
A) 14 – 12 – 19 B) 20 – 19 – 18 C) 5 – 7 – 3
14.  Karıncalara kaç tane daha ekleyelim ki sayıları 17 olsun?
A) 10 B) 8 C) 6

15. Hangisinin eşi **yanlış** verilmiştir?



16. Hangi varlığın köşesi **yoktur**?



17. Otobüste 9 kadın, 5 erkek, 3 çocuk vardır. Otobüste kaç yolcu vardır?

A) 13 yolcu

B) 16 yolcu

C) 17 yolcu

18. "A + A + A = 9." ise "A." sayısı kaçtır?

A) 3

B) 4

C) 5

19. İki sayının toplamı 16'dır. Sayılardan biri 7 olduğuna göre diğer sayı kaçtır?

A) 8

B) 9

C) 10

20. Aşağıdaki çıkarma işlemlerinden hangisi **yanlıştır**?

A) $15 - 8 = 7$

B) $11 - 6 = 6$


C) $18 - 18 = 0$

21. Yandaki resimlere göre hangisi **doğrudur**?

A) İnek, filden hafiftir.

B) Fil, inekten hafiftir.

C) İnek, filden ağırdır.



22. "18.....15." sayıları arasına hangi sayılar yazılmalıdır?

A) 16, 14

B) 17, 16

C) 17, 14

HAYAT BİLGİSİ DERSİ SORULARI

23. Hangi canlı hem suda hem de karada yaşar?

A) kurbağa

B) köpek

C) zürafa

24. Hangi yiyeceği bebekler **yiyeemez**?



25. Hangisi **beslenmek için** kullandığımız araç ve gereçlerdendir?

A) fırça, sulu boya

B) çatal, bıçak

C) kalem, kâğıt

26. Hangisi kişisel bakımımız için yapılması gerekenlerden **değildir**?

A) dişlerimizi fırçalamak

B) banyo yapmak

C) kitap okumak


27. Hangisi hastalıklardan korunma yollarından biridir?

A) müzik dinlemek

B) aşı olmak





C) film seyretmek

28. Hangisi sınıf eşyalarından **değildir**?



TABLO OKUYORUM

→ Aşağıdaki tabloda 1 /A sınıfındaki öğrencilerin en sevdiği çiçekler verilmiştir. Buna göre yandaki soruları cevaplayınız.

Çiçekler	Çiçek Sayısı
Gül	
Lale	
Papatya	
Karanfil	

- 1) En sevilen çiçek hangisidir?
A) Lale B) Gül C) Papatya
- 2) En az sevilen çiçek hangisidir?
A) Karanfil B) Papatya C) Lale
- 3) En çok sevilen çiçek, en az sevilen çiçekten kaç fazladır?
A) 1 B) 2 C) 3

→ Aşağıda 1 /B sınıfındaki öğrencilerin nöbetçi tablosu verilmiştir. Buna göre yandaki soruları cevaplayınız.

- 1) Berre ile Eda hangi gün nöbetçidir?
A) Salı B) Çarşamba C) Perşembe
- 2) Cuma günü hangi öğrenciler nöbetçidir?
A) Arda, Yusuf
B) Aykut, Sema
C) Murat, Elif
- 3) Mert hangi gün nöbetçidir?
A) Pazartesi B) Salı C) Perşembe

Günler	Nöbetçi Öğrenciler
Pazartesi	Aykut, Sema
Salı	Berre, Eda
Çarşamb	Arda, Yusuf
Perşembe	Azra, Mert
Cuma	Murat, Elif

Sınıfımızda yapılan başkanlık seçiminde adayların aldığı oylar tabloda gösterilmiştir. Soruları tabloya göre cevaplayalım.

Tablo: Adayların Oyları

Adaylar	Oy Sayısı
Yusuf	9
Azra	4
Başak	6
Çağdaş	2
Elif	4

- 1) Başkanlık seçiminde en fazla oyu kim almıştır?
A) Azra B) Yusuf C) Çağdaş
- 2) Oylama da en az oyu kim almıştır?
A) Azra B) Elif C) Çağdaş
- 3) Hangi öğrenciler eşit sayıda oy almıştır?
A) Başak-Elif
B) Yusuf-Çağdaş
C) Azra- Elif
- 4) Yusuf'un oy sayısı Başak'ın oy sayısından ne kadar fazladır?
A) Üç B) Beş C) İki

Çantamdaki okul eşyalarımın sayısı tabloda gösterilmiştir. Soruları tabloya göre cevaplayalım.

Tablo: Okul Eşyalarım

Eşyalar	Eşya Sayısı
Silgi	2
Kitap	3
Defter	5
Kalem	2
Sözlük	1

- 1) Tablodaki toplam eşya sayısı ne kadardır?
A) On B) On iki C) On üç
- 2) Hangi eşyaların sayısı eşittir?
A) Silgi-Kalem
B) Defter- Kitap
C) Sözlük- Silgi
- 3) Defter sayısı sözlük sayısından ne kadar fazladır?
A) Beş B) Bir C) Dört
- 4) Defter, sözlük ve kitabın toplam sayısı kaçtır?
A) Yedi B) Sekiz C) Dokuz