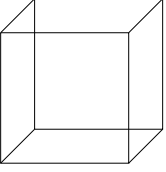


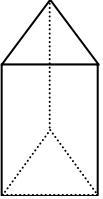
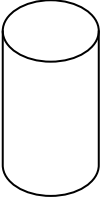
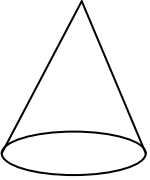
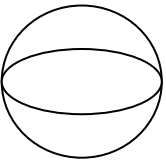
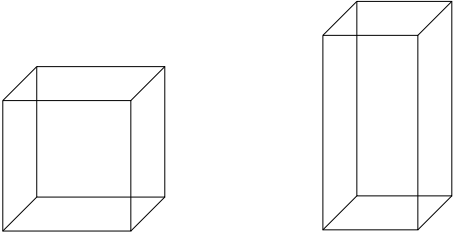
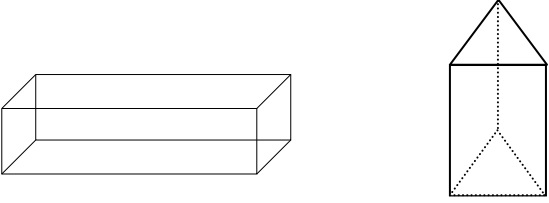
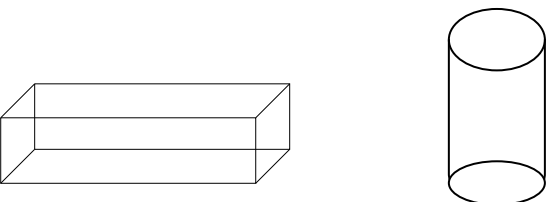



GEOMETRİK ŞEKİLLER

- Aşağıdaki geometrik şekilleri inceleyerek boşlukları doldurunuz. Köşelerini kırmızı, ayrıtlarını mavi ve yüzeylerini sarı renge boyayınız.

GEOMETRİK ŞEKİL	ŞEKLİN ADI	ÖZELLİKLERİ
	Adım tür. tane ayrıtım, tane köşem, yüzüm vardır. Yüzlerim bölgedir.
	Adım dir. tane ayrıtım, tane köşem, yüzüm vardır. Yan yüzlerim bölge, alt ve üst yüzeylerim bölgedir.
	Adım dir. tane ayrıtım, tane köşem, yüzüm vardır. Yüzlerim bölgedir.
	Adım tür. tane ayrıtım, tane köşem, yüzüm vardır. Yan yüzlerim bölge, alt ve üst yüzeylerim bölgedir.
	Adım dir. Ayrıtı vardır. <input type="checkbox"/> Ayrıtı yoktur. <input type="checkbox"/> Köşesi vardır. <input type="checkbox"/> Köşesi yoktur. <input type="checkbox"/>
	Adım dir. Ayrıtım vardır. <input type="checkbox"/> Ayrıtım yoktur. <input type="checkbox"/> Köşem vardır. <input type="checkbox"/> Köşem yoktur. <input type="checkbox"/>
	Adım dir. Ayrıtım vardır. <input type="checkbox"/> Ayrıtım yoktur. <input type="checkbox"/> Köşem vardır. <input type="checkbox"/> Köşem yoktur. <input type="checkbox"/>

BENZER VE FARKLI ÖZELLİKLERİMİZ

GEOMETRİK ŞEKLİN ADI	KARŞILAŞTIRALIM
 <p>küp kare prizma</p>	<p>Benzer Özelliklerimiz:.....8'er köşemiz... 12'şer ayrıtımız,...6'şar yüzeyimiz var....</p> <p>Farklı Özelliklerimiz : Küpün bütün yüzeyleri.....kare,...kare prizmanın ise..... 2 yüzeyi kare...diğer yüzeyleri..... dikdörtgen ...dir.</p>
 <p>Dikdörtgenler prizması üçgen prizma</p>	<p>Benzer Özelliklerimiz:.....</p> <p>Farklı Özelliklerimiz : :.....</p>
 <p>Dikdörtgenler prizması silindir</p>	<p>Benzer Özelliklerimiz:.....</p> <p>Farklı Özelliklerimiz : :.....</p>
 <p>koni silindir</p>	<p>Benzer Özelliklerimiz:.....</p> <p>Farklı Özelliklerimiz : :.....</p>

KISALTMALARIN YAZIMI

Aşağıdaki sözcükleri kısaltmış şekilde yazınız.

- Türkiye Cumhuriyeti:.....
- Türkiye Büyük Millet Meclisi:.....
- Milli Eğitim Bakanlığı:.....
- Türk Hava Yolları:.....
- Türk Standartları Enstitüsü:.....
- Türkiye Erozyonla Mücadele, Ağaçlandırma Vakfı:.....
- Lösemili Çocuklar Sağlık ve Eğitim Vakfı :.....
- Türk Dil Kurumu:.....
- Türkiye Radyo ve Televizyon Kurumu:
- Alışveriş Merkezi:
- Türk Lirası:.....
- Batı:.....
- Kuzeydoğu:.....
- Güneybatı:.....
- Üretim Tarihi:.....
- Milattan Önce:.....
- Milattan Sonra:.....
- Yüzyıl:.....
- Metre:.....
- Milimetre:.....
- Santimetre:.....
- Kilometre.....
- Ton:.....
- Kilogram:.....
- Gram:.....
- Kuruş:.....
- Dakika:.....
- Mahalle:.....
- Cadde:.....
- Sokak:.....
- Apartman:.....
- Doktor:.....
- Avukat:.....
- Mühendis:
- Profesör:.....
- Eczane:.....
- Hastane:.....
- İngilizce:.....
- Örnek:.....

Aşağıdaki cümlelerde verilen kısaltmalara uygun ekler getiriniz.

- T.C.' başkenti Ankara'dır.
- TEMA' çalışmalarını toplum olarak desteklemeliyiz.
- TRT' bu akşam final maçları var.
- THY' uçak biletleri almayı unutma!
- Türkiye'nin KB' hangi bölgemiz yer almaktadır?
- Kuruyemişlerin 350 g'.... bayatlamış.
- Terzi kumaşın 24 cm' kesti.

Aşağıdaki cümlelerde kısaltmalarının yazılışında yanlışlık yapılmıştır. Yanlışları düzelterek yazın.

- ❖ THY'nın uçak seferleri iptal edilmiş.

.....

- ❖ Cumhuriyet MAH. Bülbül SOK. bizim adresimizdir.

.....

- ❖ Anlamını bilmediğimiz sözcükler için T.D.K 'nin sözlüğüne bakmamız gerekir.

.....

- ❖ Tatilde ailece KKTC'ne gideceğiz.

.....

- ❖ Dok. Hüseyin Turan'ı nerede bulabiliriz?

.....

- ❖ Marketten aldığım ürünlerde TSE'nin amblemi olup olmadığına dikkat ederim.

.....