


YAZIM YANLIŞLARINI BULUP DOĞRUSUNU YAZALIM

Aşağıdaki cümlelerde geçen özel isimlerin altını kırmızı kalemle çizin, yapılan yazım yanlışlarını belirleyip doğrusunu örnekteki gibi yandaki kutucuğa yazınız.)


Cümle	Sözcüğün doğru yazılış
atatürkün babası <u>ali rıza beydir</u> .	Atatürk'ün Ali Rıza Bey'dir.
ahmetin kardeşinin adı alidir.
bu çocuk mersinden gelmiş.
yarın sabah istanbula uçacakmış.
ahmetin kardeşi kemali gördüm.
adanadan sonra bursaya gideceğiz.
zübeyde hanımın oğlu mustafadır.
kedisinin adını maviş koydu.
köpeğim bobiyi çok seviyorum.
ali, veliden beş yaş büyükmüş.
okulda ayşeyi gördüm.
mustafanın dersleri çok iyiydi.
burası adananın en güzel yeridir.
kalemimi osmana verdim.
dışarıda ardayı gördüm.
arkadaşım hüseyine teşekkür ettim.
kalemimi muzaffer almış.
orhanın kitabı yırtılmış.

Aşağıdaki çıkarma işlemlerinde eksileni ve çıkanı bulunuz.


E		9	4	
Ç	-			
F		4	5	




E				
Ç	-	4	8	
F		3	9	




E		7	2	
Ç	-			
F		3	6	




E				
Ç	-	2	6	
F		5	3	




E		5	2	
Ç	-			
F		3	9	




E				
Ç	-	3	7	
F		2	8	



E		8	1	
Ç	-			
F		4	8	



E				
Ç	-	4	0	
F		4	8	



Aşağıdaki çıkarma işlemlerinde verilmeyen terimleri bulunuz.

$$\begin{array}{r} 76 \\ - \square \\ \hline 23 \end{array}$$

$$\begin{array}{r} \square \\ - 25 \\ \hline 38 \end{array}$$

$$\begin{array}{r} 81 \\ - \square \\ \hline 38 \end{array}$$

$$\begin{array}{r} \square \\ - 17 \\ \hline 41 \end{array}$$

$$\begin{array}{r} 63 \\ - \square \\ \hline 38 \end{array}$$

$$\begin{array}{r} \square \\ - 30 \\ \hline 44 \end{array}$$

$$\begin{array}{r} \square \\ - 28 \\ \hline 34 \end{array}$$

$$\begin{array}{r} 83 \\ - \square \\ \hline 38 \end{array}$$

$$\begin{array}{r} \square \\ - 12 \\ \hline 64 \end{array}$$

$$\begin{array}{r} 89 \\ - \square \\ \hline 55 \end{array}$$

$$\begin{array}{r} \square \\ - 41 \\ \hline 26 \end{array}$$

$$\begin{array}{r} 70 \\ - \square \\ \hline 41 \end{array}$$

Aşağıda karışık şekilde verilen çıkarma terimlerini yandaki kutuların içine işlemlerini yaparak bulunuz.

Eksilen = 78
Fark = 29
Çıkan = ?

$$\begin{array}{r} \dots\dots\dots \\ \dots\dots\dots \\ \hline \dots\dots\dots \end{array}$$

Fark = 36
Çıkan = 49
Eksilen = ?

$$\begin{array}{r} \dots\dots\dots \\ \dots\dots\dots \\ \hline \dots\dots\dots \end{array}$$

Fark = 28
Çıkan = 33
Eksilen = ?

$$\begin{array}{r} \dots\dots\dots \\ \dots\dots\dots \\ \hline \dots\dots\dots \end{array}$$

Eksilen = 93
Çıkan = 49
Fark = ?

$$\begin{array}{r} \dots\dots\dots \\ \dots\dots\dots \\ \hline \dots\dots\dots \end{array}$$

Aşağıdaki çıkarma işlemlerinde eksileni ve çıkanı bulunuz.

$$\square - 17 = 54$$

$$91 - \square = 65$$

$$64 - \square = 50$$

$$\square - 21 = 24$$

$$70 - \square = 45$$

$$74 - \square = 68$$

$$58 - \square = 29$$

$$\square - 17 = 62$$

$$\square - 10 = 85$$