

TÜRKÇE DERSİ SORULARI

1. "E, K, E, L." sesleriyle aşağıdaki sözcüklerden hangisi yazılabilir?
A) LEKE B) BEL C) KALE
2. Aşağıdaki sözcüklerden hangisinin birinci hecesinde "k." sesi vardır?
A) balık B) takvim C) teker
3. Aşağıdaki cümlelerden hangisinin sonuna doğru noktalama işareti konulmuştur?
A) Kim geldi? B) Nereye gidiyorsun. C) Yaşasın?
4. "Barış okula gelmedi, çünkü....." cümlesini hangisi tamamlar?
A) parka B) kızmış C) hastalanmış
5. Hangi cümlede yanlış yazılmış sözcük vardır?
A) Eve gidelim mi? B) Aplamı gördün mü? C) Bugün pazara gideceğiz.
6. "Cem, seni evde mi bekliyor?." cümlesinde hangi sözcük üç hecelidir?
A) Cem B) evde C) bekliyor
7. Aşağıdaki cümlelerin hangisinde pişmanlık ifadesi vardır?
A) Bugün çok mutluyum. B) Keşke ben de gitseydim. C) Bu evin boyası çok güzel.
8. Seçeneklerin hangisinde birden çok varlıktan söz ediliyor?
A) ördekler B) tavuk C) horoz
9. Aşağıdakilerden hangisi canlı bir varlığın ismidir?
A) peynir B) ekmek C) kanarya
10. Hangi cümledeki özel isim yanlış yazılmıştır?
A) Minnoş'a bir tas süt verdim. B) Çomarı veterinerine götürdük. C) Kardeşimin adı Orhan'dır.
11. Hangi sözcük ikilisi zıt anlamlıdır?
A) ıslak – yaş B) alçak – çukur C) neşeli – üzgün

MATEMATİK DERSİ SORULARI

12. On dokuzdan bir önce gelen sayının rakamla yazılışı hangisidir?
A) 18 B) 20 C) 17
13. Yirmiden başlayıp kırka kadar birer ritmik saydım. Aşağıdaki sayılardan hangisini söylemedim?
A) yirmi dört B) on sekiz C) otuz altı
14. Aşağıdaki eşitliklerden hangisi doğrudur?
A) $14 = 1 \text{ onluk, } 6 \text{ birlik}$ B) $11 = 1 \text{ onluk, } 1 \text{ birlik}$ C) $12 = 2 \text{ onluk, } 1 \text{ birlik}$
15. Aşağıdaki ifadelerden hangisi doğrudur?
A) 16, 19'dan küçüktür. B) 18, 17'den küçüktür. C) 20, 19'dan bir eksiktir.

16. Aşağıdaki elmalardan hangisi bütündür?



17. Musa'nın 6 kalemı vardı. Musa, 3 kalem daha aldı. Musa'nın kalemlerinin sayısı için hangisini söyleyebiliriz?

A) Kalemlerinin sayısı azalmıştır. B) Kalemlerinin sayısı artmıştır. C) Kalemlerinin sayısı değişmemiştir.

18. $\triangle + \bigcirc = 10$ ifadesine göre aşağıdakilerden hangisi doğru olur?

A) $\triangle = 2, \bigcirc = 7$ B) $\triangle = 3, \bigcirc = 8$ C) $\triangle = 4, \bigcirc = 6$

19. Saatteki uzun çubuğa ne ad verilir?

A) akrep B) yelkovan C) alarm

20. Kalemimizin boyunu hangisiyle ölçmek daha kolaydır?

A) kulaç B) ayak C) parmak

21. Aşağıdaki işlemlerin hangisinde \square yerine (+) işareti konulmalıdır?

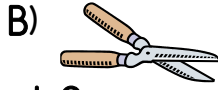
A) $9 \square 6 = 15$ B) $15 \square 6 = 9$ C) $15 \square 9 = 6$

HAYAT BİLGİSİ DERSİ SORULARI

23. Okulun açılış töreninde hangisini söyleriz?

A) İstiklal Marşı B) Okul türküsü C) Şarkı

24. Hangisi ders aracıdır?



25. En uygun oyun alanı neresidir?

A) sokaklar B) kaldırımlar C) park

26. Hangisi fiziksel bir özelliktir?

A) yaramaz olmak B) çalışkan olmak C) uzun boylu olmak

27. Yemeğe başlarken ne deriz?

A) günaydın B) afiyet olsun C) iyi akşamlar

28. Cumhuriyetin kurulmasına kim önderlik etti?

A) Atatürk B) Padişah C) Müdür

29. Kendimizi tanıtırken hangisini söylemeyiz?

A) Adımızı ve soyadımızı B) Yaşımızı C) Çantamızın rengini

30. Bebekler tek başlarına hangisini yapabilirler?

A) uyuma B) banyo yapma C) odasını toplama

31. Dünyamızı hangi kaynak ısıtır?




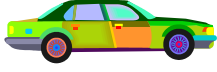
A) yıldızlar B) Ay C) Güneş

32. Atatürk'ün annesinin adı nedir?

A) Zübeyde Hanım B) Makbule Hanım C) Ülkü Hanım

UZUNLUK ÖLÇME

1. Aşağıdaki taşıtları en uzundan kısaya doğru sıralayalım.





2. Aşağıdaki ağaçtan daha kısa bir ağaç çiziniz.



3. Aşağıdaki merdivene benzer daha uzun bir merdiven çiziniz.



4. En kısa hayvanı işaretleyiniz.



5. En uzun hayvanı işaretleyiniz.





6. Uzunlukları aynı olan çiçekleri işaretleyiniz.



7. Aşağıdaki kalemde daha uzun bir kalem çiziniz.



8. Aşağıdaki kuşları kısıdan uzuna doğru sayı vererek sıralayınız.



9. En baştaki kalemi boy sırasındaki yerine göre uygun kutuyu işaretleyin.



10. Resmi inceleyiniz. Boşlukları tamamlayınız.



Enes



İrem




Murat


a) En uzun çocuk:.....

b) En kısa çocuk:.....


11. Şekillere göre aşağıdaki boşlukları dolduralım.



1. kutu



2. kutu



3. kutu

En uzun:.....

Kısa:.....

En kısa:.....