

HAL EKLERİ (İSMİN HALLERİ)

Aşağıdaki tümcelerde altı çizili adların adın hangi durumunda olduğunu yazınız.

Tabakları masaya yerleştirdik. (..... durumu)

Bu akşam televizyonda film izleyeceğim. (..... durumu)

Öğretmenimin anlattığı konuyu öğrendim. (..... durumu)

Arkadaşımdan kırmızı kalem istedim. (..... durumu)

Babama yardım edeceğim. (..... durumu)

Öğretmenimizin okuduğu şiir çok güzeldi. (..... durumu)

Aşağıdaki adlara cümlelerdeki görevlerine uygun durum ekleri getiriniz. Bu adları cümlelerde boş bırakılan yerlere yazınız.

Kitap

Arda Egemen'ehediye etti.

Buokudum.

Merak ettiklerimi öğrenmek içinbaktım.

OAtatürk şiirleri var.

Şubirçok bilgi öğrendim.

Yol

Buüniversitenin önünden geçer.

Hasançıkta.

Evimizinasfaltlanmış.

.....güzel bir köpek gördüm.

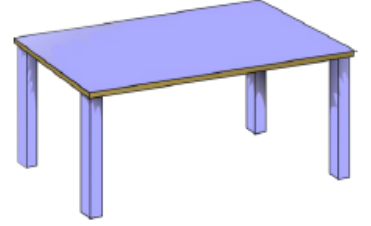

Buçok araba geçer.

Tablodaki adlara uygun olan durum eklerini getiriniz.

<u>Yalın</u>	<u>i hâli</u>	<u>e hâli</u>	<u>de hâli</u>	<u>den hâli</u>
üzüm				
hava				
Burak				
havuç				
çivi				

DOĞRU, IŞIN VE AÇI

Aşağıda verilen görsellerin üzerine renkli kalemlerle birer açı çizelim.



Aşağıdaki görselleri uygun kavramlarla eşleştiriniz.




doğru parçası

doğru

açı

ışın



1) Aşağıdakilerden hangisi doğru modeli oluşturur?

- A) çivi B) demir yolu C) cetvel

2) Aşağıdakilerden hangisi yanlıştır?




- A) Açının bir köşesi ve iki kenarı vardır.
B) Doğrunun başlangıç ve bitiş noktası yoktur.
C) Işınlardan başlangıç noktası yoktur.


3) Aşağıdaki verilen sözcüklerdeki harflerinin tamamında açıdır?

- A) KEDİ B) KELEK C) KEÇİ

4) Aşağıdakilerden hangisi ışın modeline örnektir

- A)  B)  C) 

- 5) I. Doğru 
II. Işın 
III. Açı 

 Aşağıdaki eşleştirmeleri düzeltmek için hangi aralı kelimelerin yerlerini değiştirmek gerekir?

- B) I. ve II B) II. ve III C) I. ve III



Yukarıdaki görseller hangi seçenekte doğru sıralanmıştır?




- | | <u>1</u> | <u>2</u> | <u>3</u> |
|----------|----------|----------|----------|
| A) Doğru | Açı | Işın | |
| B) Açı | Işın | Doğru | |
| C) Işın | Açı | Doğru | |

8) Yandaki yıldızda kaç tane açı vardır?






- A) 10 B) 12 C) 15

8) Aşağıdaki görsellerin hangisiyle açı çizilebilir?

- A)  B)  C) 

9) Aşağıdakilerden hangisi ışın modeli oluşturmaz?

- A)  B)  C) 

10) Aşağıda verilen harflerin hangisinde en fazla açısı vardır?

- A) H B) K C) T