







## TÜRKÇE DERSİ SORULARI

1. "Merve'yi parkta oynarken gördüm.." cümlesinde özel isim olan kaç tane sözcük vardır?  
A) üç B) bir C) iki
2. Aşağıdaki sözcüklerden hangisi bir varlık adı değildir?  
A) silgi B) kitap C) güzel
3. "Küçük kulübede iki kadın ....." cümlesini aşağıdakilerden hangisi tamamlar?  
A) yaşıyordu B) biliyordu C) yüzüyordu
4. "Kübra'nın Kalemı yere düştü.." cümlesinde hangi sözcükte yazım yanlışı yapılmıştır?  
A) Kübra'nın B) Kalemı C) düştü
5. "Eyvah, servisi kaçırdım ( )," cümlesinin sonuna hangi noktalama işareti konulmalıdır?  
A) nokta B) ünlem işareti C) soru işareti
6. "Teyzem bir neşeli kadındı.." okuduğunuz ifadeye hangi sözcükler yer değiştirirse cümle anlamlı olur?  
A) bir – neşeli B) neşeli – kadındı C) teyzem – kadındı
7. "Pazardan yumuşak armutlar aldık.." cümlesinde koyu yazılı sözcüğün zıt anlamlısı hangisidir?  
A) ucuz B) büyük C) sert
8. "öğretmen ." sözcüğünün sonuna hangisini eklersek sözcük birden çok öğretmeni ifade eder?  
A) -i B) -ler C) -den
9. Aşağıdakilerden hangisi cansız bir varlığın ismidir?  
A) sincap B) papatya C) silgi
10. "Dayımlara misafir gelmiş.." cümlesinde misafir sözcüğünün yerine hangisini yazarsak cümlenin anlamı değişmez?  
A) insanlar B) komşular C) konuk
11. Hangi sözcük yanlış hecelenmiştir?  
A) yol – cu – lu – k B) ta – şıt – lar C) o – to – būs

## MATEMATİK DERSİ SORULARI

12. "Sekiz ile dokuzun toplamı on yedi eder.." ifadesine uygun olan işlem hangisidir?  
A)  $17 - 9 = 8$  B)  $8 + 9 = 17$  C)  $17 - 8 = 9$
13. Aşağıdaki sayılardan hangileri küçükten büyüğe doğru sıralanmıştır?  
A)  $19 - 20 - 21 - 22$  B)  $9 - 8 - 7 - 6$  C)  $15 - 11 - 12 - 18$
14. Aşağıdaki grupların hangisinde 11'den fazla yıldız vardır?  
A)  B)  C) 
16. Aşağıdaki elmalardan hangisi yarımıdır?  
A)  B)  C) 

17. Bir miktar şekerim vardı. Şekerlerimin 6 tanesini yedim. Geriye 8 şekerim kaldı. Yemeden önce kaç tane şekerim vardı?

A) 14

B) 10

C) 2

15.  Yukarıdaki cevizlerin 7 tanesini yerseniz geriye kaç ceviz kalır?

A) 5 ceviz

B) 6 ceviz

C) 7 ceviz

18. \*  $\triangle + \bigcirc = 20$ , işleminde  $\triangle$  ve  $\bigcirc$  yerine hangi sayılar yazılamaz?

A) 15, 5

B) 17, 4

C) 14, 6

19. Musa, ödevlerini masada yapıyor. Musa, defterini masanın neresine koymuştur?

A) altına

B) arkasına


C) üstüne

20. Benim bir kulacım, 5 karış geliyor. Buna göre 2 kulacım kaç karış gelmektedir?

A) 10 karış

B) 8 karış

C) 6 karış

21.  Yandaki saat kaç göstermektedir?

A) 12

B) 6

C) 4

### HAYAT BİLGİSİ DERSİ SORULARI

23. Okulu yönetmek aşağıdakilerden hangisinin görevidir?

A) okul müdürü

B) öğretmen

C) hizmetli

24. Hangisi okulumuzda kullandığımız kaynaklardan biri değildir?

A) su

B) rüzgâr

C) elektrik

25. Ders zilinın çaldığını hangi duyu organı ile algıyorsunuz?

A) göz

B) kulak

C) burun

26. Trafik lambalarında, yayalar için yeşil yandığında ne yaparsınız?

A) geçmeye hazırlanırım

B) beklerim

C) karşıya geçerim

27. Hangisi depremde önce alınacak önlemlerden biridir?

A) Binaları sağlam yapmak.

B) Su vanalarını kapatmak.

C) Elektrik sigortasını kapatmak.

28. Hangisi yemek yapılırken kullanılanlardan değildir?

A) 

B) 

C) 

29. Erimeş tereyağını buzdolabına koyarsak ne olur?

A) donar

B) kaynar

C) buharlaşır

30. Aile bütçenize katkıda bulunmak istiyorsunuz. Bu durumda hangisini yaparsınız?

A) Harçlığınızın hepsini harcarsınız.

B) Her ay yeni bir çanta alırsınız.

C) Kıyafetlerinizi temiz kullanırsınız.

31. Ağaçların yaprakları hangi mevsimde dökülmeye başlar?

A) İlkbahar

B) Sonbahar





C) Kış

# UZUNLUK KISALIK


1) Kalemleri, uzundan kısaya doğru sıra sayıları ile sıralayınız.





2) Zürafaları, uzundan kısaya doğru sıra sayıları ile sıralayınız.



3) En uzun olanları işaretleyiniz.



4) En kısa olanları işaretleyiniz.



5) Sol başta verilen varlığın, boy sırasına göre gelmesi gereken yerdeki kutucuğun içine "x" işareti koyunuz.

