

TÜRKÇE ÇALIŞMA KAĞIDI

1. Aşağıdaki tümcelerdeki yazım yanlışlarını düzelterek doğrularını yanlarına yazınız.

Deyirli bir misafirimiz geldi
ahmet'gil bugün izmire gidecekler.....

Basgetbol oynayalım.

Matematik dersinde üçkenleri işledik.....

2. Aşağıdaki cümlelerde “ki” doğru olarak yazılmışsa (D) ,yanlışsa (Y) yazınız.

() Kırlarda ki çiçekleri çok beğendim. () Şişedeki parfüm buharlaşmış.

() Öyle güzel konuşurki ağzından bal damlar. () Dedimki artık beni arama...

3. Hangileri coğul addır? İşaretleyiniz.

() çiçekler () aile () kalem () ağaçlar

5. Aşağıdaki kelime çiftlerinin hangilerinde soyut isimler yer almıştır? İşaretleyiniz.

() sevgi- akıl () sıra – kitap () saygı – mutluluk () masa – tavşan

6. Aşağıdakilerden hangileri topluluk ismidir? İşaretleyiniz.

() öğrenciler () toz şeker () ordu () çiçekler () millet

7. ” Köpeğim Bobi’yi teyzem Sivas’tan getirdi.” cümlesinde kaç tane özel isim vardır?

.....

8. Aşağıdaki kelimeyi adın durumlarına uygun olarak yazınız.

Silgi yalın hali:

(belirtme)hali:

(yönelme) hali:

(bulunma) hali:

(ayrılma) hali:

9.Aşağıdaki kelimelerin zıt anlamını yazınız.

ödül:..... Açık:..... Temiz:.....

Sığ:..... yapay:..... Geniş:.....

10. Aşağıdaki kelimelerin eş anlamını yazınız.

Uygun:..... zelzele:..... resim:.....

Yetenek:..... sıfat :..... çağrı:.....

11. Aşağıdaki cümlelerde boş bırakılan yerleri “sınıf” sözcüğüne (-e, -i, -de, -den,) eklerini getirerek tamamlayınız.

Özlem gitti.

Özlem..... sevdi.

Özlemyazı yazdı.

Özlem geldi.

12. Aşağıdaki tekil sözcükleri çoğul, çoğul sözcükleri tekil yapınız.

Erikler		Film	
Defter		Kediler	
Konuklar		Çanta	
Şarkı		Sorular	
çiçekler		Lale	
yıldızlar		köpük	

13. Aşağıdaki sebeplere uygun sonuçlar yazalım.

Kuşları daha iyi görmek için.....
Güzel resim yapamıyordum bu nedenle.....
Saksı yere düştüğü için.....
Bebek ağlıyordu bu nedenle.....
Sesim çok güzel bu yüzden.....

14. Aşağıdaki tablodaki **türemiş** sözcükleri yeşile boyayınız.

derin	hediye	makas	denizci	evli
yolluk	şekerci	suluk	gözcü	suçlu
dertsiz	acı	koku	kızlar	evde
meraklı	sel	düdükler	kağıdı	helva
çatıda	çantam	öfkeli	çiçekçi	ördek
yumurta	limon	çamurluk	kalemi	siyah

15. Yandaki kutuda bazı sözcükler verilmiştir. Bu sözcükleri özel isim ve tür isimleri olarak ayırınız. Sözcüklerin yazımına dikkat ediniz ve yazım yanlışı olan sözcükleri düzelterek yazınız.

Özel isimler:

.....
.....
.....
.....
.....
.....

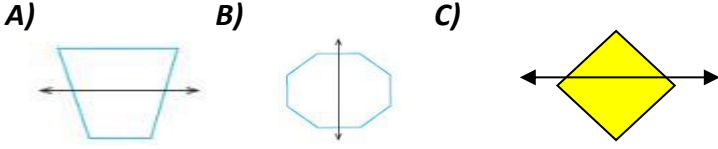
Tür isimleri:

.....
.....
.....
.....
.....
.....
.....
.....
.....
.....

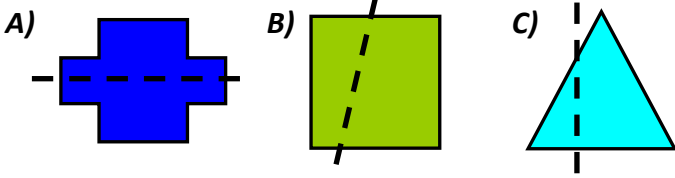
**sinema, kalem, bilgisayar,
ingilizce, Atatürk, berna,
giyecek, çilek, zonguldak,
çanta, izmir, su, televizyon,
taş, yol, elma, kitap , istanbul,
gül, pırasa, italya, kayseri,
yavuz, boya, kolonya, çiçek,
deniz, türkiye, panda, ağaç**

SİMETRİ

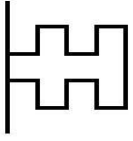
1. Aşağıdaki şekillerden hangisi simetrik değildir?



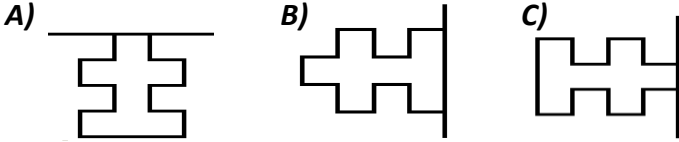
2. Aşağıdaki şekillerden hangisinin simetriği doğru olarak çizilmiştir?



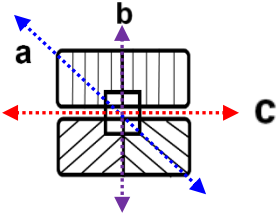
3.



Yukarıdaki şeklin simetriği aşağıdakiler-den hangisidir?



4.



Yukarıdaki şeklin simetri doğrusu hangisidir?

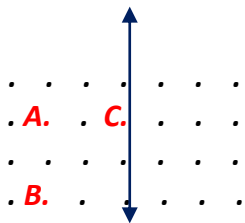
A) b B) a C) c

5. "SON"

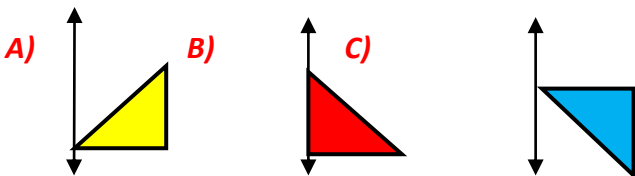
Yukarıdaki kelimenin harflerden hangisinin simetrisi çizilebilir?

A) s B) N C) o

6.



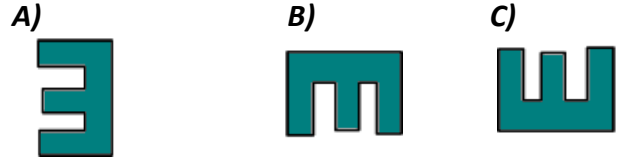
Yukarıdaki ABC noktalarını birleştirerek elde edeceğimiz geometrik şeklin, simetriği hangisidir?



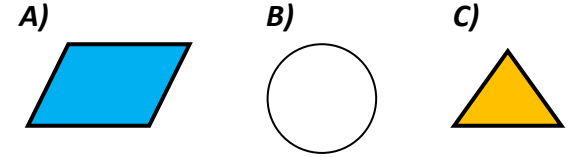
7.



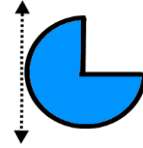
Yukarıdaki şeklin, verilen doğruya göre simetriği hangisidir?



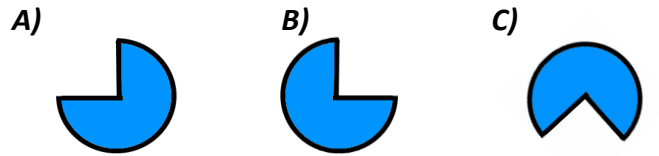
8. Aşağıdaki şekillerden hangisine simetri doğrusu çizilemez?



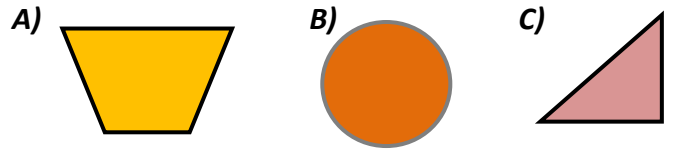
9.



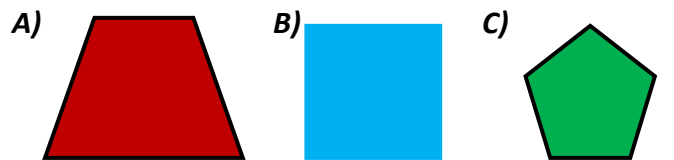
Yukarıdaki şeklin verilen doğruya göre simetriği hangisidir?






10. Aşağıdaki şekillerden hangisinin simetri doğrusu çizilemez?



11. Aşağıdaki şekillerden hangisinin simetri doğrusu iki tanedir?



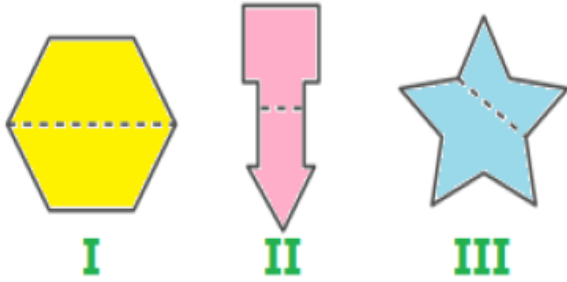
1)

	Bütün şekillerin simetri doğrusu vardır.
	Karenin 8 tane simetri doğrusu vardır.
	Simetri doğrusu, simetrik cisimleri iki eş parçaya ayırır.

Her biri bir **ulaşım aracıyla** eşleşen cümlelerden hangisi yanlış değildir?

- A) vapur B) araba C) otobüs

2)



Yukarıdaki şekillerden hangileri **iki eşit parçaya** ayrılmıştır?

- A) Yalnız I B) I ve II C) II ve III

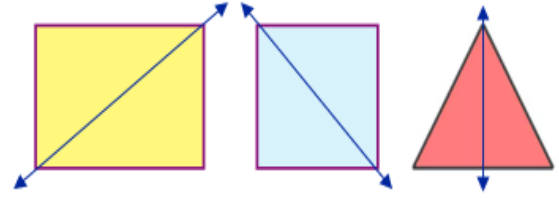
3)



Yukarıdaki harflerden kaç tanesinin simetri doğrusu bulunmamaktadır?

- A) 1 B) 2 C) 3

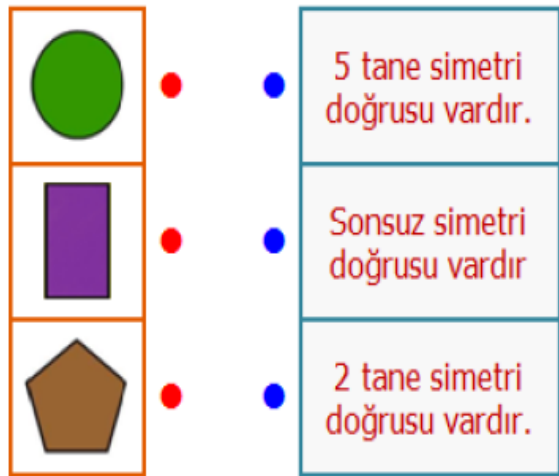
4)



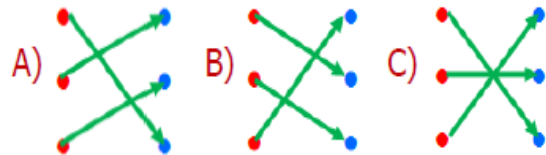
Yukarıdaki geometrik şekillerden hangisinin **simetri doğrusu** yanlış çizilmiştir?

- A) üçgen B) dikdörtgen C) kare

5)



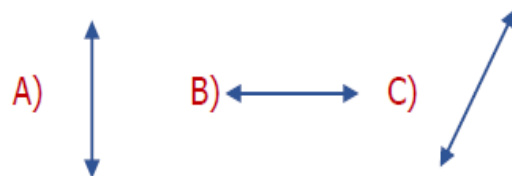
Yukarıdaki geometrik şekiller ve cümleler eşleştirilirse nasıl bir **görüntü** oluşur?



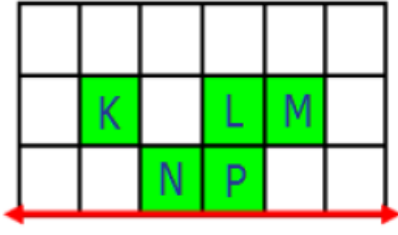
6)



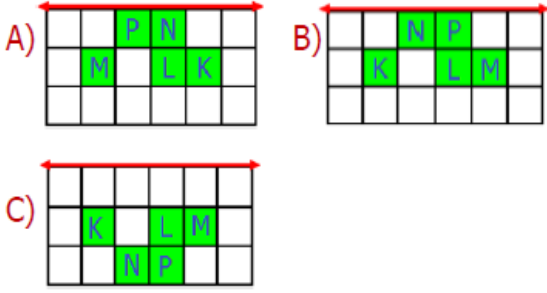
Yandaki kelebeğin **simetri doğrusu** aşağıdakilerden hangisidir?



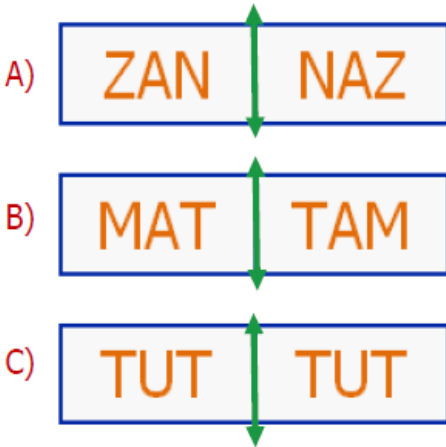
7)



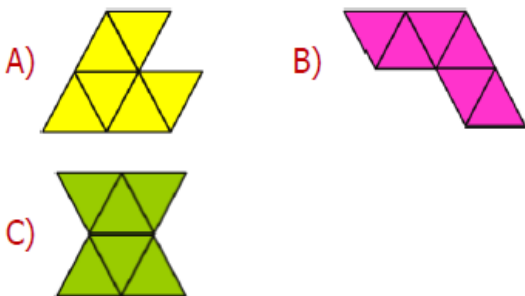
Harf içeren **boyalı** alanın doğruya göre **simetrisi** aşağıdakilerden hangisidir?



8) Aşağıdaki kelimelerden hangisinin doğruya göre **simetrisi** hatalıdır?



9) Aşağıdaki şekillerden hangisinin birden fazla simetri doğrusu vardır?



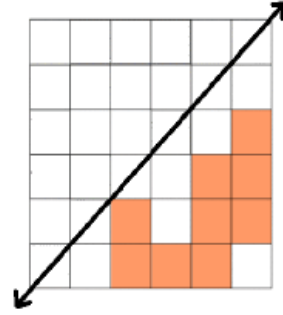
10)



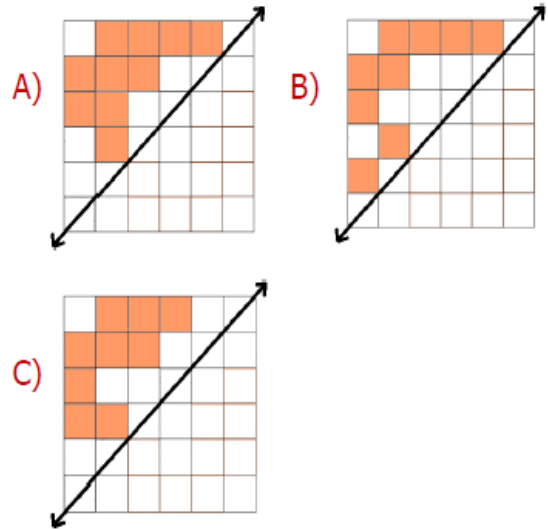
Üstteki rakamlardan **simetri doğrusu** olanlar ile **üç basamaklı** hangi sayı yazılabilir?

A) 308 B) 253 C) 806

11)



Yukarıdaki **boyalı** alanın doğruya göre **simetrisi** aşağıdakilerden hangisidir?



12) Aşağıdaki cisimlerden hangisinin **simetri doğrusu** vardır?

