

CÜMLE TAMAMLAMA ÇALIŞMASI

Verilen cümlelerdeki boş bırakılan yerlere uygun sözcükleri yazarak tamamlayınız.

- 1 . Yolda giden kamyonun üzerinden bir..... soğan düştü.
2. Babam eve gelirken iki tane almış.
3. Apartmandan çıkarken cüzdanımı fark ettim.
4. Okuldan çıktımgeldim.
5. Sana yeni biraldım.
6. Babamın kırmızı var.
7. Bayat ekmekleri doğradım.
8. Annemle birlikte gittik.
9. Yeşim'in minik birvardı.
- 1 0. Benim elbisem senin daha güzel.
- 1 1 . Kırmızı elmalarlezzetliydi.
- 1 2. Ülkemize gelen turistlere çokdavranmalıyız.
- 1 3.Dün gece sivrisinek uyuyamadım.
- 1 4. Öğretmen Selim'i kaldırdı.
- 1 5. Yasemin kızına adını koydu.
- 1 6. Annem ve babamgitti.
- 1 7. Kalemleri, defterleri toplayıp kaldır.
- 1 8. Dünya durdukça bayrağımızdalgalanacak.
- 1 9. Ablam bana örecek.
20. Sonbaharda leylekler sıcak göç ederler.
- 21 . Mektup yazmak için aldı.
22. Her akşam yatmadan önce okurum.
23. Hafta sonu uçaklagideceğim.
24. Öğretmen sınıfa girince tüm ayağa kalktı.

25. Ablam kadar değilim.
26. Ağabeyim bahçeye gül dikti.
27. İnci'nin ablası beşinci gidiyor.
28. Sabah yollardaki su birikintileri tutmuştu.
29. Dere kenarında tuttuk.
30. Nihayet çok istediğim alabildim.
31. Ayakkabım ayağıma geliyor.
32. Annem akşam bizlere patlattı.
33. Teyzem kilo alınca rejim karar verdi.
34. Karganın biri bir parça çalmış.
35. Ablam kahvaltıda bana sucuklu yaptı.
36. Sakın elmayı yeme.
37. Zeynep harçlığının harcamış.
38. Dün kısa bir süre yağdı.
39. Köpeği gören tavşan ağacın saklandı.
40. Kalemlerimi kalemlige unutmuşum.
41. Yaz tatilinde yüzme kursuna istiyorum.
42. Vedat oltasıyla dokuz balık yakalamış.
43. Okula giderken en kısakullanıyorum.
44. Çocuk baklavanın yedi.
45. Kurban bayramında kestik.
46. Vatanımızı canımızdan daha sevmeliyiz.

EŞİTLİK KAVRAMI

1. Etkinlik: Aşağıda verilen işlemleri inceleyiniz. "=" işaretinin doğru kullanıldığı işlemlerin çiçeklerini maviye, yanlış kullanılan işlemlerin çiçeklerini kırmızıya boyayalım.

$5 + 3 = 6 + 2$



$7 + 6 = 9 + 4$



$10 + 8 = 11 + 6$



$9 - 4 = 8 - 3$



$8 - 7 = 10 - 8$



$14 - 6 = 18 + 9$



$10 + 7 = 17$



$13 + 14 = 28$



$25 + 15 = 40$



$29 - 13 = 15$



$10 - 7 = 3$



$30 - 10 = 20$



$9 + 6 = 20 - 5$



$14 - 6 = 4 + 4$



$20 + 20 = 90 - 40$



2. Etkinlik: Aşağıda verilen işlemlerde eşitlik bozulmayacak şekilde "=" işaretinin sağına verilen işleme uygun olarak örnekteki gibi doldurunuz.

$7 + 5 = \boxed{9} + \boxed{3}$

$6 + 8 = \boxed{\dots} + \boxed{\dots}$

$9 - 4 = \boxed{\dots} + \boxed{\dots}$

$12 - 7 = \boxed{\dots} - \boxed{\dots}$

$15 - 5 = \boxed{\dots} - \boxed{\dots}$

$9 + 6 = \boxed{\dots} + \boxed{\dots}$

$4 + 3 = \boxed{\dots} - \boxed{\dots}$

$2 + 6 = \boxed{\dots} - \boxed{\dots}$

$15 - 9 = \boxed{\dots} - \boxed{\dots}$

$40 + 20 = \boxed{\dots} + \boxed{\dots}$

$10 + 9 = \boxed{\dots} + \boxed{\dots}$

$8 + 6 = \boxed{\dots} + \boxed{\dots}$



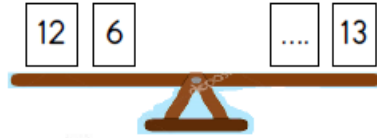


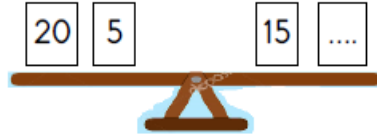





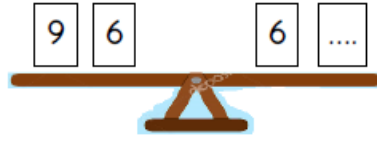

$6 + 2 = \boxed{\dots} - \boxed{\dots}$

$4 + 3 = \boxed{\dots} - \boxed{\dots}$

$17 - 7 = \boxed{\dots} + \boxed{\dots}$

EŞİTLİK KAVRAMI

1. Etkinlik: Aşağıdaki tahtaravallilerin dengede durabilmesi için noktalı yerlere gelecek sayıları bulalım.



2. Etkinlik: Aşağıda verilen işlemlerde eşitliğin sağlanması için kutulara gelecek sayıları bulalım. Bulduğumuz sayıyı aşağıda boyayalım.

$$4 + 5 = 3 + \dots$$

5 6 9

$$6 + 7 = \dots + 3$$

10 13 9

$$\dots + 8 = 10 + 7$$

17 10 9

$$9 - 4 = 7 - \dots$$

5 2 3

$$12 - 6 = 8 - \dots$$

6 1 2

$$\dots - 5 = 10 - 2$$

13 8 12

$$\dots + 10 = 30 + 20$$

40 50 30

$$5 + 5 = 16 - \dots$$

10 7 6

$$\dots + 5 = 20 - 8$$

6 7 12

$$\dots - 20 = 10 + 30$$

40 60 50

$$15 + \dots = 50 - 30$$

5 20 4

$$\dots - 8 = 9 + 7$$

16 24 23