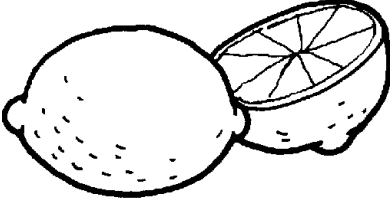


DOĞRUSUNU BULALIM



Aşağıdaki görsellerin isminin doğru yazılmış olanının kutucuğunu maviye, yanlış yazılmış olanının kutucuğunu kırmızıya boyayalım.




eski

eksi



kiprik

kirpik



sandiviç

sandviç




sarimsak

sarmisak



maydonoz

maydanoz



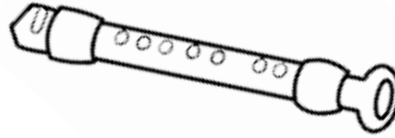
meyve

meyva




şöför

şoför




fülüt

flüt



abi

ağabey




tren

tiren



aşçı

ahçı



film

filim

DOĞRUSUNU BULALIM



Aşağıdaki kelimelerden doğru yazılmış olanların kutucuğunu örnekteki gibi işaretleyelim.



kibrit



sıpor



öğretmen



kirbit



spor



öretmen



tırafik



mikrop



satlık



trafik



mirkop



satılık



sovan



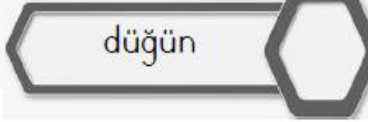
düvün



merdiven



soğan



düğün



merdüven



serbest



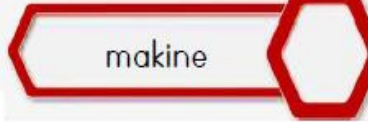
makina



pantolon



serbes



makine



pantolon



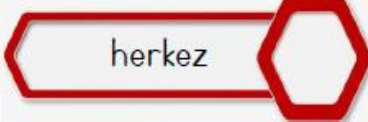
herkes



süpriz



sarz



herkez



sürpriz



şarj

BÖLME İŞLEMİ ALIŞTIRMALARI

Örnek: Verilen nesnelerle 2'erli gruplar oluşturunuz.



Nesne Toplamı	Gruplardaki Nesne Sayısı	Grup Sayısı
8	2	4

1. Verilen nesnelerle 2'erli gruplar oluşturunuz.



Nesne Toplamı	Gruplardaki Nesne Sayısı	Grup Sayısı

2. Verilen nesnelerle 4'erli gruplar oluşturunuz.



Nesne Toplamı	Gruplardaki Nesne Sayısı	Grup Sayısı

3. Verilen nesnelerle 3'erli gruplar oluşturunuz.



Nesne Toplamı	Gruplardaki Nesne Sayısı	Grup Sayısı

4. Verilen nesnelerle 5'erli gruplar oluşturunuz.



Nesne Toplamı	Gruplardaki Nesne Sayısı	Grup Sayısı

5. Verilen nesnelerle 2'erli gruplar oluşturunuz.




Nesne Toplamı	Gruplardaki Nesne Sayısı	Grup Sayısı

6. Verilen nesnelerle 3'erli gruplar oluşturunuz.



Nesne Toplamı	Gruplardaki Nesne Sayısı	Grup Sayısı

7. Verilen nesnelerle 2'erli gruplar oluşturunuz.



Nesne Toplamı	Gruplardaki Nesne Sayısı	Grup Sayısı

8. Verilen nesnelerle 4'erli gruplar oluşturunuz.



Nesne Toplamı	Gruplardaki Nesne Sayısı	Grup Sayısı

BÖLME İŞLEMİ ALIŞTIRMALARI

Örnek: Verilen nesnelerle 2'erli gruplar oluşturunuz.



Nesne Toplamı	Gruplardaki Nesne Sayısı	Grup Sayısı
6	2	3

1. Verilen nesnelerle 3'erli gruplar oluşturunuz.



Nesne Toplamı	Gruplardaki Nesne Sayısı	Grup Sayısı
<input type="text"/>	<input type="text"/>	<input type="text"/>

2. Verilen nesnelerle 3'erli gruplar oluşturunuz.



Nesne Toplamı	Gruplardaki Nesne Sayısı	Grup Sayısı
<input type="text"/>	<input type="text"/>	<input type="text"/>

3. Verilen nesnelerle 2'erli gruplar oluşturunuz.



Nesne Toplamı	Gruplardaki Nesne Sayısı	Grup Sayısı
<input type="text"/>	<input type="text"/>	<input type="text"/>

4. Verilen nesnelerle 5'erli gruplar oluşturunuz.



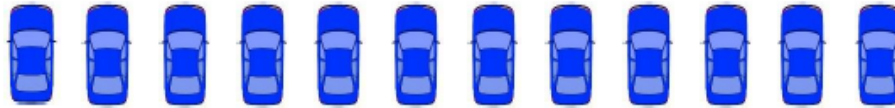
Nesne Toplamı	Gruplardaki Nesne Sayısı	Grup Sayısı
<input type="text"/>	<input type="text"/>	<input type="text"/>

5. Verilen nesnelerle 2'erli gruplar oluşturunuz.



Nesne Toplamı	Gruplardaki Nesne Sayısı	Grup Sayısı
<input type="text"/>	<input type="text"/>	<input type="text"/>

6. Verilen nesnelerle 4'erli gruplar oluşturunuz.



Nesne Toplamı	Gruplardaki Nesne Sayısı	Grup Sayısı
<input type="text"/>	<input type="text"/>	<input type="text"/>

7. Verilen nesnelerle 4'erli gruplar oluşturunuz.



Nesne Toplamı	Gruplardaki Nesne Sayısı	Grup Sayısı
<input type="text"/>	<input type="text"/>	<input type="text"/>

8. Verilen nesnelerle 2'erli gruplar oluşturunuz.



Nesne Toplamı	Gruplardaki Nesne Sayısı	Grup Sayısı
<input type="text"/>	<input type="text"/>	<input type="text"/>