

HECELERİNE AYIRMA ETKİNLİĞİ

*Hece sayısı bulunurken sözcükteki sesli harfler sayılabilir.

Ör:Tren sözcüğünde 1 e sesli harfi vardır ve 1 hecelidir.

Traktör sözcüğünde a ve ö sesli harfleri vardır.Trak-tör 2 hecelidir.

SESLİ HARFLER: a-e-ı-i-o-ö-u-ü

Kelimeler	Ünlü harfleri	Ünsüz harfler	Hecelerine ayrılışı	Hece Sayısı
kalemin	a-e-i	k-l-m-n	Ka-le-min	3
tren				
sulamadım				
bahçeye				
okulumuz				
çorbacı				
yemek				
bebeğimiz				
çalmađı				
spor				1
sporcu				
cumhuriyet				
hürriyet				
kalp				
kalpsiz				
kurt				
kurtlu				
anneciğim				

IRMAĞIN DERİNLİĞİ

İrmak kenarında küçük bir çocuk oynuyordu. Bu sırada ırmağın karşı kıyısına bir adam geldi. Çocuğa seslendi:

- Oğlum, ırmak derin midir? Karşıya geçmek istiyorum da...

Çocuk ona:

- Derin değil amca, dedi.

Adam ayakkabılarını çıkarıp ırmağa girdi. Biraz yürüdü. Su adamın boyuna kadar geldi. Kendini güçlkle kurtarıp kıyıya çıktı.

Öfke ile çocuğa çıkıştı:

- Hani ırmak derin değildi? Az kalsın boğulacaktım.

Çocuk başını sallayıp:

- Çok tuhaf, dedi. Az önce bir ördek geçti. Ona hiçbir şey olmadı.

OKUDUĞUMUZU ANLADIK MI?

Aşağıdaki cümleleri tamamlayan doğru cümleyi işaretleyin.

1. Adam ırmağın derin olup olmadığını öğrenmek istedi.

Çünkü ırmaktan karşıya geçecekti.

Çünkü ırmakta balık avlayacaktı.

2. Su adamın boyuna kadar geliyordu.

Çünkü adam yüzünü yıkadı.

Çünkü su derindi.

3. Adam öfkeleni.

Çünkü ayakkabılarını suya düşürdü.

Çünkü çocuğun yalan söylediğini düşündü.

4. Adam ırmağa girdi.

Çünkü su derin değil diye düşündü.

Çünkü çocuk "derin değil" dedi.

5. Adam ayakkabılarını çıkardı.

Çünkü ırmağa girecekti.

Çünkü ayakları terlemişti.

6. Adam çocuğa çok kızdı.

Çünkü çocuğu sevmemişti.

Çünkü az kalsın boğulacaktı.

7. Çocuk adama ırmak derin değil dedi.

Çünkü bir ördek geçmiş, ona bir şey olmamış.

Çünkü derin olmadığını biliyormuş.

NESNE SAYISINI TAHMİN ETME

1- Aşağıda verilen oyuncak arabaların sayısını tahmin ediniz. Tahmininizi aşağıda belirtilen kısma yazınız. Sonrada arabaları sayarak gerçek sayılarını bulunuz. Gerçek sonuç ile tahmin edilen sayı arasındaki farkı bulalım.






Tahmini sayım :

Gerçek sayısı :


Tahminim ile gerçek sayısı arasındaki fark:

2- Aşağıdaki nesnelerin sayısını tahmin ediniz. Nesneleri sayınız. Tahmininizi ve gerçek sonucu yazınız.

Nesneler	Tahmini Sonuç	Gerçek Sonuç
		
		
		


Alıřtırmalar

- 1 Verilen nesnelerin sayısını tahmin ediniz. Tahmininizi sayarak kontrol ediniz.



Tahminim =

Nesne sayısı =



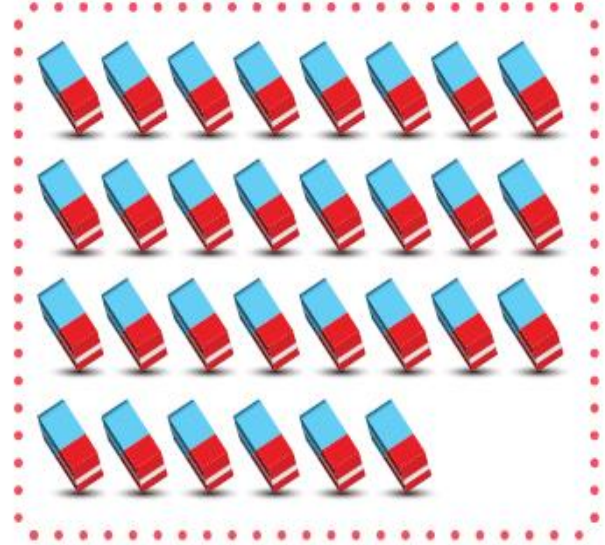
Tahminim =

Nesne sayısı =



Tahminim =

Nesne sayısı =



Tahminim =

Nesne sayısı =

- 2 Yandaki hesap makinesinde tahminen kaç tuř vardır? Tuřları sayarak tahmininiz ile karşılaştırınız.

